

Capitolo 1

L'insieme dei numeri macchina

1.1 Introduzione al Calcolo Numerico

Il Calcolo Numerico è una disciplina che fa parte di un ampio settore della Matematica Applicata che prende il nome di Analisi Numerica. Si tratta di una materia che è al confine tra la Matematica e l'Informatica poichè cerca di risolvere i consueti problemi matematici utilizzando però una via algoritmica. In pratica i problemi vengono risolti indicando un processo che, in un numero finito di passi, fornisca una soluzione numerica e soprattutto che sia implementabile su un elaboratore. I problemi matematici che saranno affrontati nelle pagine seguenti sono problemi di base: risoluzione di sistemi lineari, approssimazione delle radici di funzioni non lineari, approssimazione di funzioni e dati sperimentali, calcolo di integrali definiti. Tali algoritmi di base molto spesso non sono altro se non un piccolo ingranaggio nella risoluzione di problemi ben più complessi.

1.2 Rappresentazione in base di un numero reale

Dovendo considerare problemi in cui l'elaboratore effettua computazioni esclusivamente su dati di tipo numerico risulta decisivo iniziare la trattazione degli argomenti partendo dalla rappresentazione di numeri. Innanzitutto è opportuno precisare che esistono due modi per rappresentare i numeri: la cosiddetta **notazione posizionale**, in cui il valore di una cifra dipende dalla posizione

in cui si trova all'interno del numero, da quella **notazione non posizionale**, in cui ogni numero è rappresentato da uno, o da un insieme di simboli (si pensi come esempio alla numerazione usata dai Romani). La motivazione che spinge a considerare come primo problema quello della rappresentazione di numeri reali è che ovviamente si deve sapere il livello di affidabilità dei risultati forniti dall'elaboratore. Infatti bisogna osservare che i numeri reali sono infiniti mentre la memoria di un calcolatore ha una capacità finita che ne rende impossibile la rappresentazione esatta. Una seconda osservazione consiste nel fatto che un numero reale ammette molteplici modi di rappresentazione. Per esempio scrivere

$$x = 123.47$$

è la rappresentazione, in forma convenzionale, dell'espressione

$$x = 123.47 = 1 \times 10^2 + 2 \times 10^1 + 3 \times 10^0 + 4 \times 10^{-1} + 7 \times 10^{-2},$$

da cui, mettendo in evidenza 10^2 :

$$x = 10^2 \times (1 \times 10^0 + 2 \times 10^{-1} + 3 \times 10^{-2} + 4 \times 10^{-3} + 7 \times 10^{-4})$$

mentre, mettendo in evidenza 10^3 lo stesso numero viene scritto come

$$x = 10^3 \times (1 \times 10^{-1} + 2 \times 10^{-2} + 3 \times 10^{-3} + 4 \times 10^{-4} + 7 \times 10^{-5})$$

deducendo che ogni numero, senza una necessaria rappresentazione convenzionale, può essere scritto in infiniti modi. Il seguente teorema è fondamentale proprio per definire la rappresentazione dei numeri reali in una determinata base β .

Teorema 1.2.1 *Sia $\beta \in \mathbb{N}$, $\beta \geq 2$, allora ogni numero reale x , $x \neq 0$, può essere rappresentato univocamente in base β nel seguente modo*

$$x = \pm \beta^p \sum_{i=1}^{\infty} d_i \beta^{-i}$$

dove $p \in \mathbb{Z}$, e i valori $d_i \in \mathbb{N}$ (detti **cifre**), verificano le seguenti proprietà:

1. $d_i \in \{0, 1, 2, 3, \dots, \beta - 1\}$;
2. $d_1 \neq 0$;
3. le cifre d_i non sono definitivamente uguali a $\beta - 1$.

Evitiamo la dimostrazione del Teorema 1.2.1 ma osserviamo che la terza ipotesi è essenziale per l'unicità della rappresentazione. Consideriamo infatti il seguente esempio (in base $\beta = 10$).

$$\begin{aligned}
 x &= 0.999999999 \dots \\
 &= 9 \times 10^{-1} + 9 \times 10^{-2} + 9 \times 10^{-3} + \dots \\
 &= \sum_{i=1}^{\infty} 9 \cdot 10^{-i} = 9 \sum_{i=1}^{\infty} \left(\frac{1}{10}\right)^i \\
 &= 9 \left(\frac{1}{10}\right) \left(1 - \frac{1}{10}\right)^{-1} \\
 &= 9 \left(\frac{1}{10}\right) \left(\frac{10}{9}\right) = 1.
 \end{aligned}$$

L'ultima uguaglianza deriva dalla convergenza della serie geometrica

$$\sum_{i=0}^{\infty} q^i = \frac{1}{1-q}$$

quando $0 < q < 1$, da cui segue

$$1 + \sum_{i=1}^{\infty} q^i = \frac{1}{1-q}$$

e

$$\sum_{i=1}^{\infty} q^i = \frac{1}{1-q} - 1 = \frac{q}{1-q}.$$

In conclusione, senza la terza ipotesi del Teorema 1.2.1, al numero 1 corrisponderebbero due differenti rappresentazioni in base.

Considerato un numero reale $x \in \mathbb{R}$, $x \neq 0$, l'espressione

$$x = \pm \beta^p \times 0.d_1d_2 \dots d_k \dots$$

prende il nome di **rappresentazione in base β di x** . Il numero p viene detto **esponente** (o **caratteristica**), i valori d_i sono le **cifre della rappresentazione**, mentre il numero decimale $0.d_1d_2 \dots d_k \dots$ si dice **mantissa**. Il numero

x viene normalmente rappresentato con la cosiddetta **notazione posizionale** $x = \text{segno}(x)(.d_1d_2d_3\dots) \times \beta^p$, che viene detta **normalizzata**. In alcuni casi è ammessa una rappresentazione in notazione posizionale tale che $d_1 = 0$, che viene detta **denormalizzata**. Le basi più utilizzate sono $\beta = 10$ (**sistema decimale**), $\beta = 2$ (**sistema binario**, che, per la sua semplicità, è quello utilizzato dagli elaboratori elettronici), e $\beta = 16$ (**sistema esadecimale**) e comunque la base è sempre un numero pari. Nel sistema esadecimale le cifre appartengono all'insieme

$$\{0, 1, 2, 3, 4, 5, 6, 7, 8, 9, A, B, C, D, E, F\}.$$

Bisogna tenere presente che un qualunque numero reale $x \neq 0$ può essere rappresentato con **infinite cifre** nella mantissa e inoltre l'insieme dei numeri reali ha cardinalità infinita. Poichè un elaboratore è dotato di **memoria finita** non è possibile memorizzare:

- a) gli infiniti numeri reali
- b) le infinite (in generale) cifre di un numero reale.

1.3 L'insieme dei numeri macchina

Assegnati i numeri $\beta, t, m, M \in \mathbb{N}$ si definisce **insieme dei numeri di macchina con rappresentazione normalizzata in base β con t cifre significative**

$$\mathbb{F}(\beta, t, m, M) = \left\{ x \in \mathbb{R} : x = \pm \beta^p \sum_{i=1}^t d_i \beta^{-i} \right\} \cup \{0\}$$

dove

1. $t \geq 1, \beta \geq 2, m, M > 0$;
2. $d_i \in \{0, 1, \dots, \beta - 1\}$;
3. $d_1 \neq 0$;
4. $p \in \mathbb{Z}, -m \leq p \leq M$.

È stato necessario aggiungere il numero zero all'insieme in quanto non ammette rappresentazione in base normalizzata.

Osserviamo che un elaboratore la cui memoria abbia le seguenti caratteristiche (riportate anche in Figura 1.1):

- t campi di memoria per la mantissa, ciascuno dei quali può assumere β differenti configurazioni (e perciò può memorizzare una cifra d_i),

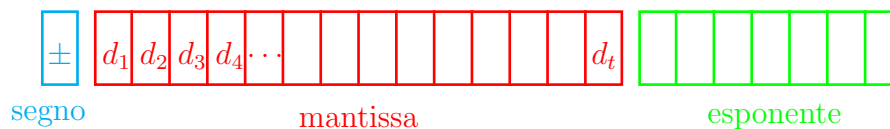


Figura 1.1: Locazione di memoria.

- un campo di memoria che può assumere $m + M + 1$ differenti configurazioni (e perciò può memorizzare i differenti valori p dell'esponente),
- un campo che può assumere due differenti configurazioni (e perciò può memorizzare il segno $+$ o $-$),

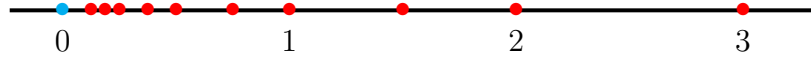
è in grado di rappresentare tutti gli elementi dell'insieme $\mathbb{F}(\beta, t, m, M)$. In realtà poichè se $\beta = 2$ risulta sicuramente $d_1 = 1$, allora in alcuni standard non viene memorizzata la prima cifra della mantissa. Il più piccolo numero positivo appartenente all'insieme $\mathbb{F}(\beta, t, m, M)$ si ottiene prendendo la più piccola mantissa (ovvero 0.1) ed il più piccolo esponente

$$x = 0.1 \times \beta^{-m}$$

mentre il più grande ha tutte le cifre della mantissa uguali alla cifra più grande (ovvero $\beta - 1$) ed il massimo esponente

$$x = 0.\underbrace{dd \dots dd}_t \beta^M, \quad d = \beta - 1.$$

Un'ultima osservazione riguarda il fatto che non è necessario rappresentare il segno dell'esponente poichè questo viene memorizzato utilizzando un'opportuna traslazione, detta **offset**, che lo rende sempre positivo. Consideriamo ora come esempio l'insieme $\mathbb{F}(2, 2, 2, 2)$, cioè i numeri binari con mantissa di due cifre ed esponente compreso tra -2 e 2. Enumeriamo gli elementi di questo insieme. Poichè il numero zero non appartiene all'insieme dei numeri macchina viene rappresentato solitamente con mantissa nulla ed esponente

Figura 1.2: Elementi dell'insieme $\mathbb{F}(2, 2, 2, 2)$.

$-m$.

$$p = -2 \quad \begin{aligned} x &= 0.10 \times 2^{-2} = 2^{-1} \times 2^{-2} = 2^{-3} = 0.125; \\ x &= 0.11 \times 2^{-2} = (2^{-1} + 2^{-2}) \times 2^{-2} = 3/16 = 0.1875; \end{aligned}$$

$$p = -1 \quad \begin{aligned} x &= 0.10 \times 2^{-1} = 2^{-1} \times 2^{-1} = 2^{-2} = 0.25; \\ x &= 0.11 \times 2^{-1} = (2^{-1} + 2^{-2}) \times 2^{-1} = 3/8 = 0.375; \end{aligned}$$

$$p = 0 \quad \begin{aligned} x &= 0.10 \times 2^0 = 2^{-1} \times 2^0 = 2^{-1} = 0.5; \\ x &= 0.11 \times 2^0 = (2^{-1} + 2^{-2}) \times 2^0 = 3/4 = 0.75; \end{aligned}$$

$$p = 1 \quad \begin{aligned} x &= 0.10 \times 2^1 = 2^{-1} \times 2^1 = 1; \\ x &= 0.11 \times 2^1 = (2^{-1} + 2^{-2}) \times 2^1 = 3/2 = 1.5; \end{aligned}$$

$$p = 2 \quad \begin{aligned} x &= 0.10 \times 2^2 = 2^{-1} \times 2^2 = 2; \\ x &= 0.11 \times 2^2 = (2^{-1} + 2^{-2}) \times 2^2 = 3. \end{aligned}$$

Nella Figura 1.2 è rappresentato l'insieme dei numeri macchina positivi appartenenti a $\mathbb{F}(2, 2, 2, 2)$ (i numeri negativi sono esattamente simmetrici rispetto allo zero). Dalla rappresentazione dell'insieme dei numeri macchina si evincono le seguenti considerazioni:

1. L'insieme è discreto;
2. I numeri rappresentabili sono solo una piccola parte dell'insieme \mathbb{R} ;
3. La distanza tra due numeri macchina consecutivi è β^{p-t} , infatti, considerando per semplicità numeri positivi, sia

$$x = +\beta^p \times (0.d_1d_2 \dots d_{t-1}d_t)$$

il successivo numero macchina è

$$y = +\beta^p \times (0.d_1d_2 \dots d_{t-1}\tilde{d}_t)$$

dove

$$\tilde{d}_t = d_t + 1.$$

La differenza è pertanto

$$y - x = +\beta^p(0.\underbrace{00 \dots 00}_{t-1}1) = \beta^{p-t}.$$

Nello standard IEEE (Institute of Electric and Electronic Engineers) singola precisione una voce di memoria ha 32 bit, dei quali 1 riservato al segno, 8 all'esponente e 23 alla mantissa. Allora $\beta = 2$, $t = 23$, $m = 127$ e $M = 128$. In questo caso il valore dell'offset è 127 quindi per esempio l'esponente -30 viene rappresentato come il numero 97 ($= -30 + 127$). Nella realtà spesso non tutte le rappresentazioni dell'esponente sono ammesse (per esempio gli esponenti 0 e 255 sono riservati ad alcune situazioni particolari, ma su questo non è opportuno soffermarsi ulteriormente).

Per la doppia precisione si utilizzano 64 bit, di cui 1 per il segno, 11 per l'esponente e 52 per la mantissa. Dunque $\beta = 2$, $t = 52$, $m = 1023$ e $M = 1024$. Dopo aver compreso la struttura dell'insieme $\mathbb{F}(\beta, t, m, M)$ resta da capire come, assegnato un numero reale x sia possibile rappresentarlo nell'insieme dei numeri macchina, ovvero quale elemento $\tilde{x} \in \mathbb{F}(\beta, t, m, M)$ possa essergli associato in modo da commettere il più piccolo errore di rappresentazione possibile. Supponiamo ora che la base β sia un numero pari. Possono presentarsi diversi casi:

- Sia

$$x = \pm \beta^p \sum_{i=1}^n d_i \beta^{-i}$$

con $d_1 \neq 0$, $n \leq t$, e $-m \leq p \leq M$. Allora è evidente che $x \in \mathbb{F}(\beta, t, m, M)$ e pertanto verrà rappresentato esattamente su un qualunque elaboratore che utilizzi $\mathbb{F}(\beta, t, m, M)$ come insieme dei numeri di macchina.

- Sia

$$x = \pm \beta^p \sum_{i=1}^n d_i \beta^{-i}$$

con $n \leq t$ ma supponiamo che $p \notin [-m, M]$. Se $p < -m$ allora x è più piccolo del più piccolo numero di macchina: in questo caso si dice che si è verificato un **underflow** (l'elaboratore interrompe la sequenza di calcoli e segnala con un messaggio l'underflow). Se $p > M$ allora vuol dire che x è più grande del più grande numero di macchina e in questo caso si dice che si è verificato un **overflow** (anche in questo caso l'elaboratore si ferma e segnala l'overflow, anche se tale eccezione può anche essere gestita via software in modo tale che l'elaborazione continui).

- Sia

$$x = \pm \beta^p \sum_{i=1}^n d_i \beta^{-i}$$

con l'esponente $-m \leq p \leq M$ ma $n > t$ ed inoltre esiste un indice k , $t < k \leq n$, tale che $d_k \neq 0$. In questo caso, poichè la mantissa di x ha più di t cifre decimali, $x \notin \mathbb{F}(\beta, t, m, M)$. È però possibile rappresentare x mediante un numero in $\mathbb{F}(\beta, t, m, M)$ con un'opportuna operazione di taglio delle cifre decimali che seguono la t -esima. Per questo si possono utilizzare due diverse tecniche di approssimazione:

1. **troncamento di x alla t -esima cifra significativa**

$$\tilde{x} = \text{tr}(x) = \beta^p \times 0.d_1 d_2 \dots d_t$$

2. **arrotondamento di x alla t -esima cifra significativa**

$$\tilde{x} = \text{arr}(x) = \beta^p \times 0.d_1 d_2 \dots \tilde{d}_t$$

dove

$$\tilde{d}_t = \begin{cases} d_t + 1 & \text{se } d_{t+1} \geq \beta/2 \\ d_t & \text{se } d_{t+1} < \beta/2. \end{cases}$$

Per esempio se $\beta = 10$, $t = 5$ e $x = 0.654669235$ allora

$$\text{tr}(x) = 0.65466, \quad \text{arr}(x) = 0.65467$$

In pratica quando il numero reale x non appartiene all'insieme $\mathbb{F}(\beta, t, m, M)$ esistono sicuramente due numeri $a, b \in \mathbb{F}(\beta, t, m, M)$, tali che

$$a < x < b. \tag{1.1}$$

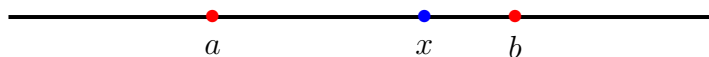


Figura 1.3: Stima dell'errore di rappresentazione nel caso di troncamento.

come riportato nella Figura 1.3. Supponendo per semplicità $x > 0$ si ha che

$$tr(x) = a$$

mentre se $x \geq (a + b)/2$ allora

$$arr(x) = b$$

altrimenti

$$arr(x) = a.$$

L'arrotondamento è un'operazione che fornisce sicuramente un risultato più preciso (come risulterà evidente nel prossimo paragrafo), ma può dar luogo ad overflow. Infatti se

$$x = 0.\underbrace{d\ d\ d\ d\ d \dots d\ d\ d}_{t+1} \times \beta^M$$

con $d = \beta - 1$, allora

$$arr(x) = 1.0\beta^M = 0.1\beta^{M+1} \notin \mathbb{F}(\beta, t, m, M).$$

La rappresentazione di $x \in \mathbb{R}$ attraverso $\tilde{x} \in \mathbb{F}(\beta, t, m, M)$ si dice **rappresentazione in virgola mobile di x** o **rappresentazione floating point**, con troncamento se $\tilde{x} = tr(x)$, con arrotondamento se $\tilde{x} = arr(x)$. Talvolta il numero macchina che rappresenta $x \in \mathbb{R}$ viene indicato con $fl(x)$.

1.4 Errore Assoluto ed Errore Relativo

Una volta definite le modalità per associare ad un numero reale x la sua rappresentazione macchina \tilde{x} si tratta di stabilire l'errore che si commette in

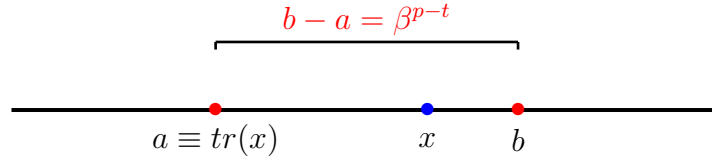


Figura 1.4: Stima dell'errore di rappresentazione nel caso di troncamento.

questa operazione di approssimazione. Si possono definire due tipi di errori, l'errore assoluto e l'errore relativo.

Se $x \in \mathbb{R}$ ed \tilde{x} è una sua approssimazione allora si definisce **errore assoluto** la quantità

$$E_a = |\tilde{x} - x|$$

mentre se $x \neq 0$ si definisce **errore relativo** la quantità

$$E_r = \frac{|\tilde{x} - x|}{|x|}.$$

Se $E_r \leq \beta^{-q}$ allora si dice che \tilde{x} ha almeno q cifre significative corrette. Nel seguito assumeremo $x > 0$ e supporremo anche che la rappresentazione di x in $\mathbb{F}(\beta, t, m, M)$ non dia luogo ad underflow o overflow. Calcoliamo ora una maggiorazione per tali errori nel caso in cui \tilde{x} sia il troncamento di $x > 0$. Nella Figura 1.4 a e b rappresentano i due numeri macchina tali che sia vera la relazione (1.1). È evidente che risulta

$$|tr(x) - x| < b - a = \beta^{p-t}.$$

Per maggiore l'errore relativo osserviamo che

$$|x| = +\beta^p \times 0.d_1d_2d_3 \dots \geq \beta^p \times 0.1 = \beta^{p-1}.$$

da cui

$$\frac{1}{|x|} \leq \beta^{1-p}$$

e quindi

$$\frac{|tr(x) - x|}{|x|} \leq \beta^{p-t} \times \beta^{1-p} = \beta^{1-t}. \quad (1.2)$$

Passiamo ora alla valutazione degli errori quando

$$\tilde{x} = arr(x).$$

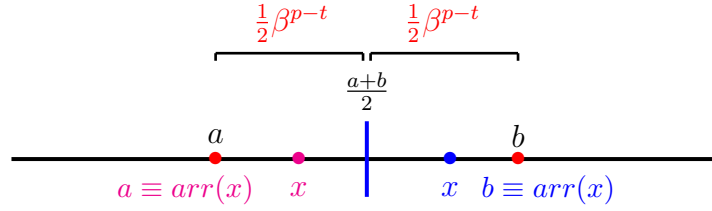


Figura 1.5: Stima dell'errore di rappresentazione nel caso di arrotondamento.

Nella Figura 1.5 a e b rappresentano i due numeri macchina tali che sia vera la relazione (1.1). Se $x > 0$ si trova a sinistra del punto medio $(a + b)/2$ allora l'arrotondamento coincide con il valore a , se si trova nel punto medio oppure alla sua destra allora coincide con b . È evidente che il massimo errore si ottiene quando x coincide con il punto medio tra a e b risulta

$$|\text{arr}(x) - x| \leq \frac{1}{2}(b - a) = \frac{1}{2}\beta^{p-t}.$$

Per aumentare l'errore relativo procediamo come nel caso del troncamento di x :

$$\frac{|\text{arr}(x) - x|}{|x|} \leq \frac{1}{2}\beta^{p-t} \times \beta^{1-p} = \frac{1}{2}\beta^{1-t}. \quad (1.3)$$

Le quantità che compaiono a destra delle maggiorazioni (1.2) e (1.3), ovvero

$$u = \beta^{1-t}$$

oppure

$$u = \frac{1}{2}\beta^{1-t}$$

sono dette **precisione di macchina** o **zero macchina** per il troncamento (o per l'arrotondamento, in base alla tecnica in uso).

Posto

$$\varepsilon_x = \frac{\tilde{x} - x}{x}, \quad |\varepsilon_x| \leq u$$

risulta

$$\tilde{x} = x(1 + \varepsilon_x) \quad (1.4)$$

che fornisce la relazione tra un numero $x \in \mathbb{R}$ e la sua rappresentazione macchina.

1.4.1 Operazioni Macchina

Se $x, y \in \mathbb{F}(\beta, t, m, M)$ non è detto che il risultato di un'operazione aritmetica tra x e y sia un numero macchina. Per esempio se $x, y \in \mathbb{F}(2, 2, m, M)$ e $x = 0.11 \cdot 2^0$ e $y = 0.11 \cdot 2^{-2}$, allora

$$x + y = 0.1111 \notin \mathbb{F}(2, 2, m, M).$$

Si pone il problema di definire le operazioni aritmetiche in modo tale che ciò non accada. Se \cdot è una delle quattro operazioni aritmetiche di base allora il risultato è un numero macchina se

$$x \cdot y = fl(x \cdot y). \quad (1.5)$$

L'operazione definita dalla relazione (1.5) è detta **operazione macchina**. L'operazione macchina associata a \cdot viene indicata con \odot e deve soddisfare anch'essa la relazione (1.4), ovvero dev'essere:

$$x \odot y = (x \cdot y)(1 + \varepsilon), \quad |\varepsilon| < u \quad (1.6)$$

per ogni $x, y \in \mathbb{F}(\beta, t, m, M)$ tali che $x \odot y$ non dia luogo ad overflow o underflow. Si può dimostrare che

$$x \odot y = tr(x \cdot y)$$

e

$$x \odot y = arr(x \cdot y)$$

soddisfano la (1.6) e dunque danno luogo ad operazioni di macchina. Le quattro operazioni così definite danno luogo alla **aritmetica di macchina** o **aritmetica finita**. La **somma algebrica macchina** (addizione e sottrazione) tra due numeri $x, y \in \mathbb{F}(\beta, t, m, M)$ richiede le seguenti fasi:

1. Si scala la mantissa del numero con l'esponente minore in modo tale che i due addendi abbiano lo stesso esponente (ovvero quello dell'esponente maggiore);
2. Si esegue la somma tra le mantisse;
3. Si normalizza il risultato aggiustando l'esponente in modo tale che la mantissa sia un numero minore di 1.

4. Si arrotonda (o si tronca) la mantissa alle prime t cifre;

Consideriamo per esempio i numeri $x, y \in \mathbb{F}(10, 5, m, M)$

$$x = 0.78546 \times 10^2, \quad y = 0.61332 \times 10^{-1}$$

e calcoliamo il numero macchina $x \oplus y$.

1. Scaliamo il numero y fino ad ottenere esponente 2 (quindi si deve spostare il punto decimale di 3 posizioni), $y = 0.00061332 \times 10^2$;
2. Sommiamo le mantisse $0.78546 + 0.00061332 = 0.78607332$;
3. Questa fase non è necessaria perchè la mantissa è già minore di 1;
4. Si arrotonda alla quinta cifra decimale ottenendo

$$x \oplus y = 0.78607 \times 10^2.$$

Un fenomeno particolare, detto **cancellazione di cifre significative**, si verifica quando si effettua la sottrazione tra due numeri reali all'incirca uguali. Consideriamo per esempio la differenza tra i due numeri

$$x = 0.75868531 \times 10^2, \quad y = 0.75868100 \times 10^2$$

nell'insieme $\mathbb{F}(10, 5, m, M)$. Risulta

$$fl(x) = 0.75869 \times 10^2, \quad fl(y) = 0.75868 \times 10^2$$

e quindi

$$fl(fl(x) - fl(y)) = 0.1 \times 10^{-2}$$

mentre

$$x - y = 0.431 \times 10^{-3}$$

Calcolando l'errore relativo sul risultato dell'operazione si trova

$$E_r = \frac{fl(fl(x) - fl(y)) - (x - y)}{x - y} \simeq 1.32019$$

che è un valore piuttosto alto.

Per esemplificare il fenomeno appena descritto consideriamo il problema di calcolare (per esempio in MatLab) le radici dell'equazione di secondo grado

$$p(x) = ax^2 + bx + c$$

applicando la consueta formula

$$x_1 = \frac{-b + \sqrt{b^2 - 4ac}}{2a}, \quad x_2 = \frac{-b - \sqrt{b^2 - 4ac}}{2a}. \quad (1.7)$$

In alternativa si potrebbe calcolare la radice più grande in modulo

$$r_1 = \frac{-b - \operatorname{segno}(b)\sqrt{b^2 - 4ac}}{2a} \quad (1.8)$$

e poi, sfruttando la proprietà che il prodotto tra le radici è pari a c/a , ottenere la seconda radice ponendo

$$r_2 = \frac{c}{ar_1}. \quad (1.9)$$

Considerando il polinomio

$$p(x) = x^2 - (10^7 + 10^{-7})x + 1$$

che ammette come radici 10^7 e 10^{-7} , applicando le formule (1.7), si ottiene

$$x_1 = 10^7, \quad x_2 = 9.9652e - 008$$

mentre utilizzando le formule (1.8) e (1.9) i risultati sono esatti

$$r_1 = 10^7, \quad r_2 = 10^{-7}.$$

Nel primo caso il calcolo della radice x_1 avviene effettuando la differenza tra due numeri (ovvero $-b$ e $\sqrt{b^2 - 4ac}$) che sono molto vicini tra loro e pertanto generano il suddetto fenomeno. Nel secondo caso non viene effettuata alcuna differenza e pertanto il risultato è corretto.

Il **prodotto macchina** tra due numeri $x, y \in \mathbb{F}(\beta, t, m, M)$ richiede le seguenti fasi:

1. Si esegue il prodotto tra le mantisse;
2. Si esegue l'arrotondamento (o il troncamento) alle prime t cifre normalizzando, se necessario, la mantissa;
3. Si sommano gli esponenti.

Consideriamo per esempio il prodotto tra i due numeri

$$x = 0.11111 \times 10^3, \quad y = 0.52521 \times 10^2$$

nell'insieme $\mathbb{F}(10, 5, m, M)$.

1. Il prodotto delle mantisse produce 0.05835608;
2. L'arrotondamento a 5 cifre produce 0.58356×10^{-1} ;
3. La somma degli esponenti fornisce come risultato

$$x * y = 0.58356 \times 10^{3+2-1} = 0.58356 \times 10^4.$$

La **divisione macchina** tra due numeri $x, y \in \mathbb{F}(\beta, t, m, M)$ richiede le seguenti fasi:

1. Si scala il dividendo x finchè la sua mantissa risulti minore di quella del divisore y ;
2. Si esegue la divisione tra le mantisse;
3. Si esegue l'arrotondamento (o il troncamento) alle prime t cifre;
4. Si sottraggono gli esponenti.

Consideriamo la divisione tra i due numeri

$$x = 0.12100 \times 10^5, \quad y = 0.11000 \times 10^2$$

nell'insieme $\mathbb{F}(10, 5, m, M)$.

1. Scaliamo il dividendo di una cifra decimale 0.012100; l'esponente diventa 6;
2. Dividiamo le mantisse $0.012100/0.11000 = 0.11000$;
3. Il troncamento fornisce lo stesso numero 0.11000;
4. Si sottraggono gli esponenti ottenendo il risultato

$$x \oslash y = 0.11000 \times 10^4.$$

Si può dimostrare che valgono le seguenti proprietà:

1. L'insieme $\mathbb{F}(\beta, t, m, M)$ non è chiuso rispetto alle operazioni macchina;

2. L'elemento neutro per la somma non è unico: infatti consideriamo i due numeri macchina

$$x = 0.15678 \times 10^3, \quad y = 0.25441 \times 10^{-2},$$

appartenenti all'insieme $\mathbb{F}(10, 5, m, M)$, innanzitutto si scala y

$$y = 0.0000025441 \times 10^3,$$

sommando le mantisse si ottiene 0.1567825441 mentre l'arrotondamento fornisce il risultato finale

$$x \oplus y = 0.15678 \times 10^3 = x.$$

3. L'elemento neutro per il prodotto non è unico;
4. Non vale la proprietà associativa di somma e prodotto;
5. Non vale la proprietà distributiva della somma rispetto al prodotto.

Capitolo 2

Equazioni non Lineari

2.1 Introduzione

Le radici di un'equazione non lineare $f(x) = 0$ non possono, in generale, essere espresse esplicitamente e anche se ciò è possibile spesso l'espressione si presenta in forma talmente complicata da essere praticamente inutilizzabile. Di conseguenza per poter risolvere equazioni di questo tipo siamo obbligati ad utilizzare metodi numerici che sono, in generale, di tipo iterativo, cioè partendo da una (o in alcuni casi più) approssimazioni della radice, producono una successione x_0, x_1, x_2, \dots , convergente alla radice. Per alcuni di questi metodi per ottenere la convergenza è sufficiente la conoscenza di un intervallo $[a, b]$ che contiene la soluzione, altri metodi richiedono invece la conoscenza di una buona approssimazione iniziale. Talvolta è opportuno utilizzare in maniera combinata due metodi, uno del primo tipo e uno del secondo.

2.2 Localizzazione delle radici

Nei successivi paragrafi saranno descritti alcuni metodi numerici per il calcolo approssimato delle radici di un'equazione non lineare. Tali metodi numerici sono di tipo iterativo, ovvero consistono nel definire una successione (o più successioni), che, a partire da un'assegnata approssimazione iniziale (nota), converga alla radice α in un processo al limite. Infatti poichè non esistono tecniche generali che consentano di trovare l'espressione esplicita di α in un numero finito di operazioni, allora questa può essere calcolata in modo

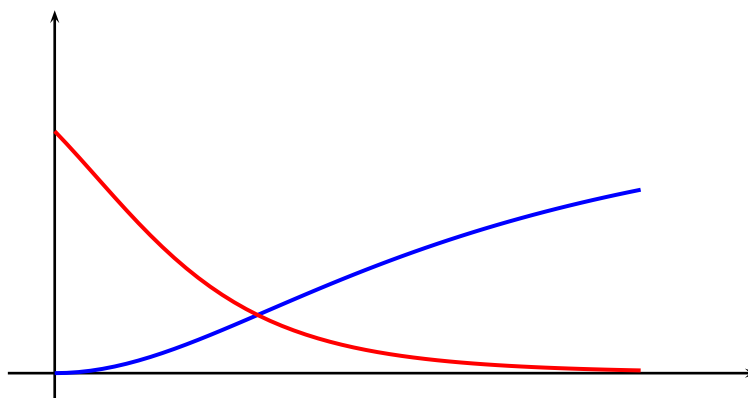
approssimato solo in modo iterativo. Questa peculiarità tuttavia richiede che sia nota appunto un'approssimazione iniziale o, almeno, un intervallo di appartenenza. Il problema preliminare è quello di localizzare la radice di una funzione, problema che viene affrontato in modo grafico. Per esempio considerando la funzione

$$f(x) = \sin(\log(x^2 + 1)) - \frac{e^{-x}}{x^2 + 1}$$

risulta immediato verificare che il valore dell'ascissa in cui si annulla è quello in cui si intersecano i grafici delle funzioni

$$g(x) = \sin(\log(x^2 + 1)) \qquad h(x) = \frac{e^{-x}}{x^2 + 1}.$$

Un modo semplice per stimare tale valore è quello di tracciare i grafici delle due funzioni, come riportato nella seguente figura in cui il grafico di $h(x)$ è in rosso, mentre quello di $g(x)$ è blu, e l'intervallo di variabilità di x è $[0, 2.5]$.



Calcolando le funzioni in valori compresi in tale intervallo di variabilità si può restringere lo stesso intervallo, infatti risulta

$$g(0.5) = 0.2213 < h(0.5) = 0.48522$$

e

$$g(1) = 0.63896 > h(1) = 0.18394,$$

da cui si deduce che $\alpha \in]0.5, 1[$.

2.3 Il Metodo di Bisezione

Sia $f : [a, b] \rightarrow \mathbb{R}$, $f \in \mathcal{C}([a, b])$, e sia $f(a)f(b) < 0$. Sotto tali ipotesi esiste sicuramente almeno un punto nell'intervallo $[a, b]$ in cui la funzione si annulla. L'idea alla base del **Metodo di Bisezione** (o metodo delle bisezioni) consiste nel costruire una successione di intervalli $\{I_k\}_{k=0}^{\infty}$, con $I_0 = [a_0, b_0] \equiv [a, b]$, tali che:

1. $I_{k+1} \subset I_k$;
2. $\alpha \in I_k, \forall k \geq 0$;
3. l'ampiezza di I_k tende a zero per $k \rightarrow +\infty$.

La successione degli I_k viene costruita nel seguente modo. Innanzitutto si pone

$$I_0 = [a_0, b_0] = [a, b]$$

e si calcola il punto medio

$$c_1 = \frac{a_0 + b_0}{2}.$$

Se $f(c_1) = 0$ allora $\alpha = c_1$, altrimenti si pone:

$$I_1 = [a_1, b_1] \equiv \begin{cases} a_1 = a_0 & b_1 = c_1 & \text{se } f(a_0)f(c_1) < 0 \\ a_1 = c_1 & b_1 = b_0 & \text{se } f(a_0)f(c_1) > 0. \end{cases}$$

Ora, a partire da $I_1 = [a_1, b_1]$, si ripete la stessa procedura. In generale al passo k si calcola

$$c_{k+1} = \frac{a_k + b_k}{2}.$$

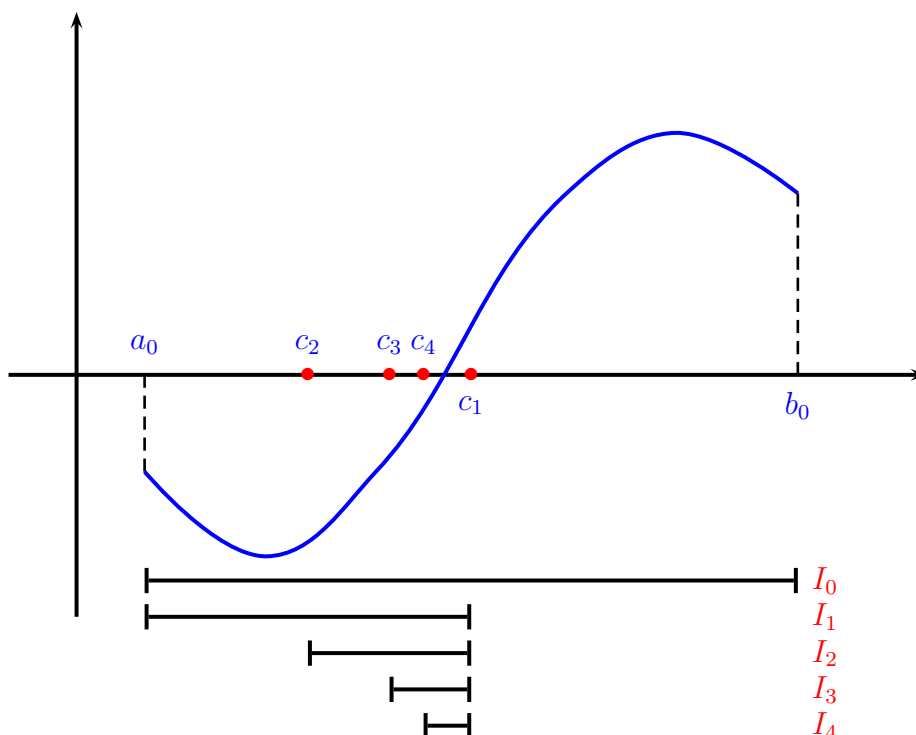
Se $f(c_{k+1}) = 0$ allora $\alpha = c_{k+1}$, altrimenti si pone:

$$I_{k+1} = [a_{k+1}, b_{k+1}] \equiv \begin{cases} a_{k+1} = a_k & b_{k+1} = c_{k+1} & \text{se } f(a_k)f(c_{k+1}) < 0 \\ a_{k+1} = c_{k+1} & b_{k+1} = b_k & \text{se } f(a_k)f(c_{k+1}) > 0. \end{cases}$$

La successione di intervalli I_k così costruita soddisfa automaticamente le condizioni 1) e 2). Per quanto riguarda la 3) abbiamo:

$$b_k - a_k = \frac{b_{k-1} - a_{k-1}}{2} = \frac{b_0 - a_0}{2^k}$$

e dunque l'ampiezza di I_k tende a zero quando $k \rightarrow +\infty$.



Generalmente costruendo le successioni $\{a_k\}$ e $\{b_k\}$ accade che la condizione $f(c_k) = 0$, per un certo valore k , non si verifica mai a causa degli errori di arrotondamento. Quindi è necessario stabilire un opportuno criterio di stop che ci permetta di fermare la procedura quando riteniamo di aver raggiunto una precisione soddisfacente. Per esempio si può imporre:

$$b_k - a_k \leq \varepsilon \quad (2.1)$$

dove ε è una prefissata tolleranza. La (2.1) determina anche un limite per il numero di iterate infatti:

$$\frac{b_0 - a_0}{2^k} \leq \varepsilon \quad \Rightarrow \quad k > \log_2 \left(\frac{b_0 - a_0}{\varepsilon} \right).$$

Poichè $b_k - \alpha \leq b_k - a_k$, il criterio (2.1) garantisce che α è approssimata da c_{k+1} con un errore assoluto minore di ε . Se $0 \notin [a, b]$ si può usare come criterio di stop

$$\frac{b_k - a_k}{\min(|a_k|, |b_k|)} \leq \varepsilon \quad (2.2)$$

che garantisce che α è approssimata da c_{k+1} con un errore relativo minore di ε . Un ulteriore criterio di stop è fornito dal test:

$$|f(c_k)| \leq \varepsilon. \quad (2.3)$$

È comunque buona norma utilizzare due criteri di stop insieme, per esempio (2.1) e (2.3) oppure (2.2) e (2.3).

2.3.1 Il metodo della falsa posizione

Una variante del metodo delle bisezioni è appunto il metodo della falsa posizione. Partendo sempre da una funzione $f(x)$ continua in un intervallo $[a, b]$ tale che $f(a)f(b) < 0$, in questo caso si approssima la radice considerando l'intersezione della retta passante per i punti $(a, f(a))$ e $(b, f(b))$ con l'asse x . L'equazione della retta è

$$y = f(a) + \frac{f(b) - f(a)}{b - a}(x - a)$$

pertanto il punto c_1 , sua intersezione con l'asse x , è:

$$c_1 = a - f(a) \frac{b - a}{f(b) - f(a)}.$$

Si testa a questo punto l'appartenenza della radice α ad uno dei due intervalli $[a, c_1]$ e $[c_1, b]$ e si procede esattamente come nel caso del metodo delle bisezioni, ponendo

$$[a_1, b_1] \equiv \begin{cases} a_1 = a, & b_1 = c_1 & \text{se } f(a)f(c_1) < 0 \\ a_1 = c_1, & b_1 = b & \text{se } f(a)f(c_1) > 0. \end{cases}$$

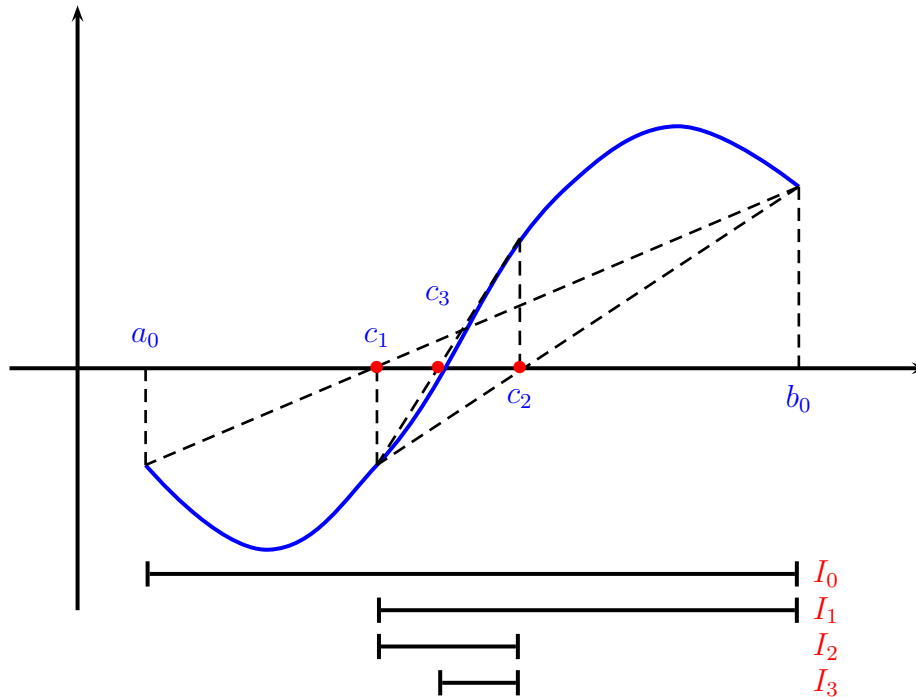
Ad un generico passo k si calcola

$$c_{k+1} = a_k - f(a_k) \frac{b_k - a_k}{f(b_k) - f(a_k)}$$

e si pone

$$[a_{k+1}, b_{k+1}] \equiv \begin{cases} a_{k+1} = a_k & b_{k+1} = c_{k+1} & \text{se } f(a_k)f(c_{k+1}) < 0 \\ a_{k+1} = c_{k+1} & b_{k+1} = b_k & \text{se } f(a_k)f(c_{k+1}) > 0. \end{cases}$$

Anche per questo metodo è possibile dimostrare la convergenza nella sola ipotesi di continuità della funzione $f(x)$. Nella seguente figura è rappresentato graficamente il metodo della falsa posizione.



```
function [alfa,k]=bisezione(f,a,b,tol)
%
% La funzione approssima la radice con il metodo di bisezione
%
% Parametri di input
% f = funzione della quale calcolare la radice
% a = estremo sinistro dell'intervallo
% b = estremo destro dell'intervallo
% tol = precisione fissata
%
% Parametri di output
% alfa = approssimazione della radice
% k = numero di iterazioni
%
```

```
if nargin==3
    tol = 1e-8; % Tolleranza di default
end
fa = feval(f,a);
fb = feval(f,b);
if fa*fb>0
    error('Il metodo non e'' applicabile')
end
c = (a+b)/2;
fc = feval(f,c);
k = 0;
while (b-a)>tol | abs(fc)>tol
    if fa*fc<0
        b = c;
        fb = fc;
    else
        a = c;
        fa = fc;
    end
    c = (a+b)/2;
    fc = feval(f,c);
    if nargout==2
        k = k+1;
    end
end
alfa = c;
return
```

2.4 Metodi di Iterazione Funzionale

Il metodo di bisezione può essere applicato ad una vastissima classe di funzioni, in quanto per poter essere applicato si richiede solo la continuità della funzione. Tuttavia ha lo svantaggio di risultare piuttosto lento, infatti ad ogni passo si guadagna in precisione una cifra binaria. Per ridurre l'errore di un decimo sono mediamente necessarie 3.3 iterazioni. Inoltre la velocità di convergenza non dipende dalla funzione $f(x)$ poichè il metodo utilizza esclusivamente il segno assunto dalla funzione in determinati punti e non il suo

valore. Il metodo delle bisezioni può essere comunque utilizzato con profitto per determinare delle buone approssimazioni della radice α che possono essere utilizzate dai metodi iterativi che stiamo per descrivere.

Infatti richiedendo alla f supplementari condizioni di regolarità è possibile individuare una vasta classe di metodi che forniscono le stesse approssimazioni del metodo di bisezione utilizzando però un numero di iterate molto minore. In generale questi metodi sono del tipo:

$$x_{k+1} = g(x_k) \quad k = 0, 1, 2, \dots \quad (2.4)$$

dove x_0 è un assegnato valore iniziale e forniscono un'approssimazione delle soluzioni dell'equazione

$$x = g(x). \quad (2.5)$$

Ogni punto α tale che $\alpha = g(\alpha)$ si dice **punto fisso** o **punto unito** di g . La funzione $g(x)$ viene detta **funzione iteratrice**.

Per poter applicare uno schema del tipo (2.4) all'equazione $f(x) = 0$, bisogna prima trasformare questa nella forma (2.5). Ad esempio se $[a, b]$ è l'intervallo di definizione di f ed $h(x)$ è una qualunque funzione tale che $h(x) \neq 0$, per ogni $x \in [a, b]$, si può porre:

$$g(x) = x - \frac{f(x)}{h(x)}. \quad (2.6)$$

Ovviamente ogni punto fisso di g è uno zero di f e viceversa.

Nel seguente teorema dimostriamo che se la successione definita dalla relazione (2.4) risulta convergente il suo limite coincide con il punto fisso della funzione $g(x)$ (che coincide con la radice α della funzione $f(x)$).

Teorema 2.4.1 *Sia $g \in \mathcal{C}([a, b])$ e assumiamo che la successione $\{x_k\}$ generata da (2.4) sia contenuta in $[a, b]$. Allora se tale successione converge, il limite è il punto fisso di g .*

Dimostrazione.

$$\alpha = \lim_{k \rightarrow +\infty} x_{k+1} = \lim_{k \rightarrow +\infty} g(x_k) = g\left(\lim_{k \rightarrow +\infty} x_k\right) = g(\alpha). \quad \square$$

Il seguente teorema fornisce una condizione sufficiente per la convergenza della successione definita dalla relazione (2.4). Questo risultato, unitamente al Teorema 2.4.1, garantisce, sotto le ipotesi del Teorema 2.4.2, la convergenza della successione x_k alla radice della funzione $f(x)$.

Teorema 2.4.2 Sia α punto fisso di g e $g \in \mathcal{C}^1([\alpha - \rho, \alpha + \rho])$, per qualche $\rho > 0$; se si suppone che

$$|g'(x)| < 1, \quad \text{per ogni } x \in [\alpha - \rho, \alpha + \rho]$$

allora valgono le seguenti asserzioni:

1. se $x_0 \in [\alpha - \rho, \alpha + \rho]$ allora anche $x_k \in [\alpha - \rho, \alpha + \rho]$ per ogni k ;
2. la successione $\{x_k\}$ converge ad α ;
3. α è l'unico punto fisso di $g(x)$ nell'intervallo $[\alpha - \rho, \alpha + \rho]$.

Dimostrazione. Sia

$$\lambda = \max_{|x-\alpha| \leq \rho} |g'(x)| < 1.$$

Innanzitutto dimostriamo per induzione che tutti gli elementi della successione $\{x_k\}$ sono contenuti nell'intervallo di centro α e ampiezza 2ρ . Per $k = 0$ si ha banalmente $x_0 \in [\alpha - \rho, \alpha + \rho]$. Assumiamo che $|x_k - \alpha| \leq \rho$ e dimostriamolo per $k + 1$.

$$|x_{k+1} - \alpha| = |g(x_k) - g(\alpha)| = |g'(\xi_k)||x_k - \alpha|$$

dove $|\xi_k - \alpha| < |x_k - \alpha| \leq \rho$ e l'ultima uguaglianza segue dall'applicazione del teorema di Lagrange. Pertanto

$$|x_{k+1} - \alpha| \leq \lambda|x_k - \alpha| < |x_k - \alpha| \leq \rho.$$

Proviamo ora che:

$$\lim_{k \rightarrow +\infty} x_k = \alpha.$$

Da $|x_{k+1} - \alpha| \leq \lambda|x_k - \alpha|$ segue

$$|x_{k+1} - \alpha| \leq \lambda^{k+1}|x_0 - \alpha|.$$

Conseguentemente qualunque sia x_0 si ha:

$$\lim_{k \rightarrow +\infty} |x_k - \alpha| = 0 \quad \Leftrightarrow \quad \lim_{k \rightarrow +\infty} x_k = \alpha.$$

Per dimostrare l'unicità del punto ragioniamo per assurdo che supponiamo che i punti fissi sono due, $\alpha, \beta \in [\alpha - \rho, \alpha + \rho]$. Allora

$$|\alpha - \beta| = |g(\alpha) - g(\beta)| = |g'(\xi)||\alpha - \beta|$$

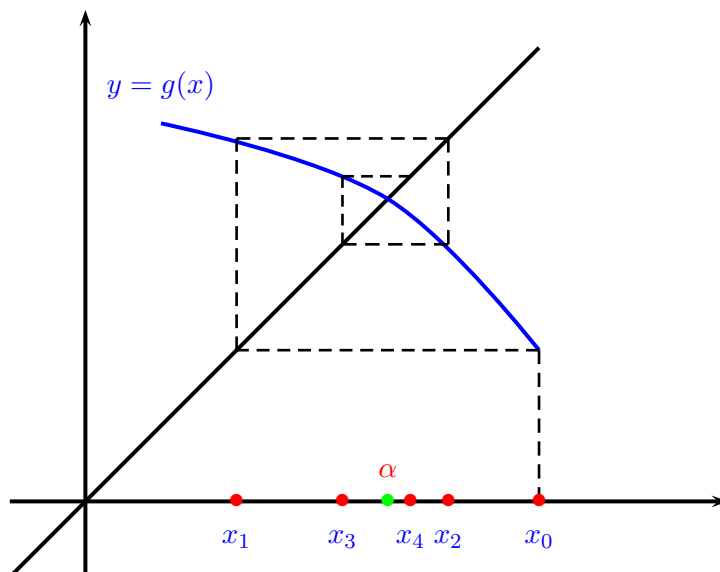


Figura 2.1: Interpretazione geometrica del processo $x_{k+1} = g(x_k)$, se $-1 < g'(\alpha) \leq 0$.

con $\xi \in [\alpha - \rho, \alpha + \rho]$. Poichè $|g'(\xi)| < 1$ si ha

$$|\alpha - \beta| < |\alpha - \beta|$$

e ciò è assurdo. \square

Nelle figure 2.1 e 2.2 è rappresentata l'interpretazione geometrica di un metodo di iterazione funzionale in ipotesi di convergenza.

Definizione 2.4.1 *Un metodo iterativo del tipo (2.4) si dice **localmente convergente** ad una soluzione α del problema $f(x) = 0$ se esiste un intervallo $[a, b]$ contenente α tale che, per ogni $x_0 \in [a, b]$, la successione generata da (2.4) converge a α .*

Come abbiamo già visto nel caso del metodo delle bisezioni anche per metodi di iterazione funzionale è necessario definire dei criteri di arresto per il calcolo delle iterazioni. Teoricamente, una volta stabilita la precisione voluta, ε , si dovrebbe arrestare il processo iterativo quando l'errore al passo k

$$e_k = |\alpha - x_k|$$

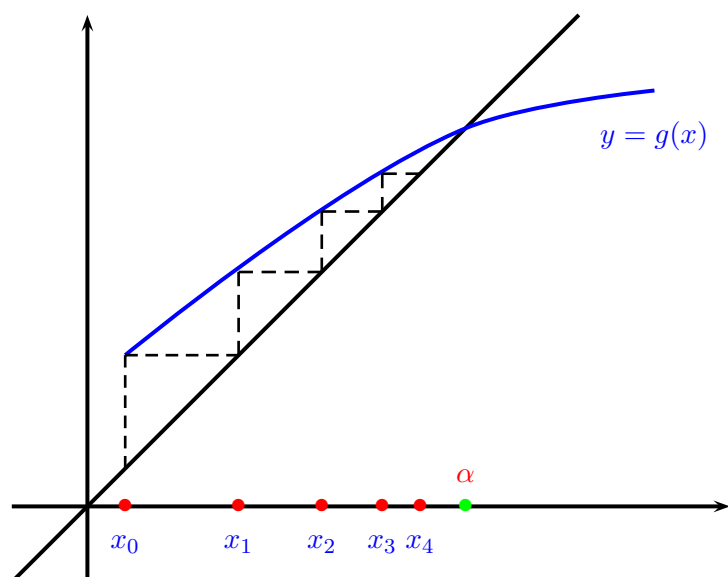


Figura 2.2: Interpretazione geometrica del processo $x_{k+1} = g(x_k)$, se $0 \leq g'(\alpha) < 1$.

risulta minore della tolleranza prefissata ε . In pratica l'errore non può essere noto quindi è necessario utilizzare qualche stima. Per esempio si potrebbe considerare la differenza tra due iterate consecutive e fermare il calcolo degli elementi della successione quando

$$|x_{k+1} - x_k| \leq \varepsilon,$$

oppure

$$\frac{|x_{k+1} - x_k|}{\min(|x_{k+1}|, |x_k|)} \leq \varepsilon \quad |x_{k+1}|, |x_k| \neq 0$$

se i valori hanno un ordine di grandezza particolarmente elevato. Una stima alternativa valuta il residuo della funzione rispetto al valore in α , cioè

$$|f(x_k)| \leq \varepsilon.$$

2.4.1 Ordine di Convergenza

Per confrontare differenti metodi iterativi che approssimano la stessa radice α di $f(x) = 0$, si può considerare la velocità con cui tali successioni convergono

verso α . Lo studio della velocità di convergenza passa attraverso il concetto di ordine del metodo.

Definizione 2.4.2 Sia $\{x_k\}_{k=0}^{\infty}$ una successione convergente ad α e tale che $x_k \neq \alpha$, per ogni k . Se esiste un numero reale $p \geq 1$ tale che

$$\lim_{k \rightarrow +\infty} \frac{|x_{k+1} - \alpha|}{|x_k - \alpha|^p} = \gamma \quad \text{con} \quad \begin{cases} 0 < \gamma \leq 1 & \text{se } p = 1 \\ \gamma > 0 & \text{se } p > 1 \end{cases} \quad (2.7)$$

allora si dice che la successione ha **ordine di convergenza p** . La costante γ prende il nome di **costante asintotica di convergenza**.

In particolare se $p = 1$ e $0 < \gamma < 1$ allora la convergenza si dice **lineare**, mentre se $p > 1$ allora la convergenza si dice genericamente **superlineare**, per esempio se $p = 2$ la convergenza si dice quadratica, se $p = 3$ cubica e così via.

Osservazione. La relazione (2.7) implica che esiste una costante positiva β ($\beta \simeq \gamma$) tale che, per k sufficientemente grande:

$$|x_{k+1} - \alpha| \leq \beta |x_k - \alpha|^p \quad (2.8)$$

ed anche

$$\frac{|x_{k+1} - \alpha|}{|\alpha|} \leq \beta |\alpha|^{p-1} \left| \frac{x_k - \alpha}{\alpha} \right|^p. \quad (2.9)$$

Le (2.8) e (2.9) indicano che la riduzione di errore (assoluto o relativo) ad ogni passo è tanto maggiore quanto più alto è l'ordine di convergenza e, a parità di ordine, quanto più piccola è la costante asintotica di convergenza. In generale l'ordine di convergenza è un numero reale maggiore o uguale a 1. Tuttavia per i metodi di iterazione funzionale di tipo (2.4) è un numero intero per il quale vale il seguente teorema.

Teorema 2.4.3 Sia $\{x_k\}_{k=0}^{\infty}$ una successione generata dallo schema (2.4) convergente ad α , punto fisso di $g(x)$, funzione sufficientemente derivabile in un intorno di α . La successione ha ordine di convergenza $p \geq 1$ se e solo se

$$g'(\alpha) = g''(\alpha) = \dots = g^{(p-1)}(\alpha) = 0, \quad g^{(p)}(\alpha) \neq 0. \quad (2.10)$$

Dimostrazione. Scriviamo lo sviluppo in serie di Taylor della funzione $g(x)$ in x_k prendendo come punto iniziale α :

$$\begin{aligned} g(x_k) &= g(\alpha) + g'(\alpha)(x_k - \alpha) + \frac{g''(\alpha)}{2!}(x_k - \alpha)^2 + \dots \\ &\quad \dots + \frac{g^{(p-1)}(\alpha)}{(p-1)!}(x_k - \alpha)^{p-1} + \frac{g^{(p)}(\xi_k)}{p!}(x_k - \alpha)^p. \end{aligned}$$

Sostituendo a $g(x_k)$ il valore x_{k+1} e sfruttando l'ipotesi che α è punto fisso di $g(x)$ risulta

$$\begin{aligned} x_{k+1} - \alpha &= g'(\alpha)(x_k - \alpha) + \frac{g''(\alpha)}{2!}(x_k - \alpha)^2 + \dots \\ &\quad \dots + \frac{g^{(p-1)}(\alpha)}{(p-1)!}(x_k - \alpha)^{p-1} + \frac{g^{(p)}(\xi_k)}{p!}(x_k - \alpha)^p \end{aligned}$$

dove ξ è compreso tra x_k e α . Quindi se vale l'ipotesi (2.10) e passando ai moduli risulta

$$\frac{|x_{k+1} - \alpha|}{|x_k - \alpha|^p} = \frac{|g^{(p)}(\xi_k)|}{p!}$$

e quindi

$$\lim_{k \rightarrow \infty} \frac{|x_{k+1} - \alpha|}{|x_k - \alpha|^p} = \frac{|g^{(p)}(\alpha)|}{p!}.$$

Viceversa supponiamo per ipotesi che la successione ha ordine di convergenza p e dimostriamo che

$$g'(\alpha) = g''(\alpha) = \dots = g^{(p-1)}(\alpha) = 0.$$

Ipotizziamo, per assurdo, che esista una derivata di ordine i , $i < p$, diversa da zero, ovvero

$$g^{(i)}(\alpha) \neq 0.$$

Scriviamo lo sviluppo in serie di Taylor di $x_{k+1} = g(x_k)$:

$$x_{k+1} = g(x_k) = g(\alpha) + \frac{g^{(i)}(\xi_k)}{i!}(x_k - \alpha)^i$$

da cui

$$x_{k+1} - \alpha = \frac{g^{(i)}(\xi_k)}{i!}(x_k - \alpha)^i.$$

Passando ai moduli e calcolando il limite della successione si ottiene:

$$\lim_{k \rightarrow +\infty} \frac{|x_{k+1} - \alpha|}{|x_k - \alpha|^i} = \frac{|g^{(i)}(\alpha)|}{i!} \neq 0$$

da cui segue che la successione ha ordine $i < p$ in contrasto con l'ipotesi fatta. \square

Osservazione. L'ordine di convergenza p può essere anche un numero non intero. In questo caso, posto $q = [p]$, se $g \in \mathcal{C}^q([a, b])$ si ha anche

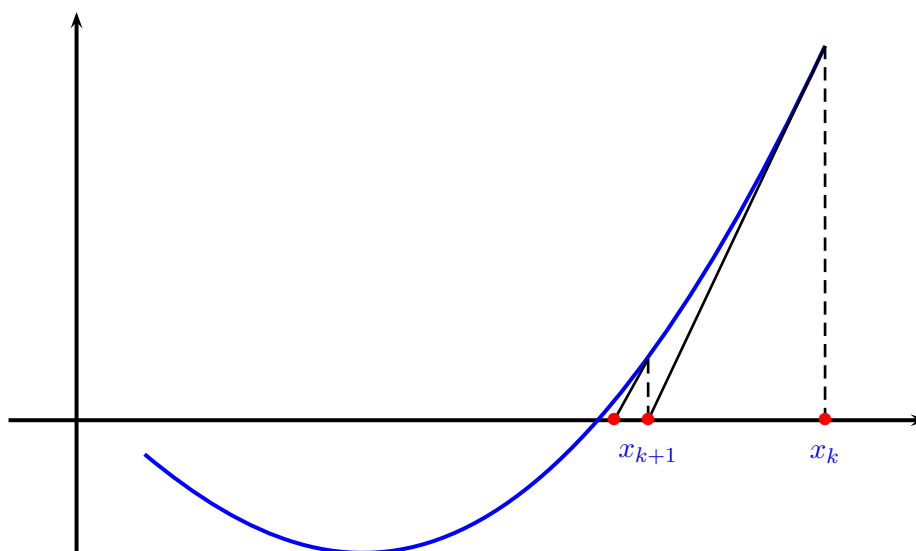
$$g'(\alpha) = g''(\alpha) = \dots = g^{(q)}(\alpha) = 0,$$

e che g non ha derivata di ordine $q + 1$ altrimenti per il precedente teorema tutte le successioni ottenute da (2.4) a partire da $x_0 \in [\alpha - \rho, \alpha + \rho]$ avrebbero ordine almeno $q + 1$.

Definizione 2.4.3 *Un metodo iterativo convergente ad α si dice di ordine p (di ordine almeno p) se tutte le successioni ottenute al variare del punto iniziale in un opportuno intorno di α convergono con ordine di convergenza p (almeno p).*

2.4.2 Metodo di Newton-Raphson

Nell'ipotesi che f sia derivabile ed ammetta derivata prima continua allora un altro procedimento per l'approssimazione dello zero della funzione $f(x)$ è il **metodo di Newton-Raphson**, noto anche come **metodo delle tangenti**. Nella figura seguente è riportata l'interpretazione geometrica di tale metodo. A partire dall'approssimazione x_0 si considera la retta tangente alla funzione f passante per il punto P_0 di coordinate $(x_0, f(x_0))$. Si calcola l'ascissa x_1 del punto di intersezione tra tale retta tangente e l'asse delle x e si ripete il procedimento a partire dal punto P_1 di coordinate $(x_1, f(x_1))$. Nella seguente figura è rappresentato graficamente il metodo di Newton-Raphson.



Per ricavare la funzione iteratrice del metodo consideriamo l'equazione della retta tangente alla funzione $y = f(x)$ nel punto di coordinate $(x_k, f(x_k))$

$$y - f(x_k) = f'(x_k)(x - x_k).$$

Posto $y = 0$ ricaviamo l'espressione di x che diventa il nuovo elemento della successione x_{k+1} :

$$x_{k+1} = x_k - \frac{f(x_k)}{f'(x_k)} \quad k = 0, 1, 2, \dots \quad (2.11)$$

che equivale, scegliendo in (2.6) $h(x) = f'(x)$, al metodo di iterazione funzionale in cui la funzione $g(x)$ è

$$g(x) = x - \frac{f(x)}{f'(x)}. \quad (2.12)$$

Per la convergenza e l'ordine del metodo di Newton-Raphson vale il seguente teorema.

Teorema 2.4.4 *Sia $f \in C^3([a, b])$, tale che $f'(x) \neq 0$, per $x \in [a, b]$, dove $[a, b]$ è un opportuno intervallo contenente α , allora valgono le seguenti proposizioni:*

1. *esiste un intervallo $[\alpha - \rho, \alpha + \rho]$, tale che, scelto x_0 appartenente a tale intervallo, la successione definita dal metodo di Newton-Raphson è convergente ad α ;*

2. la convergenza è di ordine $p \geq 2$.

Dimostrazione. Per valutare la convergenza del metodo calcoliamo la derivata prima della funzione iteratrice:

$$g'(x) = 1 - \frac{[f'(x)]^2 - f(x)f''(x)}{[f'(x)]^2} = \frac{f(x)f''(x)}{[f'(x)]^2}.$$

Poichè $f'(\alpha) \neq 0$ risulta:

$$g'(\alpha) = \frac{f(\alpha)f''(\alpha)}{[f'(\alpha)]^2} = 0$$

quindi, fissato un numero positivo $\kappa < 1$, esiste $\rho > 0$ tale che per ogni $x \in [\alpha - \rho, \alpha + \rho]$ si ha $|g'(x)| < \kappa$ e quindi vale il teorema di convergenza 2.4.2.

Per dimostrare la seconda parte del teorema si deve calcolare la derivata seconda di $g(x)$:

$$g''(x) = \frac{[f'(x)f''(x) + f(x)f'''(x)][f'(x)]^2 - 2f(x)f'(x)[f''(x)]^2}{[f'(x)]^4}.$$

Calcolando la derivata seconda in $x = \alpha$ risulta

$$g''(\alpha) = \frac{f''(\alpha)}{f'(\alpha)} \quad (2.13)$$

ne segue che se $f''(\alpha) \neq 0$ allora anche $g''(\alpha) \neq 0$ e quindi, applicando il Teorema 2.4.3, l'ordine $p = 2$. Se invece $f''(\alpha) = 0$ allora l'ordine è almeno pari a 3. Dalla relazione 2.13 segue inoltre che la costante asintotica di convergenza vale

$$\gamma = \frac{1}{2} \left| \frac{f''(\alpha)}{f'(\alpha)} \right|. \quad \square$$

Il Teorema 2.4.4 vale nell'ipotesi in cui $f'(\alpha) \neq 0$, cioè se α è una radice semplice di $f(x)$. Consideriamo ora la seguente definizione.

Definizione 2.4.4 Sia $f \in \mathcal{C}^r([a, b])$ per un intero $r > 0$. Una radice α di $f(x)$ si dice di *molteplicità r* se

$$\lim_{x \rightarrow \alpha} \frac{f(x)}{(x - \alpha)^r} = \gamma, \quad \gamma \neq 0, \gamma \neq \pm\infty. \quad (2.14)$$

Se α è una radice della funzione $f(x)$ di molteplicità r allora risulta

$$f(\alpha) = f'(\alpha) = \dots = f^{(r-1)}(\alpha) = 0, \quad f^{(r)}(\alpha) = \gamma \neq 0.$$

Se la radice α ha molteplicità $r > 1$ l'ordine di convergenza del metodo non è più 2. In questo caso infatti si può porre

$$f(x) = q(x)(x - \alpha)^r, \quad q(\alpha) \neq 0,$$

quindi riscrivendo la funzione iteratrice del metodo di Newton-Raphson risulta

$$g(x) = x - \frac{q(x)(x - \alpha)}{rq(x) + q'(x)(x - \alpha)},$$

da cui, dopo una serie di calcoli, risulta

$$g'(\alpha) = 1 - \frac{1}{r}. \quad (2.15)$$

Pertanto, poichè $r > 1$ risulta $|g'(x)| < 1$ e quindi per il Teorema 2.4.2 il metodo è ancora convergente ma, applicando il Teorema 2.4.3 l'ordine di convergenza è 1.

Se si conosce la molteplicità della radice si può modificare il metodo di Newton-Raphson ottenendo uno schema numerico con ordine 2. Ponendo

$$x_{k+1} = x_k - r \frac{f(x_k)}{f'(x_k)} \quad k = 0, 1, 2, \dots$$

si definisce un metodo con la seguente funzione iteratrice

$$g(x) = x - r \frac{f(x)}{f'(x)}$$

da cui segue, tenendo conto della (2.15), che

$$g'(\alpha) = 0.$$

Riportiamo nel seguito l'implementazione MatLab del metodo di Newton-Raphson.

```
function [alfa,k]=newton(f,f1,x0,tol,Nmax)
%
```

```
% La funzione calcolo un'approssimazione
% della radice con il metodo di Newton-Raphson
%
% Parametri di input
% f = funzione della quale calcolare la radice
% f1 = derivata prima della funzione f
% x0 = approssimazione iniziale della radice
% tol = precisione fissata
% Nmax = numero massimo di iterazioni fissate
%
% Parametri di output
% alfa = approssimazione della radice
% k = numero di iterazioni
%
if nargin==3
    tol=1e-8;
    Nmax=1000;
end
k=0;
x1=x0-feval(f,x0)/feval(f1,x0);
fx1 = feval(f,x1);
while abs(x1-x0)>tol | abs(fx1)>tol
    x0 = x1;
    x1 = x0-feval(f,x0)/feval(f1,x0);
    fx1 = feval(f,x1);
    k=k+1;
    if k>Nmax
        disp('Il metodo non converge');
        alfa = inf;
        break
    end
end
alfa=x1;
return
```

Esempio 2.4.1 *Approssimare il numero $\alpha = \sqrt[m]{c}$ con $m \in \mathbb{R}$, $m \geq 2$, $c > 0$.*

Il numero α cercato è lo zero della funzione

$$f(x) = x^m - c.$$

Poichè per $x > 0$ la funzione risulta essere monotona allora è sufficiente scegliere un qualsiasi $x_0 > 0$ per ottenere una successione convergente alla radice m -esima di c . Il metodo di Newton-Raphson fornisce la formula

$$x_{k+1} = x_k - \frac{x_k^m - c}{m x_k^{m-1}} = \frac{1}{m} [(m-1)x_k + c x_k^{1-m}], \quad k = 0, 1, 2, \dots$$

Per $m = 2$ lo schema diviene

$$x_{k+1} = \frac{1}{2} \left(x_k + \frac{c}{x_k} \right),$$

che è la cosiddetta formula di Erone per il calcolo della radice quadrata, nota già agli antichi Greci.

Considerando come esempio $m = 4$ e $c = 3$, poichè $f(0) < 0$ e $f(3) > 0$ allora si può applicare il metodo di bisezione ottenendo la seguente successione di intervalli:

Intervallo	Punto medio	Valore di f nel punto medio
$[0, 3]$	$c = 1.5$	$f(c) = 2.0625$
$[0, 1.5]$	$c = 0.75$	$f(c) = -2.6836$
$[0.75, 1.5]$	$c = 1.125$	$f(c) = -1.3982$
$[1.125, 1.5]$	$c = 1.3125$	$f(c) = -0.0325$
\vdots	\vdots	\vdots

Dopo 10 iterazioni $c = 1.3154$ mentre $\alpha = 1.3161$, e l'errore è pari circa a $6.4433 \cdot 10^{-4}$.

Applicando il metodo di Newton-Raphson, si ottiene il processo iterativo

$$x_{k+1} = x_k - \frac{1}{3} (2x_k + 3x_k^{-3}).$$

Poichè per $x > 0$ la funzione è monotona crescente allora si può scegliere $x_0 = 3$ come approssimazione iniziale, ottenendo la seguente successione:

$x_0 = 3$	$f(x_0) = 78$
$x_1 = 2.2778$	$f(x_1) = 23.9182$
$x_2 = 1.7718$	$f(x_2) = 6.8550$
$x_3 = 1.4637$	$f(x_3) = 1.5898$
$x_4 = 1.3369$	$f(x_4) = 0.1948$
$x_5 = 1.3166$	$f(x_5) = 0.0044$
\vdots	\vdots

Dopo 10 iterazioni l'approssimazione è esatta con un errore dell'ordine di 10^{-16} .

2.4.3 Il metodo della direzione costante

Se applicando ripetutamente la formula di Newton-Raphson accade che la derivata prima della funzione $f(x)$ si mantiene sensibilmente costante allora si può porre

$$M = f'(x)$$

e applicare la formula

$$x_{k+1} = x_k - \frac{f(x_k)}{M} \quad (2.16)$$

anzichè la (2.11). La (2.16) definisce un metodo che viene detto **metodo di Newton semplificato** oppure **metodo della direzione costante** in quanto geometricamente equivale all'applicazione del metodo di Newton in cui anzichè prendere la retta tangente la curva f si considera la retta avente coefficiente angolare uguale a M . La funzione iteratrice del metodo è

$$g(x) = x - \frac{f(x)}{M}$$

ed il metodo è convergente se

$$|g'(x)| = \left| 1 - \frac{f'(x)}{M} \right| < 1$$

da cui si deduce che è necessario che $f'(x)$ ed M abbiano lo stesso segno.

2.4.4 Il Metodo della Secante

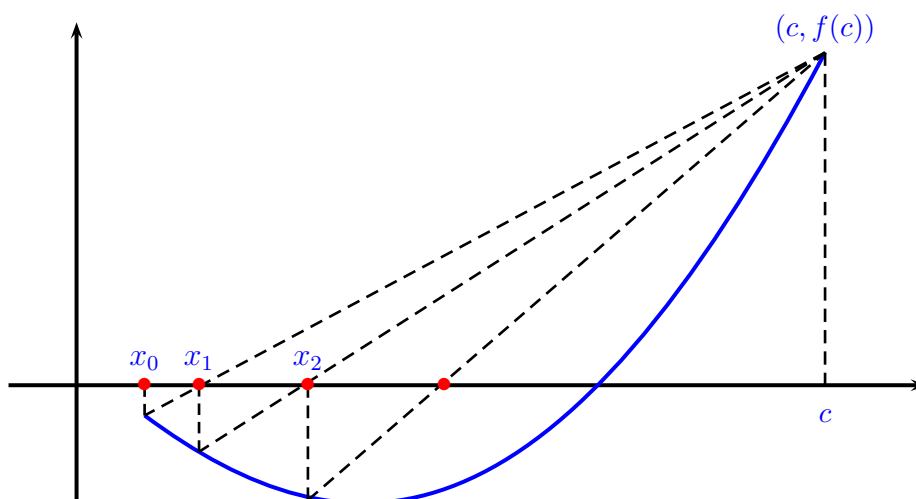
Il metodo della secante è definito dalla relazione

$$x_{k+1} = x_k - f(x_k) \frac{x_k - c}{f(x_k) - f(c)}$$

dove $c \in [a, b]$. Il significato geometrico di tale metodo è il seguente: ad un generico passo k si considera la retta congiungente i punti di coordinate $(x_k, f(x_k))$ e $(c, f(c))$ e si pone x_{k+1} pari all'ascissa del punto di intersezione di tale retta con l'asse x . Dalla formula si evince che la funzione iteratrice del metodo è

$$g(x) = x - f(x) \frac{x - c}{f(x) - f(c)}.$$

Il metodo è rappresentato graficamente nella seguente figura.



In base alla teoria vista nei paragrafi precedenti il metodo ha ordine di convergenza 1 se $g'(\alpha) \neq 0$. Può avere ordine di convergenza almeno 1 se $g'(\alpha) = 0$. Tale eventualità si verifica se la tangente alla curva in α ha lo stesso coefficiente angolare della retta congiungente i punti $(\alpha, 0)$ e $(c, f(c))$.

Il metodo delle secanti ha lo svantaggio di avere, solitamente, convergenza lineare mentre il metodo di Newton-Raphson, pur avendo convergenza quadratica, ha lo svantaggio di richiedere, ad ogni passo, due valutazioni di funzioni: $f(x_k)$ ed $f'(x_k)$, quindi se il costo computazionale di $f'(x_k)$ è molto più elevato rispetto a quello di $f(x_k)$ può essere più conveniente l'uso di metodi che necessitano solo del calcolo del valore della funzione $f(x)$.

2.5 Sistemi di Equazioni non Lineari

Supponiamo che sia Ω un sottoinsieme di \mathbb{R}^n e che siano assegnate le n funzioni

$$f_i : \Omega \rightarrow \mathbb{R}, \quad i = 1, \dots, n.$$

Ogni vettore $\mathbf{x} \in \mathbb{R}^n$, soluzione del sistema non lineare di n equazioni in n incognite

$$\begin{aligned} f_1(x_1, x_2, \dots, x_n) &= 0 \\ f_2(x_1, x_2, \dots, x_n) &= 0 \\ &\vdots \\ f_n(x_1, x_2, \dots, x_n) &= 0 \end{aligned}$$

prende il nome di radice dell'equazione vettoriale

$$F(\mathbf{x}) = 0$$

oppure di zero della funzione vettoriale

$$F : \Omega \rightarrow \mathbb{R}^n$$

dove il vettore $F(\mathbf{x})$ è definito da:

$$F(\mathbf{x}) = \begin{bmatrix} f_1(x_1, x_2, \dots, x_n) \\ f_2(x_1, x_2, \dots, x_n) \\ \vdots \\ f_n(x_1, x_2, \dots, x_n) \end{bmatrix}.$$

Tutti i metodi per la risoluzione del sistema non lineare $F(\mathbf{x}) = 0$ partono dalle seguenti due ipotesi:

1. la funzione $F(\mathbf{x})$ è calcolabile in ogni punto del dominio Ω ;
2. la funzione $F(\mathbf{x})$ è continua in un opportuno intorno della radice.

Come nel caso scalare l'equazione $F(\mathbf{x}) = 0$ viene trasformata in un problema del tipo

$$\mathbf{x} = \Phi(\mathbf{x}) \tag{2.17}$$

ovvero

$$x_i = \Phi_i(x_1, x_2, \dots, x_n), \quad i = 1, 2, \dots, n$$

con $\Phi(\mathbf{x})$ funzione definita in Ω e scelta in modo tale che le proprietà richieste ad $F(\mathbf{x})$ si trasferiscano su Φ , cioè anch'essa deve essere continua in un opportuno intorno della radice e calcolabile nell'insieme di definizione. Il motivo di tali richieste è che la funzione $\Phi(\mathbf{x})$ viene utilizzata per definire una successione di vettori nel seguente modo. Sia $\mathbf{x}^{(0)}$ un vettore iniziale appartenente a Ω e definiamo la seguente successione

$$\mathbf{x}^{(k+1)} = \Phi(\mathbf{x}^{(k)}), \quad k = 0, 1, 2, 3, \dots$$

ovvero

$$x_i^{(k+1)} = \Phi_i(x_1^{(k)}, x_2^{(k)}, \dots, x_n^{(k)}), \quad i = 1, 2, \dots, n.$$

La funzione $\Phi(\mathbf{x})$ prende il nome di **funzione iteratrice** dell'equazione non lineare $F(\mathbf{x}) = 0$. Ricordiamo che un vettore $\boldsymbol{\alpha}$ che soddisfa la (2.17) viene detto **punto fisso di $\Phi(\mathbf{x})$** (oppure **punto unito**). La successione dei vettori $\mathbf{x}^{(k)}$ definisce il **metodo delle approssimazioni successive** per il calcolo appunto di tale punto fisso. Quello che si richiede a tale successione è che essa converga al vettore $\boldsymbol{\alpha}$, soluzione del sistema non lineare. In questo caso per convergenza si intende che

$$\lim_{k \rightarrow \infty} \mathbf{x}^{(k)} = \boldsymbol{\alpha}$$

cioè, in termini di componenti,

$$\lim_{k \rightarrow \infty} x_i^{(k)} = \alpha_i.$$

Per la convergenza del metodo delle approssimazioni successive vale quindi il seguente teorema.

Teorema 2.5.1 *Se la funzione $\Phi(\mathbf{x})$ è differenziabile con continuità in un intorno del punto fisso $\boldsymbol{\alpha}$, e risulta*

$$\rho(J_{\Phi}(\boldsymbol{\alpha})) < 1$$

allora, scelto $\mathbf{x}^{(0)}$ appartenente a tale intorno, la successione costruita con il metodo delle approssimazioni successive è convergente a $\boldsymbol{\alpha}$.

Chiaramente il risultato appena enunciato ha un'importanza teorica in quanto generalmente è molto complesso (o non è possibile) conoscere gli autovalori della matrice Jacobiana nella soluzione del sistema non lineare.

2.5.1 Il Metodo di Newton per Sistemi non Lineari

Se si conosce abbastanza bene l'approssimazione iniziale della soluzione del sistema di equazioni

$$F(\mathbf{x}) = 0 \quad (2.18)$$

il metodo di Newton risulta molto efficace. Il **Metodo di Newton** per risolvere il sistema (2.18) può essere derivato in modo semplice come segue. Sia $\mathbf{x}^{(k)}$ una buona approssimazione a $\boldsymbol{\alpha}$, soluzione di $F(\mathbf{x}) = 0$, possiamo allora scrivere lo sviluppo in serie della funzione F valutata nella soluzione del sistema non lineare prendendo come punto iniziale proprio il vettore $\mathbf{x}^{(k)}$:

$$0 = F(\boldsymbol{\alpha}) = F(\mathbf{x}^{(k)}) + J_F(\boldsymbol{\delta}_k)(\boldsymbol{\alpha} - \mathbf{x}^{(k)})$$

dove $\boldsymbol{\delta}_k$ è un vettore appartenente al segmento congiungente $\boldsymbol{\alpha}$ e $\mathbf{x}^{(k)}$ e $J_F(\mathbf{x})$ indica la matrice Jacobiana i cui elementi sono le derivate prime delle funzioni componenti di $F(\mathbf{x})$:

$$J_F(\mathbf{x}) = \begin{bmatrix} \frac{\partial f_1}{\partial x_1}(\mathbf{x}) & \frac{\partial f_1}{\partial x_2}(\mathbf{x}) & \dots & \frac{\partial f_1}{\partial x_n}(\mathbf{x}) \\ \frac{\partial f_2}{\partial x_1}(\mathbf{x}) & \frac{\partial f_2}{\partial x_2}(\mathbf{x}) & \dots & \frac{\partial f_2}{\partial x_n}(\mathbf{x}) \\ \vdots & \vdots & & \vdots \\ \frac{\partial f_n}{\partial x_1}(\mathbf{x}) & \frac{\partial f_n}{\partial x_2}(\mathbf{x}) & \dots & \frac{\partial f_n}{\partial x_n}(\mathbf{x}) \end{bmatrix}.$$

Supponendo ora che la matrice Jacobiana sia invertibile possiamo scrivere,

$$\boldsymbol{\alpha} - \mathbf{x}^{(k)} = -J_F^{-1}(\boldsymbol{\delta}_k)F(\mathbf{x}^{(k)}) \Rightarrow \boldsymbol{\alpha} = \mathbf{x}^{(k)} - J_F^{-1}(\boldsymbol{\delta}_k)F(\mathbf{x}^{(k)}). \quad (2.19)$$

Se $\mathbf{x}^{(k)}$ è sufficientemente vicino a $\boldsymbol{\alpha}$ allora possiamo confondere $\mathbf{x}^{(k)}$ con $\boldsymbol{\delta}_k$: in tal modo però (2.19) non fornirà esattamente $\boldsymbol{\alpha}$ ma una sua ulteriore approssimazione, che indichiamo con $\mathbf{x}^{(k+1)}$. In questo modo abbiamo definito il seguente processo iterativo

$$\mathbf{x}^{(k+1)} = \mathbf{x}^{(k)} - J_F^{-1}(\mathbf{x}^{(k)})F(\mathbf{x}^{(k)}). \quad (2.20)$$

che definisce, appunto il **metodo di Newton**.

Può essere interessante soffermarsi su alcuni dettagli di implementazione del metodo (2.20). Poniamo infatti

$$\mathbf{z}^{(k)} = \mathbf{x}^{(k+1)} - \mathbf{x}^{(k)}$$

e osserviamo che, moltiplicando per la matrice $J_F(\mathbf{x}^{(k)})$ l'espressione del metodo di Newton diventa

$$J_F(\mathbf{x}^{(k)})\mathbf{z}^{(k)} = -F(\mathbf{x}^{(k)})$$

da cui, risolvendo il sistema lineare che ha $J_F(\mathbf{x}^{(k)})$ come matrice dei coefficienti e $-F(\mathbf{x}^{(k)})$ come vettore dei termini noti si può ricavare il vettore $\mathbf{z}^{(k)}$ e ottenere il vettore al passo $k + 1$:

$$\mathbf{x}^{(k+1)} = \mathbf{x}^{(k)} + \mathbf{z}^{(k)}.$$

L'algoritmo, ad un generico passo k , può essere così riassunto:

1. Calcolare la matrice $J_F(\mathbf{x}^{(k)})$ e il vettore $-F(\mathbf{x}^{(k)})$;
2. Risolvere il sistema lineare $J_F(\mathbf{x}^{(k)})\mathbf{z}^{(k)} = -F(\mathbf{x}^{(k)})$;
3. Calcolare il vettore $\mathbf{x}^{(k+1)} = \mathbf{x}^{(k)} + \mathbf{z}^{(k)}$;
4. Valutare la convergenza: fissata una tolleranza ε , se risulta

$$\|\mathbf{z}^{(k)}\| \leq \varepsilon$$

allora $\mathbf{x}^{(k+1)}$ è una buona approssimazione della soluzione, altrimenti si ritorna al passo 1.

Consideriamo come esempio la funzione vettoriale composta da due componenti

$$f_1(x, y) = x^3 + y - 1, \quad f_2(x, y) = y^3 - x + 1.$$

Il sistema non lineare

$$F(\mathbf{x}) = 0 = \begin{bmatrix} x^3 + y - 1 \\ y^3 - x + 1 \end{bmatrix} = \begin{bmatrix} 0 \\ 0 \end{bmatrix}$$

ammette come soluzione $x = 1$ e $y = 0$. La matrice Jacobiana di $F(\mathbf{x})$ è la seguente

$$J_F(x, y) = \begin{bmatrix} 3x^2 & 1 \\ -1 & 3y^2 \end{bmatrix}$$

pertanto il metodo di Newton è definito dal seguente schema:

$$\begin{bmatrix} x_{k+1} \\ y_{k+1} \end{bmatrix} = \begin{bmatrix} x_k \\ y_k \end{bmatrix} - \begin{bmatrix} 3x_k^2 & 1 \\ -1 & 3y_k^2 \end{bmatrix}^{-1} \begin{bmatrix} x_k^3 + y_k - 1 \\ y_k^3 - x_k + 1 \end{bmatrix}.$$

Capitolo 3

Metodi numerici per sistemi lineari

3.1 Introduzione

Siano assegnati una matrice non singolare $A \in \mathbb{R}^{n \times n}$ ed un vettore $\mathbf{b} \in \mathbb{R}^n$. Risolvere un sistema lineare avente A come matrice dei coefficienti e \mathbf{b} come vettore dei termini noti significa trovare un vettore $\mathbf{x} \in \mathbb{R}^n$ tale che

$$A\mathbf{x} = \mathbf{b}. \quad (3.1)$$

Esplicitare la relazione (3.1) significa imporre le uguaglianze tra le componenti dei vettori a primo e secondo membro:

$$\begin{aligned} a_{11}x_1 + a_{12}x_2 + \cdots + a_{1n}x_n &= b_1 \\ a_{21}x_1 + a_{22}x_2 + \cdots + a_{2n}x_n &= b_2 \\ \vdots & \\ a_{n1}x_1 + a_{n2}x_2 + \cdots + a_{nn}x_n &= b_n. \end{aligned} \quad (3.2)$$

Le (3.2) definiscono un **sistema di n equazioni algebriche lineari** nelle n **incognite** x_1, x_2, \dots, x_n . Il vettore \mathbf{x} viene detto **vettore soluzione**. Prima di affrontare il problema della risoluzione numerica di sistemi lineari richiamiamo alcuni importanti concetti di algebra lineare.

Definizione 3.1.1 *Se $A \in \mathbb{R}^{n \times n}$ è una matrice di ordine n , si definisce **determinante di A** il numero*

$$\det A = a_{11}.$$

Se la matrice A è quadrata di ordine n allora fissata una qualsiasi riga (colonna) di A , diciamo la i -esima (j -esima) allora applicando la cosiddetta *regola di Laplace* il determinante di A è:

$$\det A = \sum_{j=1}^n a_{ij} (-1)^{i+j} \det A_{ij}$$

dove A_{ij} è la matrice che si ottiene da A cancellando la i -esima riga e la j -esima colonna.

Il determinante è pure uguale a

$$\det A = \sum_{i=1}^n a_{ij} (-1)^{i+j} \det A_{ij},$$

cioè il determinante è indipendente dall'indice di riga (o di colonna) fissato. Se A è la matrice di ordine 2

$$A = \begin{bmatrix} a_{11} & a_{12} \\ a_{21} & a_{22} \end{bmatrix}.$$

allora

$$\det A = a_{11}a_{22} - a_{21}a_{12}.$$

Il determinante ha le seguenti proprietà:

1. Se A è una matrice triangolare o diagonale allora

$$\det A = \prod_{i=1}^n a_{ii};$$

2. $\det I = 1$;

3. $\det A^T = \det A$;

4. $\det AB = \det A \det B$ (Regola di Binet);

5. se $\alpha \in \mathbb{R}$ allora $\det \alpha A = \alpha^n \det A$;

6. $\det A = 0$ se una riga (o una colonna) è nulla, oppure una riga (o una colonna) è proporzionale ad un'altra riga (o colonna) oppure è combinazione lineare di due (o più) righe (o colonne) di A .

7. Se A è una matrice triangolare a blocchi

$$A = \begin{bmatrix} B & C \\ O & D \end{bmatrix}$$

con B e D matrici quadrate, allora

$$\det A = \det B \det D. \quad (3.3)$$

Una matrice A di ordine n si dice **non singolare** se il suo determinante è diverso da zero, in caso contrario viene detta *singolare*. Si definisce **inversa di A** la matrice A^{-1} tale che:

$$AA^{-1} = A^{-1}A = I_n$$

Per quello che riguarda il determinante della matrice inversa vale la seguente proprietà:

$$\det A^{-1} = \frac{1}{\det A}.$$

Un metodo universalmente noto per risolvere il problema (3.1) è l'applicazione della cosiddetta **Regola di Cramer** la quale fornisce:

$$x_i = \frac{\det A_i}{\det A} \quad i = 1, \dots, n, \quad (3.4)$$

dove A_i è la matrice ottenuta da A sostituendo la sua i -esima colonna con il termine noto \mathbf{b} . Dalla (3.4) è evidente che per ottenere tutte le componenti del vettore soluzione è necessario il calcolo di $n + 1$ determinanti di ordine n . Calcoliamo ora il numero di operazioni aritmetiche necessario per calcolare un determinante con la regola di Laplace. Indichiamo con $f(n)$ il numero di operazioni aritmetiche su numeri reali necessario per calcolare un determinante di ordine n , ricordando che $f(2) = 3$. La regola di Laplace richiede il calcolo di n determinanti di matrici di ordine $n - 1$ (il cui costo computazionale in termini di operazioni è $nf(n - 1)$) inoltre n prodotti ed $n - 1$ somme algebriche, ovvero

$$f(n) = nf(n - 1) + 2n - 1.$$

Per semplicità tralasciamo gli ultimi addendi ottenendo il valore approssimato

$$f(n) \simeq nf(n - 1)$$

Applicando lo stesso ragionamento al numero $f(n - 1) \simeq (n - 1)f(n - 2)$ e in modo iterativo si ottiene

$$f(n) \simeq n(n - 1)(n - 2) \dots 3f(2) = \frac{3}{2} n!.$$

Se $n = 100$ si ha $100! \simeq 10^{157}$. Anche ipotizzando di poter risolvere il problema con un elaboratore in grado di eseguire miliardi di operazioni al secondo sarebbero necessari diversi anni di tempo per calcolare un singolo determinante. Questo esempio rende chiara la necessità di trovare metodi alternativi per risolvere sistemi lineari, in particolare quando le dimensioni sono particolarmente elevate.

Un calcolatore in grado di effettuare 10^9 flops al secondo impiegherebbe 9.6×10^{47} anni per risolvere un sistema di 50 equazioni.

3.2 Risoluzione di sistemi triangolari

Prima di affrontare la soluzione algoritmica di un sistema lineare vediamo qualche particolare sistema che può essere agevolmente risolto. Assumiamo che il sistema da risolvere abbia la seguente forma:

$$\begin{array}{cccccc}
 a_{11}x_1 & +a_{12}x_2 & \dots & +a_{1i}x_i & \dots & +a_{1n}x_n & = & b_1 \\
 & a_{22}x_2 & \dots & +a_{2i}x_i & \dots & +a_{2n}x_n & = & b_2 \\
 & & \ddots & \vdots & & \vdots & & \vdots \\
 & & & a_{ii}x_i & \dots & +a_{in}x_n & = & b_i \\
 & & & & \ddots & \vdots & & \vdots \\
 & & & & & a_{nn}x_n & = & b_n
 \end{array} \tag{3.5}$$

In questo caso la matrice A è detta **triangolare superiore**. Il determinante di una matrice di questo tipo è uguale al prodotto degli elementi diagonali pertanto la matrice è non singolare se risulta $a_{ii} \neq 0$ per ogni i . In questo caso, la soluzione è facilmente calcolabile infatti è sufficiente osservare che nell'ultima equazione compare solo un'incognita che può essere calcolata e che procedendo a ritroso da ogni equazione può essere ricavata un'incognita poichè le successive sono già state calcolate. Il metodo può essere riassunto nelle seguenti formule:

$$\left\{ \begin{array}{l} x_n = \frac{b_n}{a_{nn}} \\ \\ x_i = \frac{b_i - \sum_{j=i+1}^n a_{ij}x_j}{a_{ii}} \quad i = n-1, \dots, 1. \end{array} \right. \tag{3.6}$$

Il metodo (3.6) prende il nome di **metodo di sostituzione all'indietro**, poiché il vettore \mathbf{x} viene calcolato partendo dall'ultima componente.

Anche per il seguente sistema il vettore soluzione è calcolabile in modo analogo.

$$\begin{array}{rcccccc}
 a_{11}x_1 & & & & & = & b_1 \\
 a_{21}x_1 & +a_{22}x_2 & & & & = & b_2 \\
 \vdots & \vdots & \ddots & & & \vdots & \\
 a_{i1}x_1 & +a_{i2}x_2 & \dots & +a_{ii}x_i & & = & b_i \\
 \vdots & \vdots & & & \ddots & \vdots & \\
 a_{n1}x_1 & +a_{n2}x_2 & \dots & +a_{ni}x_i & \dots & +a_{nn}x_n & = & b_n
 \end{array} \tag{3.7}$$

In questo caso la matrice dei coefficienti è **triangolare inferiore** e la soluzione viene calcolata con il **metodo di sostituzione in avanti**:

$$\left\{ \begin{array}{l}
 x_1 = \frac{b_1}{a_{11}} \\
 \\
 x_i = \frac{b_i - \sum_{j=1}^{i-1} a_{ij}x_j}{a_{ii}} \quad i = 2, \dots, n.
 \end{array} \right.$$

Concludiamo questo paragrafo facendo alcune considerazioni sul costo computazionale dei metodi di sostituzione. Per costo computazionale di un algoritmo si intende il numero di operazioni che esso richiede per fornire la soluzione di un determinato problema. La misura del costo computazionale di un algoritmo fornisce una stima (seppur grossolana) del tempo che esso richiede per fornire la soluzione approssimata di un determinato problema indipendentemente dall'elaboratore che viene utilizzato e dal linguaggio di programmazione in cui esso è stato codificato. Nel caso di algoritmi numerici le operazioni che si contano sono quelle aritmetiche su dati reali. Considerando per esempio il metodo di sostituzione in avanti, per calcolare x_1 è necessaria una sola operazione (una divisione), per calcolare x_2 le operazioni sono tre (un prodotto, una somma algebrica e una divisione), mentre il generico x_i richiede $2i - 1$ operazioni ($i - 1$ prodotti, $i - 1$ somme algebriche e una divisione). Indicato con $c(n)$ il numero totale di operazioni necessarie è:

$$C(n) = \sum_{i=1}^n (2i - 1) = 2 \sum_{i=1}^n i - \sum_{i=1}^n 1 = 2 \frac{n(n+1)}{2} - n = n^2,$$

sfruttando la proprietà che

$$\sum_{i=1}^n i = \frac{n(n+1)}{2}.$$

Il costo computazionale viene sempre valutato in funzione di un determinato parametro (il numero assoluto in sè non avrebbe alcun significato) che, in questo caso è la dimensione del sistema. In questo modo è possibile prevedere il tempo necessario per calcolare la soluzione del problema.

3.3 Metodo di Eliminazione di Gauss

L'idea di base del metodo di Gauss è appunto quella di operare delle opportune trasformazioni sul sistema originale $A\mathbf{x} = \mathbf{b}$, che non costino eccessivamente, in modo da ottenere un sistema equivalente¹ avente come matrice dei coefficienti una matrice triangolare superiore.

Supponiamo di dover risolvere il sistema:

$$\begin{array}{ccccrc} 2x_1 & +x_2 & +x_3 & & = & -1 \\ -6x_1 & -4x_2 & -5x_3 & +x_4 & = & 1 \\ -4x_1 & -6x_2 & -3x_3 & -x_4 & = & 2 \\ 2x_1 & -3x_2 & +7x_3 & -3x_4 & = & 0. \end{array}$$

Il vettore soluzione di un sistema lineare non cambia se ad un'equazione viene sommata la combinazione lineare di un'altra equazione del sistema. L'idea alla base del metodo di Gauss è quella di ottenere un sistema lineare con matrice dei coefficienti triangolare superiore effettuando opportune combinazioni lineari tra le equazioni. Poniamo

$$A^{(1)} = \begin{bmatrix} 2 & 1 & 1 & 0 \\ -6 & -4 & -5 & 1 \\ -4 & -6 & -3 & -1 \\ 2 & -3 & 7 & -3 \end{bmatrix}, \quad \mathbf{b}^{(1)} = \begin{bmatrix} -1 \\ 1 \\ 2 \\ 0 \end{bmatrix}$$

¹Due sistemi si dicono equivalenti se ammettono lo stesso insieme di soluzioni, quindi nel nostro caso la stessa soluzione. Osserviamo che se \mathbf{x}^* è un vettore tale che $A\mathbf{x}^* = \mathbf{b}$ e B è una matrice non singolare allora $BA\mathbf{x}^* = B\mathbf{b}$; viceversa se $BA\mathbf{x}^* = B\mathbf{b}$ e B è non singolare allora $B^{-1}BA\mathbf{x}^* = B^{-1}B\mathbf{b}$ e quindi $A\mathbf{x}^* = \mathbf{b}$. Dunque se B è non singolare i sistemi $A\mathbf{x} = \mathbf{b}$ e $BA\mathbf{x} = B\mathbf{b}$ sono equivalenti.

rispettivamente la matrice dei coefficienti e il vettore dei termini noti del sistema di partenza. Calcoliamo un sistema lineare equivalente a quello iniziale ma che abbia gli elementi sottodiagonali della prima colonna uguali a zero. Azzeriamo ora l'elemento $a_{21}^{(1)}$. Lasciamo inalterata la prima equazione. Poniamo

$$l_{21} = -\frac{a_{21}}{a_{11}} = -\frac{-6}{2} = 3$$

e moltiplichiamo la prima equazione per l_{21} ottenendo:

$$6x_1 + 3x_2 + 3x_3 = -3.$$

La nuova seconda equazione sarà la somma tra la seconda equazione e la prima moltiplicata per l_{21} :

$$\begin{array}{rccccrc} -6x_1 & -4x_2 & -5x_3 & +x_4 & = & 1 & \\ 6x_1 & +3x_2 & +3x_3 & & = & -3 & \\ \hline & -x_2 & -2x_3 & +x_4 & = & -2 & \text{[Nuova seconda equazione].} \end{array}$$

Procediamo nello stesso modo per azzerare gli altri elementi della prima colonna. Poniamo

$$l_{31} = -\frac{a_{31}^{(1)}}{a_{11}^{(1)}} = -\frac{-4}{2} = 2$$

e moltiplichiamo la prima equazione per l_{31} ottenendo:

$$4x_1 + 2x_2 + 2x_3 = -2.$$

La nuova terza equazione sarà la somma tra la terza equazione e la prima moltiplicata per l_{31} :

$$\begin{array}{rccccrc} -4x_1 & -6x_2 & -3x_3 & -x_4 & = & 2 & \\ 4x_1 & +2x_2 & +2x_3 & & = & -2 & \\ \hline & -4x_2 & -x_3 & -x_4 & = & 0 & \text{[Nuova terza equazione].} \end{array}$$

Poniamo ora

$$l_{41} = -\frac{a_{41}^{(1)}}{a_{11}^{(1)}} = -\frac{2}{2} = -1$$

e moltiplichiamo la prima equazione per l_{41} ottenendo:

$$-2x_1 - x_2 - x_3 = 1.$$

La nuova quarta equazione sarà la somma tra la quarta equazione e la prima moltiplicata per l_{41} :

$$\begin{array}{rccccrc} 2x_1 & -3x_2 & +7x_3 & -3x_4 & = & 0 \\ -2x_1 & -x_2 & -x_3 & & = & 1 \\ \hline & -4x_2 & +6x_3 & -3x_4 & = & 1 \end{array} \quad \text{[Nuova quarta equazione].}$$

I numeri $l_{21}, l_{3,1}, \dots$ sono detti **moltiplicatori**.

Al secondo passo il sistema lineare è diventato:

$$\begin{array}{rccccrc} 2x_1 & +x_2 & +x_3 & & = & -1 \\ & -x_2 & -2x_3 & +x_4 & = & -2 \\ & -4x_2 & -x_3 & -x_4 & = & 0 \\ & -4x_2 & +6x_3 & -3x_4 & = & 1. \end{array}$$

La matrice dei coefficienti e il vettore dei termini noti sono diventati:

$$A^{(2)} = \begin{bmatrix} 2 & 1 & 1 & 0 \\ 0 & -1 & -2 & 1 \\ 0 & -4 & -1 & -1 \\ 0 & -4 & 6 & -3 \end{bmatrix}, \quad \mathbf{b}^{(2)} = \begin{bmatrix} -1 \\ -2 \\ 0 \\ 1 \end{bmatrix}.$$

Cerchiamo ora di azzerare gli elementi sottodiagonali della seconda colonna, a partire da a_{32} , usando una tecnica simile. Innanzitutto osserviamo che non conviene prendere in considerazione una combinazione lineare che coinvolga la prima equazione perchè avendo questa un elemento in prima posizione diverso da zero quando sommata alla terza equazione cancellerà l'elemento uguale a zero in prima posizione. Lasciamo inalterate le prime due equazioni del sistema e prendiamo come equazione di riferimento la seconda. Poichè $a_{22}^{(2)} \neq 0$ poniamo

$$l_{32} = -\frac{a_{32}^{(2)}}{a_{22}^{(2)}} = -\frac{-4}{-1} = -4$$

e moltiplichiamo la seconda equazione per l_{32} ottenendo:

$$4x_2 + 8x_3 - 4x_4 = 8.$$

La nuova terza equazione sarà la somma tra la terza equazione e la seconda appena modificata:

$$\begin{array}{rccccrc} -4x_2 & -x_3 & -x_4 & = & 0 \\ 4x_2 & +8x_3 & -4x_4 & = & 8 \\ \hline & 7x_3 & -5x_4 & = & 8 \end{array} \quad \text{[Nuova terza equazione].}$$

Poniamo

$$l_{42} = -\frac{a_{42}^{(2)}}{a_{22}^{(2)}} = -\frac{-4}{-1} = -4$$

e moltiplichiamo la seconda equazione per l_{42} ottenendo:

$$4x_2 + 8x_3 - 4x_4 = 8.$$

La nuova quarta equazione sarà la somma tra la quarta equazione e la seconda appena modificata:

$$\begin{array}{rcl} -4x_2 & +6x_3 & -3x_4 = 1 \\ 4x_2 & +8x_3 & -4x_4 = 8 \\ \hline & 14x_3 & -7x_4 = 9 \quad \text{[Nuova quarta equazione].} \end{array}$$

Al terzo passo il sistema lineare è diventato:

$$\begin{array}{rcl} 2x_1 & +x_2 & +x_3 = -1 \\ & -x_2 & -2x_3 +x_4 = -2 \\ & & 7x_3 -5x_4 = 8 \\ & & 14x_3 -7x_4 = 9. \end{array}$$

La matrice dei coefficienti e il vettore dei termini noti sono quindi

$$A^{(3)} = \begin{bmatrix} 2 & 1 & 1 & 0 \\ 0 & -1 & -2 & 1 \\ 0 & 0 & 7 & -5 \\ 0 & 0 & 14 & -7 \end{bmatrix}, \quad \mathbf{b}^{(3)} = \begin{bmatrix} -1 \\ -2 \\ 8 \\ 9 \end{bmatrix}.$$

Resta da azzerare l'unico elemento sottodiagonali della terza colonna. Lasciamo inalterate le prime tre equazioni del sistema. Poniamo

$$l_{43} = -\frac{a_{43}^{(3)}}{a_{33}^{(3)}} = -\frac{14}{7} = -2$$

e moltiplichiamo la terza equazione per l_{43} ottenendo:

$$-14x_3 + 10x_4 = -16.$$

La nuova quarta equazione sarà la somma tra la quarta equazione e la terza appena modificata:

$$\begin{array}{rcl} 14x_3 & -7x_4 & = -16 \\ -14x_3 & +10x_4 & = 9 \\ \hline & 3x_4 & = -7 \quad \text{[Nuova quarta equazione].} \end{array}$$

Abbiamo ottenuto un sistema triangolare superiore:

$$\begin{array}{rcccc} 2x_1 & +x_2 & +x_3 & & = -1 \\ & -x_2 & -2x_3 & +x_4 & = -2 \\ & & 7x_3 & -5x_4 & = 8 \\ & & & 3x_4 & = -7. \end{array}$$

La matrice dei coefficienti e il vettore dei termini noti sono diventati:

$$A^{(4)} = \begin{bmatrix} 2 & 1 & 1 & 0 \\ 0 & -1 & -2 & 1 \\ 0 & 0 & 7 & -5 \\ 0 & 0 & 0 & 3 \end{bmatrix}, \quad \mathbf{b}^{(4)} = \begin{bmatrix} -1 \\ -2 \\ 8 \\ -7 \end{bmatrix}.$$

Cerchiamo ora di ricavare le formule di trasformazione del metodo di eliminazione di Gauss per rendere un generico sistema di ordine n in forma triangolare superiore.

Consideriamo il sistema di equazioni nella sua forma scalare (3.2):

$$\sum_{j=1}^n a_{ij}x_j = b_i, \quad i = 1, \dots, n. \quad (3.8)$$

Poichè il procedimento richiede un certo numero di passi indichiamo con $a_{ij}^{(1)}$ e $b_i^{(1)}$ gli elementi della matrice dei coefficienti e del vettore dei termini noti del sistema di partenza. Isoliamo in ogni equazione la componente x_1 . Abbiamo:

$$a_{11}^{(1)}x_1 + \sum_{j=2}^n a_{1j}^{(1)}x_j = b_1^{(1)} \quad (3.9)$$

$$a_{i1}^{(1)}x_1 + \sum_{j=2}^n a_{ij}^{(1)}x_j = b_i^{(1)}, \quad i = 2, \dots, n. \quad (3.10)$$

Moltiplicando l'equazione (3.9) per $-a_{i1}^{(1)}/a_{11}^{(1)}$, $i = 2, \dots, n$, si ottengono le seguenti $n - 1$ equazioni:

$$-a_{i1}^{(1)}x_1 + \sum_{j=2}^n \left(-\frac{a_{i1}^{(1)}}{a_{11}^{(1)}}a_{1j}^{(1)} \right) x_j = -\frac{a_{i1}^{(1)}}{a_{11}^{(1)}}b_1^{(1)}, \quad i = 2, \dots, n. \quad (3.11)$$

Sommando alle equazioni (3.10) le (3.11) si ricavano $n - 1$ nuove equazioni:

$$\sum_{j=2}^n \left(a_{ij}^{(1)} - \frac{a_{i1}^{(1)}}{a_{11}^{(1)}} a_{1j}^{(1)} \right) x_j = b_i^{(1)} - \frac{a_{i1}^{(1)}}{a_{11}^{(1)}} b_1^{(1)}, \quad i = 2, \dots, n. \quad (3.12)$$

L'equazione (3.9) insieme alle (3.12) formano un nuovo sistema di equazioni, equivalente a quello originario, che possiamo scrivere nel seguente modo:

$$\begin{cases} a_{11}^{(1)} x_1 + \sum_{j=2}^n a_{1j}^{(1)} x_j = b_1^{(1)} \\ \sum_{j=2}^n a_{ij}^{(2)} x_j = b_i^{(2)} \quad i = 2, \dots, n \end{cases} \quad (3.13)$$

dove

$$\begin{cases} a_{ij}^{(2)} = a_{ij}^{(1)} - \frac{a_{i1}^{(1)}}{a_{11}^{(1)}} a_{1j}^{(1)} \quad i, j = 2, \dots, n \\ b_i^{(2)} = b_i^{(1)} - \frac{a_{i1}^{(1)}}{a_{11}^{(1)}} b_1^{(1)} \quad i = 2, \dots, n. \end{cases} \quad (3.14)$$

Osserviamo che la matrice dei coefficienti del sistema (3.13) è la seguente

$$A^{(2)} = \begin{bmatrix} a_{11}^{(1)} & a_{12}^{(1)} & \dots & a_{1n}^{(1)} \\ 0 & a_{22}^{(2)} & \dots & a_{2n}^{(2)} \\ \vdots & \vdots & & \vdots \\ 0 & a_{n2}^{(2)} & \dots & a_{nn}^{(2)} \end{bmatrix}.$$

Ora a partire dal sistema di equazioni

$$\sum_{j=2}^n a_{ij}^{(2)} x_j = b_i^{(2)} \quad i = 2, \dots, n,$$

ripetiamo i passi fatti precedentemente:

$$a_{22}^{(2)} x_2 + \sum_{j=3}^n a_{2j}^{(2)} x_j = b_2^{(2)} \quad (3.15)$$

$$a_{i2}^{(2)}x_2 + \sum_{j=3}^n a_{ij}^{(2)}x_j = b_i^{(2)}, \quad i = 3, \dots, n. \quad (3.16)$$

Moltiplicando l'equazione (3.15) per $-a_{i2}^{(2)}/a_{22}^{(2)}$, per $i = 3, \dots, n$, si ottiene

$$a_{i2}^{(2)}x_2 + \sum_{j=3}^n \left(-\frac{a_{i2}^{(2)}}{a_{22}^{(2)}} a_{2j}^{(2)} \right) x_j = -\frac{a_{i2}^{(2)}}{a_{22}^{(2)}} b_2^{(2)}, \quad i = 3, \dots, n. \quad (3.17)$$

Sommando le equazioni (3.17) alle (3.16) si ottengono $n - 2$ nuove equazioni:

$$\sum_{j=3}^n \left(a_{ij}^{(2)} - \frac{a_{i2}^{(2)}}{a_{22}^{(2)}} a_{2j}^{(2)} \right) x_j = b_i^{(2)} - \frac{a_{i2}^{(2)}}{a_{22}^{(2)}} b_2^{(2)}, \quad i = 3, \dots, n \quad (3.18)$$

che possiamo scrivere in forma più compatta:

$$\sum_{j=3}^n a_{ij}^{(3)} x_j = b_i^{(3)} \quad i = 3, \dots, n$$

dove

$$\begin{cases} a_{ij}^{(3)} = a_{ij}^{(2)} - \frac{a_{i2}^{(2)}}{a_{22}^{(2)}} a_{2j}^{(2)} & i, j = 3, \dots, n \\ b_i^{(3)} = b_i^{(2)} - \frac{a_{i2}^{(2)}}{a_{22}^{(2)}} b_2^{(2)} & i = 3, \dots, n. \end{cases}$$

Abbiamo il nuovo sistema equivalente:

$$\begin{cases} \sum_{j=1}^n a_{1j}^{(1)} x_j = b_1^{(1)} \\ \sum_{j=2}^n a_{2j}^{(2)} x_j = b_2^{(2)} \\ \sum_{j=3}^n a_{ij}^{(3)} x_j = b_i^{(3)} & i = 3, \dots, n. \end{cases}$$

Osserviamo che in questo caso la matrice dei coefficienti è

$$A^{(3)} = \begin{bmatrix} a_{11}^{(1)} & a_{12}^{(1)} & a_{13}^{(1)} & \dots & a_{1n}^{(1)} \\ 0 & a_{22}^{(2)} & a_{23}^{(2)} & \dots & a_{2n}^{(2)} \\ 0 & 0 & a_{33}^{(3)} & \dots & a_{3n}^{(3)} \\ \vdots & \vdots & \vdots & & \vdots \\ 0 & 0 & a_{n3}^{(3)} & \dots & a_{nn}^{(3)} \end{bmatrix}.$$

È evidente ora che dopo $n - 1$ passi di questo tipo arriveremo ad un sistema equivalente a quello di partenza avente la forma:

$$\begin{bmatrix} a_{11}^{(1)} & a_{12}^{(1)} & \dots & \dots & a_{1n}^{(1)} \\ 0 & a_{22}^{(2)} & \dots & \dots & a_{2n}^{(2)} \\ 0 & 0 & \ddots & & \vdots \\ \vdots & \vdots & \ddots & a_{n-1, n-1}^{(n-1)} & a_{n-1, n}^{(n-1)} \\ 0 & 0 & \dots & 0 & a_{nn}^{(n)} \end{bmatrix} \begin{bmatrix} x_1 \\ x_2 \\ \vdots \\ x_{n-1} \\ x_n \end{bmatrix} = \begin{bmatrix} b_1^{(1)} \\ b_2^{(2)} \\ \vdots \\ b_{n-1}^{(n-1)} \\ b_n^{(n)} \end{bmatrix}$$

la cui soluzione, come abbiamo visto, si ottiene facilmente, e dove le formule di trasformazione al passo k sono:

$$a_{ij}^{(k+1)} = a_{ij}^{(k)} - \frac{a_{ik}^{(k)}}{a_{kk}^{(k)}} a_{kj}^{(k)} \quad i, j = k + 1, \dots, n \quad (3.19)$$

e

$$b_i^{(k+1)} = b_i^{(k)} - \frac{a_{ik}^{(k)}}{a_{kk}^{(k)}} b_k^{(k)} \quad i = k + 1, \dots, n. \quad (3.20)$$

Soffermiamoci ora un momento sul primo passo del procedimento. Osserviamo che per ottenere il 1° sistema equivalente abbiamo operato le seguenti fasi:

1. moltiplicazione della prima riga della matrice dei coefficienti (e del corrispondente elemento del termine noto) per un opportuno scalare;
2. sottrazione dalla riga i -esima di A della prima riga modificata dopo il passo 1.

Il valore di k varia da 1 (matrice dei coefficienti e vettore dei termini noti iniziali) fino a $n - 1$, infatti la matrice $A^{(n)}$ avrà gli elementi sottodigionali

delle prime $n - 1$ colonne uguali a zero.

Si può osservare che il metodo di eliminazione di Gauss ha successo se tutti gli elementi $a_{kk}^{(k)}$ sono diversi da zero, che sono detti **elementi pivotali**.

Una proprietà importante delle matrici $A^{(k)}$ è il fatto che le operazioni effettuate non alterano il determinante della matrice, quindi

$$\det A^{(k)} = \det A,$$

per ogni k . Poichè la matrice $A^{(n)}$ è triangolare superiore allora il suo determinante può essere calcolato esplicitamente

$$\det A^{(n)} = \prod_{k=1}^n a_{kk}^{(k)}.$$

Quello appena descritto è un modo, alternativo alla regola di Laplace per calcolare il determinante della matrice A .

Esempio 3.3.1 *Calcolare il determinante della matrice*

$$A = \begin{bmatrix} 3 & 3 & 5 & 0 \\ 3 & 2 & 6 & -1 \\ 0 & 2 & 0 & 4 \\ 1 & 3 & 0 & 4 \end{bmatrix}$$

utilizzando il metodo di eliminazione di Gauss.

Posto $A^{(1)} = A$, calcoliamo i tre moltiplicatori

$$l_{2,1} = -1, \quad l_{3,1} = 0, \quad l_{4,1} = -\frac{1}{3}.$$

Calcoliamo la seconda riga:

$$\begin{array}{rcccccc} [2^a \text{ riga di } A^{(1)} +] & 3 & 2 & 6 & -1 & + \\ [(-1) \times 1^a \text{ riga di } A^{(1)}] & -3 & -3 & -5 & 0 & = \\ \hline [2^a \text{ riga di } A^{(2)}] & 0 & -1 & 1 & -1 & \end{array}$$

La terza riga non cambia perchè il moltiplicatore è nullo, mentre la quarta riga è

$$\begin{array}{rcccccc} [4^a \text{ riga di } A^{(1)} +] & 1 & 3 & 0 & 4 & + \\ [(-1/3) \times 1^a \text{ riga di } A^{(1)}] & -1 & -1 & -5/3 & 0 & = \\ \hline [4^a \text{ riga di } A^{(2)}] & 0 & 2 & -5/3 & 4 & \end{array}$$

Abbiamo ottenuto la seguente matrice al passo 2:

$$A^{(2)} = \begin{bmatrix} 3 & 3 & 5 & 0 \\ 0 & -1 & 1 & -1 \\ 0 & 2 & 0 & 4 \\ 0 & 2 & -5/3 & 4 \end{bmatrix}.$$

Calcoliamo i due moltiplicatori

$$l_{3,2} = 2, \quad l_{4,2} = 2.$$

Calcoliamo la terza riga:

$$\begin{array}{rcccccl} [3^a \text{ riga di } A^{(2)} +] & 0 & 2 & 0 & 4 & + \\ [(2) \times 2^a \text{ riga di } A^{(2)}] & 0 & -2 & 2 & -2 & = \\ \hline [3^a \text{ riga di } A^{(3)}] & 0 & 0 & 2 & 2 & \end{array}$$

La quarta riga è

$$\begin{array}{rcccccl} [4^a \text{ riga di } A^{(2)} +] & 0 & 2 & -5/3 & 4 & + \\ [(2) \times 2^a \text{ riga di } A^{(2)}] & 0 & -2 & 2 & -2 & = \\ \hline [4^a \text{ riga di } A^{(3)}] & 0 & 0 & 1/3 & 2 & \end{array}$$

Abbiamo ottenuto la seguente matrice al passo 3:

$$A^{(3)} = \begin{bmatrix} 3 & 3 & 5 & 0 \\ 0 & -1 & 1 & -1 \\ 0 & 0 & 2 & 2 \\ 0 & 0 & 1/3 & 2 \end{bmatrix}.$$

Calcoliamo l'unico moltiplicatore del terzo passo:

$$l_{4,3} = -\frac{1}{6}.$$

La quarta riga è

$$\begin{array}{rcccccl} [4^a \text{ riga di } A^{(3)} +] & 0 & 0 & 1/3 & 2 & + \\ [(-1/6) \times 3^a \text{ riga di } A^{(3)}] & 0 & 0 & -1/3 & -1/3 & = \\ \hline [4^a \text{ riga di } A^{(4)}] & 0 & 0 & 0 & 5/3 & \end{array}$$

La matrice triagolarizzata è

$$A^{(4)} = \begin{bmatrix} 3 & 3 & 5 & 0 \\ 0 & -1 & 1 & -1 \\ 0 & 0 & 2 & 2 \\ 0 & 0 & 0 & 5/3 \end{bmatrix}.$$

Il determinante della matrice è uguale al prodotto degli elementi diagonali della matrice triangolare, ovvero

$$\det A = -10.$$

Esempio 3.3.2 *Calcolare l'inversa della matrice*

$$A = \begin{bmatrix} 2 & 1 & 0 & 1 \\ 1 & 1 & 2 & 0 \\ -1 & 0 & 3 & 1 \\ 1 & 1 & 2 & 2 \end{bmatrix}$$

utilizzando il metodo di eliminazione di Gauss.

L'inversa di A è la matrice X tale che

$$AX = I$$

ovvero, detta \mathbf{x}_i la i -esima colonna di X , questo è soluzione del sistema lineare

$$A\mathbf{x}_i = \mathbf{e}_i \quad (3.21)$$

dove \mathbf{e}_i è l' i -esimo versore della base canonica di \mathbb{R}^n . Posto $i = 1$ risolvendo il sistema

$$A\mathbf{x}_1 = \mathbf{e}_1, \quad \begin{bmatrix} 2 & 1 & 0 & 1 \\ 1 & 1 & 2 & 0 \\ -1 & 0 & 3 & 1 \\ 1 & 1 & 2 & 2 \end{bmatrix} \begin{bmatrix} x_1 \\ x_2 \\ x_3 \\ x_4 \end{bmatrix} = \begin{bmatrix} 1 \\ 0 \\ 0 \\ 0 \end{bmatrix}$$

si ottengono gli elementi della prima colonna di A^{-1} . Posto $A^{(1)} = A$ gli elementi della matrice al passo 2 sono calcolati applicando le formule

$$a_{ij}^{(2)} = a_{ij}^{(1)} - \frac{a_{i1}^{(1)}}{a_{11}^{(1)}} a_{1j}^{(1)}, \quad i, j = 2, 3, 4.$$

Tralasciando il dettaglio delle operazioni risulta

$$A^{(2)} = \begin{bmatrix} 2 & 1 & 0 & 1 \\ 0 & 1/2 & 2 & -1/2 \\ 0 & 1/2 & 3 & 3/2 \\ 0 & 1/2 & 2 & 3/2 \end{bmatrix}, \quad \mathbf{e}_1^{(2)} = \begin{bmatrix} 1 \\ -1/2 \\ 1/2 \\ -1/2 \end{bmatrix}$$

Applicando le formula

$$a_{ij}^{(3)} = a_{ij}^{(2)} - \frac{a_{i2}^{(2)}}{a_{22}^{(2)}} a_{2j}^{(2)}, \quad i, j = 3, 4.$$

si ottiene il sistema al terzo passo

$$A^{(3)} = \begin{bmatrix} 2 & 1 & 0 & 1 \\ 0 & 1/2 & 2 & -1/2 \\ 0 & 0 & 1 & 2 \\ 0 & 0 & 0 & 2 \end{bmatrix}, \quad \mathbf{e}_1^{(3)} = \begin{bmatrix} 1 \\ -1/2 \\ 1 \\ 0 \end{bmatrix}.$$

In questo caso non è necessario applicare l'ultimo passo del metodo in quanto la matrice è già triangolare superiore e pertanto si può risolvere il sistema triangolare superiore ottenendo:

$$x_4 = 0, \quad x_3 = 1, \quad x_2 = -5, \quad x_1 = 3.$$

Cambiando i termini noti del sistema (3.21), ponendo $i = 2, 3, 4$ si ottengono le altre tre colonne della matrice inversa.

3.3.1 Costo Computazionale del Metodo di Eliminazione di Gauss

Cerchiamo ora di determinare il costo computazionale (cioè il numero di operazioni aritmetiche) richiesto dal metodo di eliminazione di Gauss per risolvere un sistema lineare di ordine n . Il calcolo del costo computazionale richiede quattro fasi:

1. Numero di operazioni aritmetiche necessarie per modificare un singolo elemento della matrice dei coefficienti e del vettore dei termini noti;
2. Numero di operazioni aritmetiche necessarie per calcolare la matrice $A^{(k+1)}$ ed il vettore $\mathbf{b}^{(k+1)}$ partendo da $A^{(k)}$ e $\mathbf{b}^{(k)}$, con k valore generico;

3. Numero di operazioni aritmetiche richieste per effettuare tutti gli $n - 1$ passi del metodo;
4. Numero di operazioni aritmetiche richieste dalla risoluzione del sistema triangolare superiore.

Di tali fasi solo per l'ultima sappiamo che esso è pari a n^2 .

Per la prima fase dalle relazioni

$$b_i^{(k+1)} = b_i^{(k)} - \frac{a_{ik}^{(k)}}{a_{kk}^{(k)}} b_k^{(k)}, \quad i = k + 1, \dots, n,$$

$$a_{ij}^{(k+1)} = a_{ij}^{(k)} - \frac{a_{ik}^{(k)}}{a_{kk}^{(k)}} a_{kj}^{(k)}, \quad i, j = k + 1, \dots, n$$

è evidente che servono 3 operazioni aritmetiche per calcolare $b_i^{(k+1)}$ (noti $a_{ij}^{(k)}$ e $b_i^{(k)}$) mentre sono necessarie solo 2 operazioni per calcolare $a_{ij}^{(k+1)}$ (noti $a_{ij}^{(k)}$ e $b_i^{(k)}$), infatti il moltiplicatore viene calcolato solo una volta.

Per determinare il numero richiesto dalla seconda fase esso è pari a:

$3 \times$ elementi del vettore calcolati $+ 2 \times$ elementi della matrice calcolati.

Il numero di elementi del vettore dei termini noti che vengono modificati è pari ad $n - k$ mentre gli elementi della matrice cambiati sono $(n - k)^2$ quindi complessivamente il numero di operazioni per calcolare gli elementi al passo $k + 1$ è:

$$2(n - k)^2 + 3(n - k). \quad (3.22)$$

Osserviamo che nel computo del numero di elementi della matrice che vengono calcolati non si tiene conto degli elementi che sono stati azzerati, in quanto è noto che sono uguali a zero e non c'è alcuna necessità di calcolarli. Per trasformare A in $A^{(n)}$ e \mathbf{b} in $\mathbf{b}^{(n)}$ è necessario un numero di operazioni pari alla somma, rispetto a k , di (3.22), ovvero

$$f(n) = 2 \sum_{k=1}^{n-1} (n - k)^2 + 3 \sum_{k=1}^{n-1} (n - k).$$

Sapendo che

$$\sum_{k=1}^n n^2 = \frac{n(n+1)(2n+1)}{6}$$

ed effettuando un opportuno cambio di indice nelle sommatorie risulta

$$f(n) = 2 \left[\frac{n(n-1)(2n-1)}{6} \right] + 3 \frac{n(n-1)}{2} = \frac{2}{3}n^3 + \frac{n^2}{2} - \frac{7}{6}n.$$

Nel calcolo del costo computazionale di un algoritmo si tende a considerare solo la componente più grande tralasciando quelle che contribuiscono meno a tale valore, pertanto si ha

$$f(n) \simeq \frac{2}{3}n^3.$$

A questo valore bisognerebbe aggiungere le n^2 operazioni aritmetiche necessarie per risolvere il sistema triangolare superiore ma tale valore non altera l'ordine di grandezza della funzione che è un valore molto inferiore rispetto alle $n!$ operazioni richieste dalla regola di Cramer, applicata insieme alla regola di Laplace.

Nel calcolo delle operazioni aritmetiche sono state considerate tutte le 4 operazioni aritmetiche, ipotizzando implicitamente che esse richiedano lo stesso tempo di esecuzione da parte dall'elaboratore (ottenendo una stima del tempo di risoluzione richiesto dal metodo). Nella realtà non è così in quanto le somme algebriche richiedono un tempo inferiore rispetto al prodotto ed al quoziente e pertanto il numero di tali operazioni andrebbe contato a parte. Facendo questo tipo di calcolo si scoprirebbe che il numero di moltiplicazioni/divisioni richiesto dal metodo è circa la metà di quello trovato:

$$f_1(n) \simeq \frac{n^3}{3}.$$

3.3.2 Strategie di Pivoting per il metodo di Gauss

Nell'eseguire il metodo di Gauss si è fatta l'implicita ipotesi (vedi formule (3.19) e (3.20)) che gli elementi pivotali $a_{kk}^{(k)}$ siano non nulli per ogni k . Tale situazione si verifica quando i minori principali di testa di A sono diversi da zero. Infatti vale il seguente risultato.

Teorema 3.3.1 *Se $A \in \mathbb{R}^{n \times n}$, indicata con A_k la sottomatrice principale di testa² di ordine k , risulta*

$$a_{kk}^{(k)} = \frac{\det A_k}{\det A_{k-1}}, \quad k = 1, \dots, n$$

²La sottomatrice principale di testa di ordine k si ottiene da A prendendo i primi k elementi delle prime k righe della matrice.

avendo posto per convenzione $\det A_0 = 1$.

In pratica questa non è un'ipotesi limitante in quanto la non singolarità di A permette, con un opportuno scambio di righe in $A^{(k)}$, di ricondursi a questo caso. Infatti scambiare due righe in $A^{(k)}$ significa sostanzialmente scambiare due equazioni nel sistema $A^{(k)}\mathbf{x} = \mathbf{b}^{(k)}$ e ciò non altera la natura del sistema stesso.

Consideriamo la matrice $A^{(k)}$ e supponiamo $a_{kk}^{(k)} = 0$. In questo caso possiamo scegliere un elemento sottodiagonale appartenente alla k -esima colonna diverso da zero, supponiamo $a_{ik}^{(k)}$, scambiare le equazioni di indice i e k e continuare il procedimento perchè in questo modo l'elemento pivotale è diverso da zero. In ipotesi di non singolarità della matrice A possiamo dimostrare che tale elemento diverso da zero esiste sicuramente. Infatti supponendo che, oltre all'elemento pivotale, siano nulli tutti gli $a_{ik}^{(k)}$ per $i = k+1, \dots, n$, allora $A^{(k)}$ ha la seguente struttura:

$$A^{(k)} = \begin{bmatrix} a_{11}^{(1)} & \cdots & a_{1,k-1}^{(1)} & a_{1k}^{(1)} & a_{1,k+1}^{(1)} & \cdots & a_{1n}^{(1)} \\ & \ddots & \vdots & \vdots & \vdots & & \vdots \\ & & a_{k-1,k-1}^{(k-1)} & a_{k-1,k}^{(k-1)} & a_{k-1,k+1}^{(k-1)} & \cdots & a_{k-1,n}^{(k-1)} \\ & & & 0 & a_{k,k+1}^{(k)} & & a_{kn}^{(k)} \\ & 0 & & \vdots & \vdots & & \vdots \\ & & & 0 & a_{n,k+1}^{(k)} & \cdots & a_{nn}^{(k)}. \end{bmatrix}$$

Se partizioniamo $A^{(k)}$ nel seguente modo

$$A^{(k)} = \begin{bmatrix} A_{11}^{(k)} & A_{12}^{(k)} \\ 0 & A_{22}^{(k)} \end{bmatrix}$$

con $A_{11}^{(k)} \in \mathbb{R}^{(k-1) \times (k-1)}$ allora il determinante di $A^{(k)}$ è

$$\det A^{(k)} = \det A_{11}^{(k)} \det A_{22}^{(k)} = 0$$

perchè la matrice $A_{22}^{(k)}$ ha una colonna nulla. Poichè tutte le matrici $A^{(k)}$ hanno lo stesso determinante di A , dovrebbe essere $\det A = 0$ e questo contrasta con l'ipotesi fatta. Possiamo concludere che se $a_{kk}^{(k)} = 0$ e $\det A \neq 0$ deve necessariamente esistere un elemento $a_{ik}^{(k)} \neq 0$, con $i \in \{k+1, k+2, \dots, n\}$. Per evitare che un elemento pivotale possa essere uguale a zero si applica

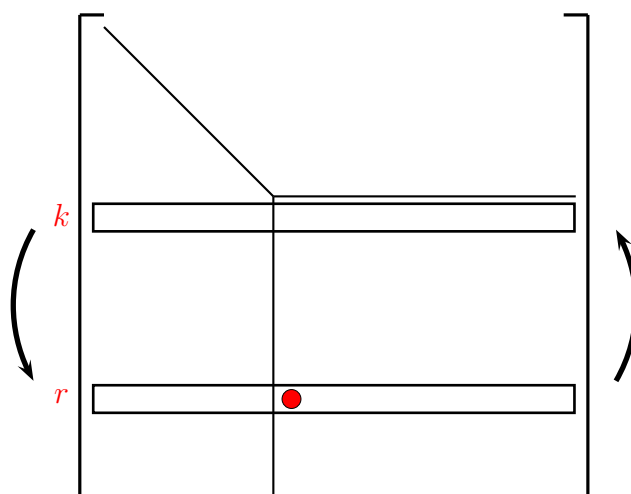


Figura 3.1: Strategia di pivoting parziale.

una delle cosiddette strategie di pivoting. La strategia di **Pivoting parziale** prevede che al k -esimo passo si ricerchi l'elemento di massimo modulo tra gli elementi $a_{kk}^{(k)}, a_{k+1,k}^{(k)}, \dots, a_{nk}^{(k)}$ e si scambi l'equazione in cui si trova questo elemento con la k -esima qualora esso sia diverso da $a_{kk}^{(k)}$. In altri termini il pivoting parziale richiede le seguenti operazioni:

1. determinare l'elemento $a_{rk}^{(k)}$ tale che

$$|a_{rk}^{(k)}| = \max_{k \leq i \leq n} |a_{ik}^{(k)}|;$$

2. effettuare lo scambio tra le equazioni del sistema di indice r e k .

In alternativa si può adottare la strategia di **pivoting totale** che è la seguente:

1. determinare gli indici r, s tali che

$$|a_{rs}^{(k)}| = \max_{k \leq i, j \leq n} |a_{ij}^{(k)}|;$$

2. effettuare lo scambio tra le equazioni del sistema di indice r e k .
3. effettuare lo scambio tra le colonne di indice s e k della matrice dei coefficienti.

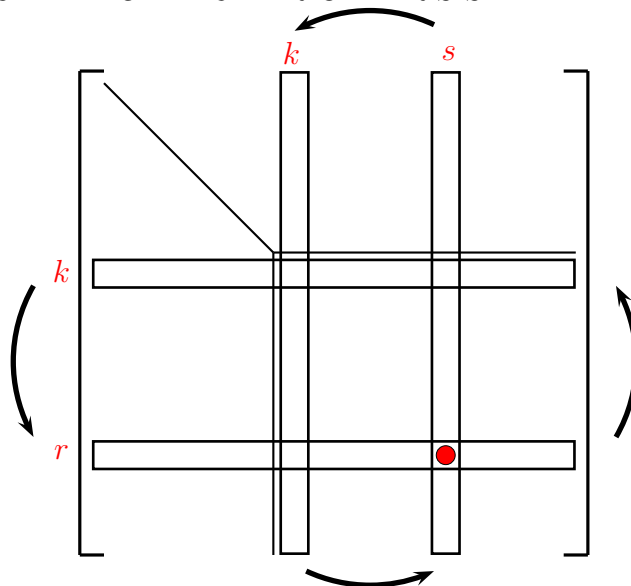


Figura 3.2: strategia di pivoting totale.

La strategia di pivoting totale è senz'altro migliore perchè garantisce maggiormente che un elemento pivotale non sia un numero piccolo (in questa eventualità potrebbe accadere che un moltiplicatore sia un numero molto grande) ma richiede che tutti gli eventuali scambi tra le colonne della matrice siano memorizzati. Infatti scambiare due colonne significa scambiare due incognite del vettore soluzione pertanto dopo la risoluzione del sistema triangolare per ottenere il vettore soluzione del sistema di partenza è opportuno permutare le componenti che sono state scambiate.

Esempio 3.3.3 Risolvere il sistema lineare $A\mathbf{x} = \mathbf{b}$ dove

$$A = \begin{bmatrix} 1 & 2 & -1 & 0 \\ 2 & -1 & -1 & 1 \\ 3 & 0 & -1 & 1 \\ 1 & -3 & 1 & 1 \end{bmatrix}, \quad \mathbf{b} = \begin{bmatrix} 2 \\ 1 \\ 4 \\ 2 \end{bmatrix}$$

utilizzando il metodo di eliminazione di Gauss con strategia di pivoting parziale.

Posto $A^{(1)} = A$, osserviamo che l'elemento pivotale della prima colonna si trova sulla terza riga allora scambiamo le equazioni 1 e 3:

$$A^{(1)} = \begin{bmatrix} 3 & 0 & -1 & 1 \\ 2 & -1 & -1 & 1 \\ 1 & 2 & -1 & 0 \\ 1 & -3 & 1 & 1 \end{bmatrix}, \quad \mathbf{b}^{(1)} = \begin{bmatrix} 4 \\ 1 \\ 2 \\ 2 \end{bmatrix}$$

calcoliamo i tre moltiplicatori

$$l_{2,1} = -\frac{2}{3}, \quad l_{3,1} = -\frac{1}{3}, \quad l_{4,1} = -\frac{1}{3}.$$

Calcoliamo la seconda riga:

$$\begin{array}{rcccccc} [2^a \text{ riga di } A^{(1)} +] & & 2 & -1 & -1 & 1 & 1 & + \\ [(-2/3) \times 1^a \text{ riga di } A^{(1)}] & & -2 & 0 & 2/3 & -2/3 & -8/3 & = \\ \hline [2^a \text{ riga di } A^{(2)}] & & 0 & -1 & -1/3 & 1/3 & -5/3 & \end{array}$$

La terza riga è la seguente:

$$\begin{array}{rcccccc} [3^a \text{ riga di } A^{(1)} +] & & 1 & 2 & -1 & 0 & 2 & + \\ [(-1/3) \times 1^a \text{ riga di } A^{(1)}] & & -1 & 0 & 1/3 & -1/3 & -4/3 & = \\ \hline [3^a \text{ riga di } A^{(2)}] & & 0 & 2 & -2/3 & -1/3 & 2/3 & \end{array}$$

mentre la quarta riga è

$$\begin{array}{rcccccc} [4^a \text{ riga di } A^{(1)} +] & & 1 & -3 & 1 & 1 & 2 & + \\ [(-1/3) \times 1^a \text{ riga di } A^{(1)}] & & -1 & 0 & 1/3 & -1/3 & -4/3 & = \\ \hline [4^a \text{ riga di } A^{(2)}] & & 0 & -3 & 4/3 & 2/3 & 2/3 & \end{array}$$

Abbiamo ottenuto la matrice ed il vettore al passo 2:

$$A^{(2)} = \begin{bmatrix} 3 & 0 & -1 & 1 \\ 0 & -1 & -1/3 & 1/3 \\ 0 & 2 & -2/3 & -1/3 \\ 0 & -3 & 4/3 & 2/3 \end{bmatrix}, \quad \mathbf{b}^{(2)} = \begin{bmatrix} 4 \\ -5/3 \\ 2/3 \\ 2/3 \end{bmatrix}.$$

L'elemento pivotale della seconda colonna si trova sulla quarta riga quindi scambiamo le equazioni 2 e 4:

$$A^{(2)} = \begin{bmatrix} 3 & 0 & -1 & 1 \\ 0 & -3 & 4/3 & 2/3 \\ 0 & 2 & -2/3 & -1/3 \\ 0 & -1 & -1/3 & 1/3 \end{bmatrix}, \quad \mathbf{b}^{(2)} = \begin{bmatrix} 4 \\ 2/3 \\ 2/3 \\ -5/3 \end{bmatrix}.$$

Calcoliamo i due moltiplicatori

$$l_{3,2} = \frac{2}{3}, \quad l_{4,2} = -\frac{1}{3}.$$

La terza riga è la seguente:

$$\begin{array}{rcccccc} [3^a \text{ riga di } A^{(2)} +] & 0 & 2 & -2/3 & -1/3 & 2/3 & + \\ [(2/3) \times 2^a \text{ riga di } A^{(2)}] & 0 & -2 & 8/9 & 4/9 & 4/9 & = \\ \hline [3^a \text{ riga di } A^{(3)}] & 0 & 0 & 2/9 & 1/9 & 10/9 & \end{array}$$

mentre la quarta riga è

$$\begin{array}{rcccccc} [4^a \text{ riga di } A^{(2)} +] & 0 & -1 & -1/3 & 1/3 & -5/3 & + \\ [(-1/3) \times 2^a \text{ riga di } A^{(2)}] & 0 & 1 & -4/9 & -2/9 & -2/9 & = \\ \hline [4^a \text{ riga di } A^{(3)}] & 0 & 0 & -7/9 & 1/9 & -17/9 & \end{array}$$

Abbiamo ottenuto la matrice ed il vettore al passo 3:

$$A^{(3)} = \begin{bmatrix} 3 & 0 & -1 & 1 \\ 0 & -3 & 4/3 & 2/3 \\ 0 & 0 & 2/9 & 1/9 \\ 0 & 0 & -7/9 & 1/9 \end{bmatrix}, \quad \mathbf{b}^{(3)} = \begin{bmatrix} 4 \\ 2/3 \\ 10/9 \\ -17/9 \end{bmatrix}.$$

L'elemento pivotale della terza colonna si trova sulla quarta riga quindi scambiamo le equazioni 3 e 4:

$$A^{(3)} = \begin{bmatrix} 3 & 0 & -1 & 1 \\ 0 & -3 & 4/3 & 2/3 \\ 0 & 0 & -7/9 & 1/9 \\ 0 & 0 & 2/9 & 1/9 \end{bmatrix}, \quad \mathbf{b}^{(3)} = \begin{bmatrix} 4 \\ 2/3 \\ -17/9 \\ 10/9 \end{bmatrix}.$$

Calcoliamo l'unico moltiplicatore del terzo passo:

$$l_{4,3} = \frac{2}{7}.$$

La quarta riga è

$$\begin{array}{rcccccc} [4^a \text{ riga di } A^{(3)} +] & 0 & 0 & 2/9 & 1/9 & 10/9 & + \\ [(2/7) \times 3^a \text{ riga di } A^{(3)}] & 0 & 0 & -2/9 & 2/63 & -34/63 & = \\ \hline [4^a \text{ riga di } A^{(4)}] & 0 & 0 & 0 & 1/7 & 4/7 & \end{array}$$

Il sistema triangolare superiore equivalente a quello iniziale ha come matrice dei coefficienti e come termine noto:

$$A^{(4)} = \begin{bmatrix} 3 & 0 & -1 & 1 \\ 0 & -3 & 4/3 & 2/3 \\ 0 & 0 & -7/9 & 1/9 \\ 0 & 0 & 0 & 1/7 \end{bmatrix}, \quad \mathbf{b}^{(4)} = \begin{bmatrix} 4 \\ 2/3 \\ -17/9 \\ 4/7 \end{bmatrix}.$$

Risolvendo tale sistema triangolare superiore si ricava il vettore:

$$x_4 = 4, \quad x_3 = 3, \quad x_2 = 2, \quad x_1 = 1.$$

Nelle pagine seguenti sono riportati i codici MatLab che implementano il metodo di Gauss con entrambe le strategie di pivoting descritte.

```
function x=Gauss(A,b)
%
% Metodo di eliminazione di Gauss
%
% Parametri di input:
% A = Matrice dei coefficienti del sistema
% b = Vettore dei termini noti del sistema
%
% Parametri di output:
% x = Vettore soluzione del sistema lineare
%
n = length(b);
x = zeros(n,1);
for k=1:n-1
    if abs(A(k,k))<eps
        error('Elemento pivotale nullo ')
    end
    for i=k+1:n
        A(i,k) = A(i,k)/A(k,k);
        b(i) = b(i)-A(i,k)*b(k);
        for j=k+1:n
            A(i,j) = A(i,j)-A(i,k)*A(k,j);
        end
    end
end
```

```
end
x(n) = b(n)/A(n,n);
for i=n-1:-1:1
    x(i) = (b(i)-A(i,i+1:n)*x(i+1:n))/A(i,i);
end
return

function x=Gauss_pp(A,b)
%
% Metodo di Gauss con pivot parziale
%
% Parametri di input:
% A = Matrice dei coefficienti del sistema
% b = Vettore dei termini noti del sistema
%
% Parametri di output:
% x = Vettore soluzione del sistema lineare
%
n = length(b);
x = zeros(n,1);
for k=1:n-1
    [a,i] = max(abs(A(k:n,k)));
    i = i+k-1;
    if i~=k
        A([i k],:) = A([k i],:);
        b([i k]) = b([k i]);
    end
    for i=k+1:n
        A(i,k) = A(i,k)/A(k,k);
        b(i) = b(i)-A(i,k)*b(k);
        for j=k+1:n
            A(i,j) = A(i,j)-A(i,k)*A(k,j);
        end
    end
end
end
x(n) = b(n)/A(n,n);
for i=n-1:-1:1
    x(i) = (b(i)-A(i,i+1:n)*x(i+1:n))/A(i,i);
```

```

end
return

function x=Gauss_pt(A,b)
%
% Metodo di Gauss con pivot totale
%
% Parametri di input:
% A = Matrice dei coefficienti del sistema
% b = Vettore dei termini noti del sistema
%
% Parametri di output:
% x = Vettore soluzione del sistema lineare
%
n = length(b);
x = zeros(n,1);
x1 = x;
indice = [1:n];
for k=1:n-1
    [a,riga] = max(abs(A(k:n,k:n)));
    [mass,col] = max(a);
    j = col+k-1;
    i = riga(col)+k-1;
    if i~=k
        A([i k],:) = A([k i],:);
        b([i k]) = b([k i]);
    end
    if j~=k
        A(:, [j k]) = A(:, [k j]);
        indice([j k]) = indice([k j]);
    end
    for i=k+1:n
        A(i,k) = A(i,k)/A(k,k);
        b(i) = b(i)-A(i,k)*b(k);
        for j=k+1:n
            A(i,j) = A(i,j)-A(i,k)*A(k,j);
        end
    end
end
end

```

```

end
%
% Risoluzione del sistema triangolare superiore
%
x1(n) = b(n)/A(n,n);
for i=n-1:-1:1
    x1(i) = (b(i)-A(i,i+1:n)*x1(i+1:n))/A(i,i);
end
%
% Ripermutazione del vettore
%
for i=1:n
    x(indice(i))=x1(i);
end
return

```

3.3.3 La Fattorizzazione LU

Introduzione

Supponiamo di dover risolvere un problema che richieda, ad un determinato passo, la risoluzione del sistema lineare $A\mathbf{x} = \mathbf{b}$ e di utilizzare il metodo di Gauss. La matrice viene resa triangolare superiore e viene risolto il sistema triangolare

$$A^{(n)}\mathbf{x} = \mathbf{b}^{(n)}. \quad (3.23)$$

Ipotizziamo che, nell'ambito dello stesso problema, dopo un certo tempo sia necessario risolvere il sistema

$$A\mathbf{x} = \mathbf{c}$$

in cui la matrice dei coefficienti è la stessa mentre è cambiato il termine noto. Appare chiaro che non è possibile sfruttare i calcoli già fatti in quanto il calcolo del vettore dei termini noti al passo n dipende dalle matrici ai passi precedenti all'ultimo, quindi la conoscenza della matrice $A^{(n)}$ è del tutto inutile. È necessario pertanto applicare nuovamente il metodo di Gauss e risolvere il sistema triangolare

$$A^{(n)}\mathbf{x} = \mathbf{c}^{(n)}. \quad (3.24)$$

L'algoritmo che sarà descritto in questo paragrafo consentirà di evitare l'eventualità di dover rifare tutti i calcoli (o una parte di questi).

Calcolo diretto della fattorizzazione LU

La **Fattorizzazione LU** di una matrice stabilisce, sotto determinate ipotesi, l'esistenza di una matrice L triangolare inferiore con elementi diagonali uguali a 1 e di una matrice triangolare superiore U tali che $A = LU$.

Una volta note tali matrici il sistema di partenza $A\mathbf{x} = \mathbf{b}$ viene scritto come

$$LU\mathbf{x} = \mathbf{b}$$

e, posto $U\mathbf{x} = \mathbf{y}$, il vettore \mathbf{x} viene trovato prima risolvendo il sistema triangolare inferiore

$$L\mathbf{y} = \mathbf{b}$$

e poi quello triangolare superiore

$$U\mathbf{x} = \mathbf{y}.$$

Vediamo ora di determinare le formule esplicite per gli elementi delle due matrici. Fissata la matrice A , quadrata di ordine n , imponiamo quindi che risulti

$$A = LU,$$

ovvero

$$\begin{bmatrix} a_{11} & \dots & a_{1j} & \dots & a_{1n} \\ \vdots & & \vdots & & \vdots \\ a_{i1} & \dots & a_{ij} & \dots & a_{in} \\ \vdots & & \vdots & & \vdots \\ a_{n1} & \dots & a_{nj} & \dots & a_{nn} \end{bmatrix} = \begin{bmatrix} 1 & 0 & \dots & \dots & \dots & 0 \\ l_{21} & 1 & \ddots & & & \vdots \\ \vdots & \ddots & \ddots & 0 & & \vdots \\ l_{i1} & \dots & l_{i,i-1} & 1 & \ddots & \vdots \\ \vdots & & \vdots & \ddots & \ddots & 0 \\ l_{n1} & \dots & l_{n,i-1} & l_{n,i} & \dots & 1 \end{bmatrix} \begin{bmatrix} u_{11} & \dots & \dots & u_{1j} & \dots & u_{1n} \\ 0 & u_{22} & \dots & u_{2j} & \dots & u_{2n} \\ \vdots & \ddots & \ddots & \vdots & & \vdots \\ \vdots & & \ddots & u_{jj} & \dots & u_{jn} \\ \vdots & & & \ddots & \ddots & \vdots \\ 0 & \dots & \dots & \dots & 0 & u_{nn} \end{bmatrix}.$$

Deve essere

$$a_{ij} = \sum_{k=1}^n l_{ik}u_{kj} = \sum_{k=1}^{\min(i,j)} l_{ik}u_{kj} \quad i, j = 1, \dots, n. \quad (3.25)$$

Considerando prima il caso $i \leq j$, uguagliando quindi la parte triangolare superiore delle matrici abbiamo

$$a_{ij} = \sum_{k=1}^i l_{ik} u_{kj} \quad j \geq i \quad (3.26)$$

ovvero

$$a_{ij} = \sum_{k=1}^{i-1} l_{ik} u_{kj} + l_{ii} u_{ij} = \sum_{k=1}^{i-1} l_{ik} u_{kj} + u_{ij} \quad j \geq i$$

infine risulta

$$u_{ij} = a_{ij} - \sum_{k=1}^{i-1} l_{ik} u_{kj} \quad j \geq i \quad (3.27)$$

e ovviamente $u_{1j} = a_{1j}$, per $j = 1, \dots, n$. Considerando ora il caso $j < i$, uguagliando cioè le parti strettamente triangolari inferiori delle matrici risulta:

$$a_{ij} = \sum_{k=1}^j l_{ik} u_{kj} \quad i > j \quad (3.28)$$

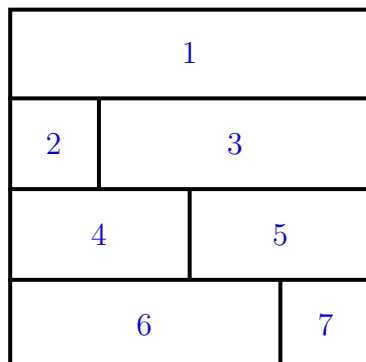
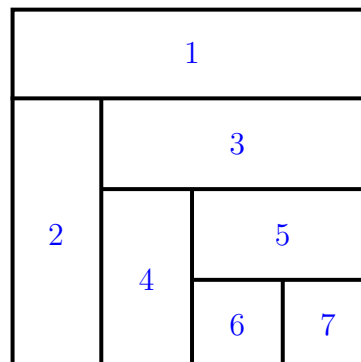
ovvero

$$a_{ij} = \sum_{k=1}^{j-1} l_{ik} u_{kj} + l_{ij} u_{jj} \quad i > j$$

da cui

$$l_{ij} = \frac{1}{u_{jj}} \left(a_{ij} - \sum_{k=1}^{j-1} l_{ik} u_{kj} \right) \quad i > j. \quad (3.29)$$

Si osservi che le formule (3.27) e (3.29) vanno implementate secondo uno degli schemi riportati nella seguente figura.

**Tecnica di Crout****Tecnica di Doolittle**

Ogni schema rappresenta in modo schematico una matrice la cui parte triangolare superiore indica la matrice U mentre quella triangolare inferiore la matrice L mentre i numeri indicano l'ordine con cui gli elementi saranno calcolati. Per esempio applicando la tecnica di Crout si segue il seguente ordine:

- 1° Passo: Calcolo della prima riga di U ;
- 2° Passo: Calcolo della seconda riga di L ;
- 3° Passo: Calcolo della seconda riga di U ;
- 4° Passo: Calcolo della terza riga di L ;
- 5° Passo: Calcolo della terza riga di U ;
- 6° Passo: Calcolo della quarta riga di L ;
- 7° Passo: Calcolo della quarta riga di U ;

e così via procedendo per righe in modo alternato. Nel caso della tecnica di Doolittle si seguono i seguenti passi:

- 1° Passo: Calcolo della prima riga di U ;
- 2° Passo: Calcolo della prima colonna di L ;
- 3° Passo: Calcolo della seconda riga di U ;

- 4° Passo: Calcolo della seconda colonna di L ;
- 5° Passo: Calcolo della terza riga di U ;
- 6° Passo: Calcolo della terza colonna di L ;
- 7° Passo: Calcolo della quarta riga di U .

La fattorizzazione LU è un metodo sostanzialmente equivalente al metodo di Gauss, infatti la matrice U che viene calcolata coincide con la matrice $A^{(n)}$. Lo svantaggio del metodo di fattorizzazione diretto risiede essenzialmente nella maggiore difficoltà, rispetto al metodo di Gauss, di poter programmare una strategia di pivot. Infatti se un elemento diagonale della matrice U è uguale a zero non è possibile applicare l'algoritmo.

```
function [L,U]=crout(A);
%
% La funzione calcola la fattorizzazione LU della
% matrice A applicando la tecnica di Crout
%
% L = matrice triang. inferiore con elementi diagonali
%   uguali a 1
% U = matrice triangolare superiore
%
[m n] = size(A);
U = zeros(n);
L = eye(n);
U(1,:) = A(1,:);
for i=2:n
    for j=1:i-1
        L(i,j) = (A(i,j) - L(i,1:j-1)*U(1:j-1,j))/U(j,j);
    end
    for j=i:n
        U(i,j) = A(i,j) - L(i,1:i-1)*U(1:i-1,j);
    end
end
return
```

```
function [L,U]=doolittle(A);
```

```

%
% La funzione calcola la fattorizzazione LU della
% matrice A applicando la tecnica di Doolittle
%
% L = matrice triang. inferiore con elementi diagonali
%   uguali a 1
% U = matrice triangolare superiore
%
[m n] = size(A);
L = eye(n);
U = zeros(n);
U(1,:) = A(1,:);
for i=1:n-1
    for riga=i+1:n
        L(riga,i)=(A(riga,i)-L(riga,1:i-1)*U(1:i-1,i))/U(i,i);
    end
    for col=i+1:n
        U(i+1,col) = A(i+1,col)-L(i+1,1:i)*U(1:i,col);
    end
end
end
return

```

Equivalenza tra metodo di Gauss e fattorizzazione LU

In questo paragrafo esplicitiamo la relazione di equivalenza che lega il metodo di eliminazione di Gauss (senza alcuna strategia di pivoting) e la fattorizzazione LU .

Supponiamo di dover risolvere il sistema

$$A\mathbf{x} = \mathbf{b} \quad \Leftrightarrow \quad A^{(1)}\mathbf{x} = \mathbf{b}^{(1)}$$

con $A \in \mathbb{R}^{n \times n}$ e tale che tutti i suoi minori principali siano diversi da zero, e $\mathbf{b} \in \mathbb{R}^n$. Definiamo ora la seguente matrice $L^{(1)}$, quadrata di ordine n , detta **matrice elementare di Gauss**:

$$L^{(1)} = \begin{bmatrix} 1 & & & & \\ l_{21} & 1 & & & 0 \\ l_{31} & 0 & 1 & & \\ \vdots & \vdots & \ddots & \ddots & \\ l_{n1} & 0 & \dots & 0 & 1 \end{bmatrix}, \quad m_{i1} \in \mathbb{R} \quad i = 2, \dots, n. \quad (3.30)$$

i cui elementi l_{i1} sono i moltiplicatori definiti al primo passo del metodo di Gauss. È facile verificare che

$$A^{(2)} = L^{(1)}A^{(1)}, \quad \mathbf{b}^{(2)} = L^{(1)}\mathbf{b}^{(1)}$$

pertanto il sistema al secondo passo si ottiene moltiplicando (a sinistra) il sistema di partenza per la matrice (3.30). La matrice $L^{(1)}$ ha determinante unitario pertanto le matrici $A^{(1)}$ e $A^{(2)}$ hanno lo stesso determinante (come abbiamo già osservato in precedenza). Si può verificare che ad un generico passo k , definita la k -esima matrice elementare di Gauss

$$L^{(k)} = \begin{bmatrix} 1 & & & & \\ & \ddots & & & \\ & & 1 & & \\ & & l_{k+1,k} & & \\ & & \vdots & \ddots & \\ & & l_{n,k} & & 1 \end{bmatrix},$$

in cui i numeri l_{ik} sono i moltiplicatori al passo k , si ottiene

$$A^{(k+1)} = L^{(k)}A^{(k)}, \quad \mathbf{b}^{(k+1)} = L^{(k)}\mathbf{b}^{(k)}. \quad (3.31)$$

Arrivando all'ultimo passo si ottiene

$$A^{(n)} = L^{(n-1)}A^{(n-1)}, \quad \mathbf{b}^{(n)} = L^{(n-1)}\mathbf{b}^{(n-1)}$$

e, applicando ripetutamente la (3.31) è possibile mettere in relazione la matrice triangolare $A^{(n)}$ con la matrice dei coefficienti del sistema iniziale:

$$A^{(n)} = L^{(n-1)}L^{(n-2)} \dots L^{(2)}L^{(1)}A^{(1)} = L^{(n-1)}L^{(n-2)} \dots L^{(2)}L^{(1)}A. \quad (3.32)$$

A questo punto enunciamo, senza dimostrare, le seguenti proprietà:

- I proprietà: l'inversa di una matrice elementare di Gauss si ottiene cambiando il segno dei moltiplicatori:

$$(L^{(k)})^{-1} = \begin{bmatrix} 1 & & & & \\ & \ddots & & & \\ & & 1 & & \\ & & -l_{k+1,k} & 1 & \\ & & \vdots & \ddots & \\ & & -l_{n,k} & & 1 \end{bmatrix}.$$

- II proprietà: per ogni $k = 1, \dots, n - 1$ risulta

$$(L^{(1)})^{-1} \dots (L^{(k-1)})^{-1} = \begin{bmatrix} 1 & & & & & \\ -l_{21} & \ddots & & & & \\ -l_{31} & \ddots & 1 & & & \\ \vdots & & -l_{k+1,k} & 1 & & \\ \vdots & & \vdots & & \ddots & \\ -l_{n1} & \dots & -l_{n,k} & & & 1 \end{bmatrix}.$$

La relazione (3.32) può essere riscritta come

$$(L^{(n-1)} L^{(n-2)} \dots L^{(2)} L^{(1)})^{-1} A^{(n)} = A$$

da cui, sfruttando la proprietà della matrice inversa di un prodotto di matrici

$$(L^{(1)})^{-1} (L^{(2)})^{-1} \dots (L^{(n-1)})^{-1} A^{(n)} = A \quad (3.33)$$

Applicando la II proprietà si deduce che il prodotto delle inverse delle matrici elementari di Gauss è una matrice triangolare inferiore con elementi diagonalmente uguali a 1, pertanto ponendo

$$L = (L^{(1)})^{-1} (L^{(2)})^{-1} \dots (L^{(n-1)})^{-1},$$

e

$$U = A^{(n)}$$

da (3.33) segue

$$A = LU.$$

3.4 Condizionamento di sistemi lineari

Nel Capitolo 1 è stato introdotto il concetto di rappresentazione in base ed è stata motivata la sostanziale inaffidabilità dei risultati dovuti ad elaborazioni numeriche, a causa dell'aritmetica finita dell'elaboratore. Appare chiaro come la bassa precisione nel calcolo potrebbe fornire dei risultati numerici molto lontani da quelli reali. In alcuni casi tale proprietà è insita nel problema. Consideriamo il sistema lineare

$$\begin{aligned} x &+ y &= &2 \\ 1000x &+ 1001y &= &2001 \end{aligned} \quad (3.34)$$

la cui soluzione è $x = y = 1$. Perturbiamo ora dell'1% il coefficiente di x nella prima equazione e consideriamo pertanto il seguente sistema

$$\begin{aligned} (1 + 0.01)x + y &= 2 \\ 1000x + 1001y &= 2001. \end{aligned}$$

Sarebbe naturale attendersi che la soluzione del sistema non sia molto lontana da quella del sistema (3.34), invece la soluzione è $\tilde{x} = -1/9$ e $\tilde{y} = 1901/900$, il che porta ad una differenza pari a

$$\|\mathbf{x} - \tilde{\mathbf{x}}\| = 1.57.$$

Se consideriamo inoltre il sistema

$$A\mathbf{x} = \mathbf{b} \tag{3.35}$$

dove $A \in \mathbb{R}^{n \times n}$ è la cosiddetta **matrice di Hilbert**, i cui elementi sono

$$a_{ij} = \frac{1}{i + j - 1}, \quad i, j = 1, \dots, n$$

ovvero, se $n = 5$:

$$A = \begin{bmatrix} 1 & 1/2 & 1/3 & 1/4 & 1/5 \\ 1/2 & 1/3 & 1/4 & 1/5 & 1/6 \\ 1/3 & 1/4 & 1/5 & 1/6 & 1/7 \\ 1/4 & 1/5 & 1/6 & 1/7 & 1/8 \\ 1/5 & 1/6 & 1/7 & 1/8 & 1/9 \end{bmatrix}$$

mentre il vettore \mathbf{b} è scelto in modo tale che il vettore soluzione abbia tutte componenti uguali a 1, cosicchè si possa conoscere con esattezza l'errore commesso nel suo calcolo. Risolvendo il sistema di ordine 20 con il metodo di Gauss senza pivoting si osserva che la soluzione è, in realtà, molto lontana da quella teorica (l'errore relativo è pari circa a 23.5). Questa situazione peggiora prendendo matrici di dimensioni crescenti.

Definizione 3.4.1 *Un sistema lineare per cui a piccoli errori dei dati corrispondono grandi errori nella soluzione si definisce **mal condizionato** o **mal posto**.*

L'importanza dello studio del condizionamento dei problemi dipende dal fatto che bisogna ricordare che, a causa degli errori legati alla rappresentazione dei numeri reali, il sistema che l'elaboratore risolve non coincide con quello teorico, poichè alla matrice A ed al vettore \mathbf{b} è necessario aggiungere la matrice δA ed il vettore $\delta \mathbf{b}$ (che contengono le perturbazioni legate a tali errori), e che la soluzione ovviamente non è la stessa, pertanto la indichiamo con $\mathbf{x} + \delta \mathbf{x}$:

$$(A + \delta A)(\mathbf{x} + \delta \mathbf{x}) = \mathbf{b} + \delta \mathbf{b}. \quad (3.36)$$

Si può dimostrare che l'ordine di grandezza della perturbazione sulla soluzione è

$$\frac{\|\delta \mathbf{x}\|}{\|\mathbf{x}\|} \leq \|A\| \|A^{-1}\| \left(\frac{\|\delta A\|}{\|A\|} + \frac{\|\delta \mathbf{b}\|}{\|\mathbf{b}\|} \right).$$

Il numero $K(A) = \|A\| \|A^{-1}\|$, detto **indice di condizionamento del sistema**, misura le amplificazioni degli errori sui dati del problema (ovvero la misura di quanto aumentano gli errori sulla soluzione). Il caso della matrice di Hilbert è appunto uno di quelli per cui l'indice di condizionamento assume valori molto grandi (di ordine esponenziale) all'aumentare della dimensione, si parla infatti di **matrici malcondizionate**. Quando ciò non accade si parla invece di **matrici bencondizionate**. Tra i metodi numerici che si possono applicare per la risoluzione di un problema un metodo risulta **più stabile** di un altro se è meno sensibile agli errori indotti dai calcoli. Lo studio della stabilità di un metodo numerico può perdere di significato quando il problema è fortemente mal condizionato, poichè in questo caso l'errore inerente (legato alla rappresentazione dei dati) prevale sull'errore algoritmico (introdotto nelle operazioni macchina).

Capitolo 4

Interpolazione di dati e Funzioni

4.1 Introduzione

Nel campo del Calcolo Numerico si possono incontrare diversi casi nei quali è richiesta l'approssimazione di una funzione (o di una grandezza incognita): 1) non è nota l'espressione analitica della funzione $f(x)$ ma si conosce il valore che assume in un insieme finito di punti x_1, x_2, \dots, x_n . Si potrebbe pensare anche che tali valori siano delle misure di una grandezza fisica incognita valutate in differenti istanti di tempo.

2) Si conosce l'espressione analitica della funzione $f(x)$ ma è così complicata dal punto di vista computazionale che è più conveniente cercare un'espressione semplice partendo dal valore che essa assume in un insieme finito di punti. In questo capitolo analizzeremo un particolare tipo di approssimazione di funzioni cioè la cosiddetta interpolazione che richiede che la funzione approssimante assume in determinate ascisse esattamente lo stesso valore di $f(x)$. In entrambi i casi appena citati è noto, date certe informazioni supplementari, che la funzione approssimante va ricercata della forma:

$$f(x) \simeq g(x; a_0, a_1, \dots, a_n). \quad (4.1)$$

Se i parametri a_0, a_1, \dots, a_n sono definiti dalla condizione di coincidenza di f e g nei punti x_0, x_1, \dots, x_n , allora tale procedimento di approssimazione si chiama appunto **Interpolazione**. Invece se $x \notin [\min_i x_i, \max_i x_i]$ allora si parla di **Estrapolazione**. Un problema simile è invece quello in cui i valori

della funzione f che sono noti sono affetti da errore e quindi si cerca una funzione approssimante che passi vicino ai valori assegnati ma che non sia perfettamente coincidente con essi. Il problema in questo caso prende il nome di **Approssimazione**. Tra i procedimenti di interpolazione il più usato è quello in cui si cerca la funzione g in (4.1) nella forma

$$g(x; a_0, a_1, \dots, a_n) = \sum_{i=0}^n a_i \Phi_i(x)$$

dove $\Phi_i(x)$, per $i = 0, \dots, n$, sono funzioni fissate e i valori di a_i , $i = 0, \dots, n$, sono determinati in base alle condizioni di coincidenza di f con la funzione approssimante nei punti di interpolazione (detti anche **nod**i), x_j , cioè si pone

$$f(x_j) = \sum_{i=0}^n a_i \Phi_i(x_j) \quad j = 0, \dots, n. \quad (4.2)$$

Il processo di determinazione degli a_i attraverso la risoluzione del sistema (4.2) si chiama **metodo dei coefficienti indeterminati**. Il caso più studiato è quello dell'interpolazione polinomiale, in cui si pone:

$$\Phi_i(x) = x^i \quad i = 0, \dots, n$$

e perciò la funzione approssimante g assume la forma

$$\sum_{i=0}^n a_i x^i,$$

mentre le condizioni di coincidenza diventano

$$\begin{array}{cccccc} a_0 & +a_1x_0 & +a_2x_0^2 & +\dots & +a_{n-1}x_0^{n-1} & +a_nx_0^n & = & f(x_0) \\ a_0 & +a_1x_1 & +a_2x_1^2 & +\dots & +a_{n-1}x_1^{n-1} & +a_nx_1^n & = & f(x_1) \\ \vdots & \vdots & \vdots & & & & & \vdots \\ a_0 & +a_1x_n & +a_2x_n^2 & +\dots & +a_{n-1}x_n^{n-1} & +a_nx_n^n & = & f(x_n) \end{array} \quad (4.3)$$

Le equazioni (4.3) costituiscono un sistema di $n + 1$ equazioni nelle $n + 1$ incognite a_i , $i = 0, \dots, n$:

$$V\mathbf{a} = \mathbf{y}$$

dove la matrice dei coefficienti è

$$V = \begin{bmatrix} 1 & x_0 & x_0^2 & \dots & x_0^{n-1} & x_0^n \\ 1 & x_1 & x_1^2 & \dots & x_1^{n-1} & x_1^n \\ \vdots & \vdots & \vdots & & \vdots & \vdots \\ 1 & x_n & x_n^2 & \dots & x_n^{n-1} & x_n^n \end{bmatrix},$$

i vettori dei termini noti e delle incognite sono, rispettivamente,

$$\mathbf{y} = [f(x_0), f(x_1), \dots, f(x_n)]^T$$

e $\mathbf{a} = [a_0, a_1, \dots, a_n]^T$.

Se i nodi x_j sono a due a due distinti allora la matrice dei coefficienti del sistema (4.3), detta **matrice di Vandermonde**, è non singolare e pertanto il problema dell'interpolazione ammette sempre un'unica soluzione. Il metodo dei coefficienti indeterminati consente di trovare la soluzione del problema solo risolvendo un sistema lineare che potrebbe avere grandi dimensioni, essere malcondizionato (soprattutto se due nodi sono molto vicini) e comunque non in grado di fornire un'espressione in forma chiusa del polinomio. Per questi motivi descriviamo un modo alternativo per risolvere il problema di interpolazione in grado di fornire l'espressione esplicita del polinomio cercato.

4.2 Il Polinomio Interpolante di Lagrange

Al fine di dare una forma esplicita al polinomio interpolante, scriviamo il candidato polinomio nella seguente forma:

$$L_n(x) = \sum_{k=0}^n l_{nk}(x) f(x_k) \quad (4.4)$$

dove gli $l_{nk}(x)$ sono per il momento generici polinomi di grado n . Imponendo le condizioni di interpolazione

$$L_n(x_i) = f(x_i) \quad i = 0, \dots, n$$

deve essere, per ogni i :

$$L_n(x_i) = \sum_{k=0}^n l_{nk}(x_i) f(x_k) = f(x_i)$$

ed è evidente che se

$$l_{nk}(x_i) = \begin{cases} 0 & \text{se } k \neq i \\ 1 & \text{se } k = i \end{cases} \quad (4.5)$$

allora esse sono soddisfatte. Infatti calcolando il polinomio (4.4) in un generico nodo x_i risulta

$$\begin{aligned} L_n(x_i) &= \sum_{k=0}^n l_{nk}(x_i) f(x_k) \\ &= \underbrace{\sum_{k=0}^{i-1} l_{nk}(x_i) f(x_k)}_{=0} + \underbrace{l_{ni}(x_i) f(x_i)}_{=1} + \underbrace{\sum_{k=i+1}^n l_{nk}(x_i) f(x_k)}_{=0} = f(x_i). \end{aligned}$$

Per determinare l'espressione del generico polinomio $l_{nk}(x)$ osserviamo che la prima condizione di (4.5) indica che esso si annulla negli n nodi

$$x_0, x_1, \dots, x_{k-1}, x_{k+1}, \dots, x_n$$

pertanto deve essere

$$l_{nk}(x) = c_k \prod_{i=0, i \neq k}^n (x - x_i)$$

mentre imponendo la seconda condizione di (4.5)

$$l_{nk}(x_k) = c_k \prod_{i=0, i \neq k}^n (x_k - x_i) = 1$$

si trova immediatamente:

$$c_k = \frac{1}{\prod_{i=0, i \neq k}^n (x_k - x_i)}.$$

In definitiva il polinomio interpolante ha la seguente forma:

$$L_n(x) = \sum_{k=0}^n \left(\prod_{i=0, i \neq k}^n \frac{x - x_i}{x_k - x_i} \right) f(x_k). \quad (4.6)$$

Il polinomio (4.6) prende il nome di **Polinomio di Lagrange** mentre i polinomi:

$$l_{nk}(x) = \prod_{i=0, i \neq k}^n \frac{x - x_i}{x_k - x_i}; \quad k = 0, 1, \dots, n$$

si chiamano **Polinomi Fondamentali di Lagrange**.

4.2.1 Il Resto del Polinomio di Lagrange

Assumiamo che la funzione interpolata $f(x)$ sia di classe $\mathcal{C}^{n+1}([a, b])$ e valutiamo l'errore che si commette nel sostituire $f(x)$ con $L_n(x)$ in un punto $x \neq x_i$. Supponiamo che l'intervallo $[a, b]$ sia tale da contenere sia i nodi x_i che l'ulteriore punto x . Sia dunque

$$e(x) = f(x) - L_n(x)$$

l'errore (o resto) commesso nell'interpolazione della funzione $f(x)$. Poichè

$$e(x_i) = f(x_i) - L_n(x_i) = 0 \quad i = 0, \dots, n$$

è facile congetturare per $e(x)$ la seguente espressione:

$$e(x) = c(x)\omega_{n+1}(x)$$

dove

$$\omega_{n+1}(x) = \prod_{i=0}^n (x - x_i)$$

è il cosiddetto **polinomio nodale** mentre $c(x)$ è una funzione da determinare. Definiamo ora la funzione

$$\Phi(t; x) = f(t) - L_n(t) - c(x)\omega_{n+1}(t)$$

dove t è una variabile ed x è un valore fissato. Calcoliamo la funzione $\Phi(t; x)$ nei nodi x_i :

$$\Phi(x_i; x) = f(x_i) - L_n(x_i) - c(x)\omega_{n+1}(x_i) = 0$$

e anche nel punto x :

$$\Phi(x; x) = f(x) - L_n(x) - c(x)\omega_{n+1}(x) = e(x) - c(x)\omega_{n+1}(x) = 0$$

pertanto la funzione $\Phi(t; x)$ ammette almeno $n + 2$ zeri distinti. Osserviamo inoltre che $\Phi(t; x)$ è derivabile con continuità $n + 1$ volte poichè, per ipotesi, $f(x)$ è di classe \mathcal{C}^{n+1} . Applicando il teorema di Rolle segue che $\Phi'(t; x)$ ammette almeno $n + 1$ zeri distinti. Riapplicando lo stesso teorema segue che $\Phi''(t; x)$ ammette almeno n zeri distinti. Così proseguendo segue che

$$\exists \xi_x \in [a, b] \ni \Phi^{(n+1)}(\xi_x; x) = 0.$$

Calcoliamo ora la derivata di ordine $n+1$ della funzione $\Phi(t; x)$, osservando innanzitutto che la derivata di tale ordine del polinomio $L_n(x)$ è identicamente nulla. Pertanto

$$\Phi^{(n+1)}(t; x) = f^{(n+1)}(t) - c(x) \frac{d^{n+1}}{dt^{n+1}} \omega_{n+1}(t).$$

Calcoliamo la derivata di ordine $n + 1$ del polinomio nodale. Osserviamo innanzitutto che

$$\omega_{n+1}(t) = \prod_{i=0}^n (t - x_i) = t^{n+1} + p_n(t)$$

dove $p_n(t)$ è un polinomio di grado al più n . Quindi

$$\frac{d^{n+1}}{dt^{n+1}} \omega_{n+1}(t) = \frac{d^{n+1}}{dt^{n+1}} t^{n+1}.$$

Poichè

$$\frac{d}{dt} t^{n+1} = (n+1)t^n$$

e

$$\frac{d^2}{dt^2} t^{n+1} = (n+1)nt^{n-1}$$

è facile dedurre che

$$\frac{d^{n+1}}{dt^{n+1}} t^{n+1} = \frac{d^{n+1}}{dt^{n+1}} \omega_{n+1}(t) = (n+1)!.$$

Pertanto

$$\Phi^{(n+1)}(t; x) = f^{(n+1)}(t) - c(x)(n+1)!$$

e

$$\Phi^{(n+1)}(\xi_x; x) = f^{(n+1)}(\xi_x) - c(x)(n+1)! = 0$$

cioè

$$c(x) = \frac{f^{(n+1)}(\xi_x)}{(n+1)!}$$

e in definitiva

$$e(x) = \frac{f^{(n+1)}(\xi_x)}{(n+1)!} \omega_{n+1}(x). \quad (4.7)$$

Esempio 4.2.1 Supponiamo di voler calcolare il polinomio interpolante di Lagrange passante per i punti $(-1, -1)$, $(0, 1)$, $(1, -1)$, $(3, 2)$ e $(5, 6)$. Il grado di tale polinomio è 4, quindi definiamo i nodi

$$x_0 = -1, \quad x_1 = 0, \quad x_2 = 1, \quad x_3 = 3, \quad x_4 = 5,$$

cui corrispondono le ordinate che indichiamo con y_i , $i = 0, \dots, 4$:

$$y_0 = -1, \quad y_1 = 1, \quad y_2 = -1, \quad y_3 = 2, \quad y_4 = 6.$$

Scriviamo ora l'espressione del polinomio $L_4(x)$:

$$L_4(x) = l_{4,0}(x)y_0 + l_{4,1}(x)y_1 + l_{4,2}(x)y_2 + l_{4,3}(x)y_3 + l_{4,4}(x)y_4 \quad (4.8)$$

e calcoliamo i 5 polinomi fondamentali di Lagrange:

$$l_{4,0}(x) = \frac{(x-0)(x-1)(x-3)(x-5)}{(-1-0)(-1-1)(-1-3)(-1-5)}$$

$$= \frac{1}{48} x(x-1)(x-3)(x-5)$$

$$l_{4,1}(x) = \frac{(x+1)(x-1)(x-3)(x-5)}{(0+1)(0-1)(0-3)(0-5)}$$

$$= -\frac{1}{15} (x+1)(x-1)(x-3)(x-5)$$

$$l_{4,2}(x) = \frac{(x+1)(x-0)(x-3)(x-5)}{(1+1)(1-0)(1-3)(1-5)}$$

$$= \frac{1}{16} x(x+1)(x-3)(x-5)$$

$$\begin{aligned}
 l_{4,3}(x) &= \frac{(x+1)(x-0)(x-1)(x-5)}{(3+1)(3-0)(3-1)(3-5)} \\
 &= -\frac{1}{48}x(x+1)(x-1)(x-5) \\
 l_{4,4}(x) &= \frac{(x+1)(x-0)(x-1)(x-3)}{(5+1)(5-0)(5-1)(5-3)} \\
 &= \frac{1}{240}x(x+1)(x-1)(x-3)
 \end{aligned}$$

Sostituendo in (4.8) il valore della funzione nei nodi si ottiene l'espressione finale del polinomio interpolante:

$$L_4(x) = -l_{4,0}(x) + l_{4,1}(x) - l_{4,2}(x) + 2l_{4,3}(x) + 6l_{4,4}(x).$$

Se vogliamo calcolare il valore approssimato della funzione $f(x)$ in un'ascissa diversa dai nodi, per esempio $x = 2$ allora dobbiamo calcolare il valore del polinomio interpolante $L_4(2)$.

Nelle figure 4.1-4.5 sono riportati i grafici dei cinque polinomi fondamentali di Lagrange: gli asterischi evidenziano il valore assunto da tali polinomi nei nodi di interpolazione. Nella figura 4.6 è tracciato il grafico del polinomio interpolante di Lagrange, i cerchi evidenziano ancora una volta i punti di interpolazione.

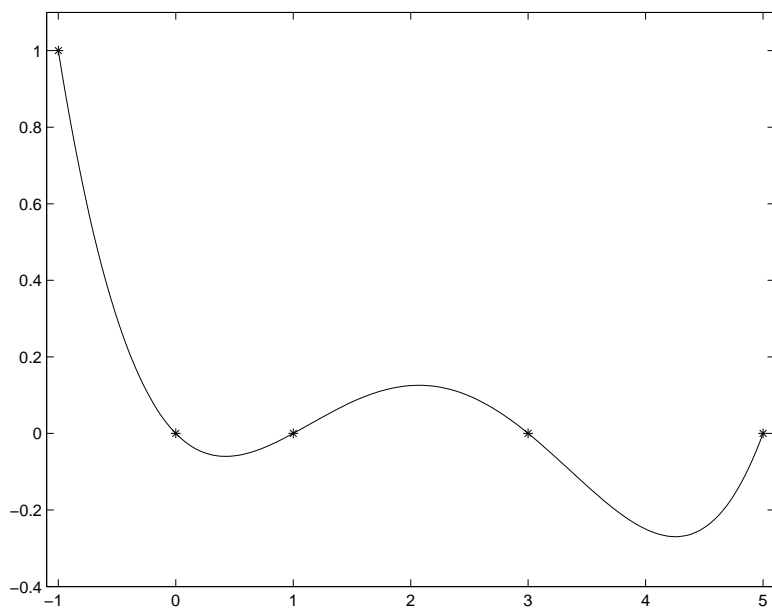
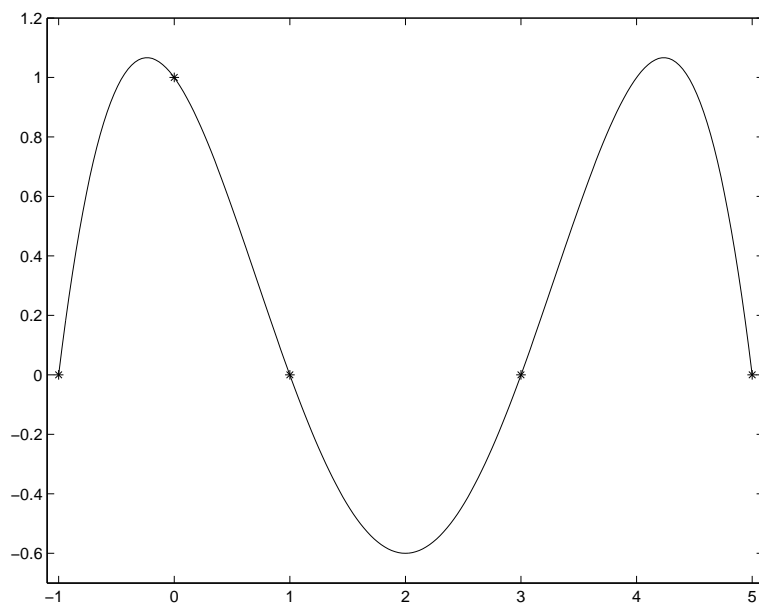
4.2.2 Il fenomeno di Runge

Nell'espressione dell'errore è presente, al denominatore, il fattore $(n+1)!$, che potrebbe indurre a ritenere che, utilizzando un elevato numero di nodi, l'errore tenda a zero ed il polinomio interpolante converga alla funzione $f(x)$. Questa ipotesi è confutata se si costruisce il polinomio che interpola la funzione

$$f(x) = \frac{1}{1+x^2}$$

nell'intervallo $[-5, 5]$ e prendendo 11 nodi equidistanti $-5, -4, -3, \dots, 3, 4, 5$. Nella successiva figura viene appunto visualizzata la funzione (in blu) ed il relativo polinomio interpolante (in rosso).

Il polinomio interpolante presenta infatti notevoli oscillazioni, soprattutto verso gli estremi dell'intervallo di interpolazione, che diventano ancora più

Figura 4.1: Grafico del polinomio $l_{40}(x)$.Figura 4.2: Grafico del polinomio $l_{41}(x)$.

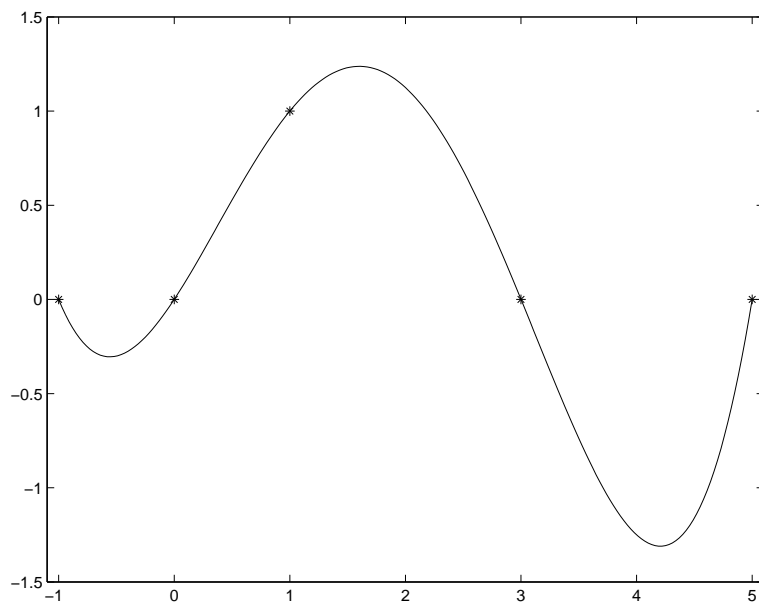


Figura 4.3: Grafico del polinomio $l_{42}(x)$.

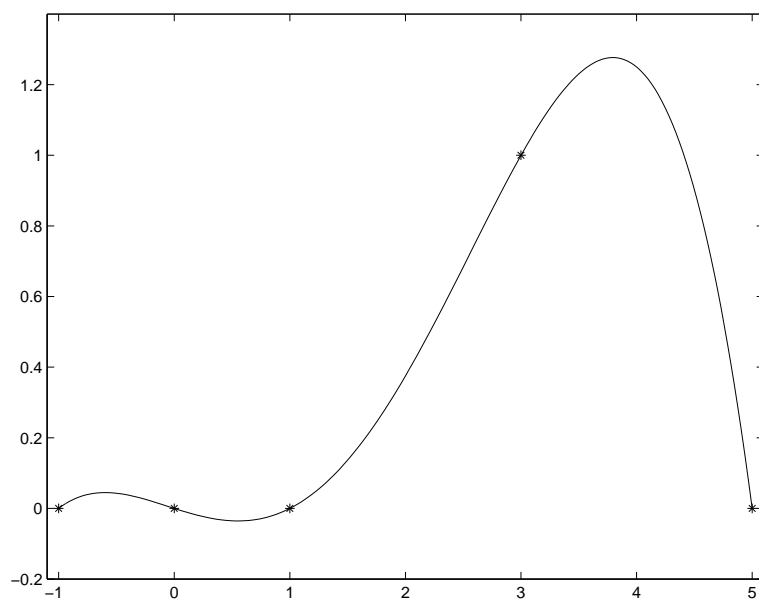
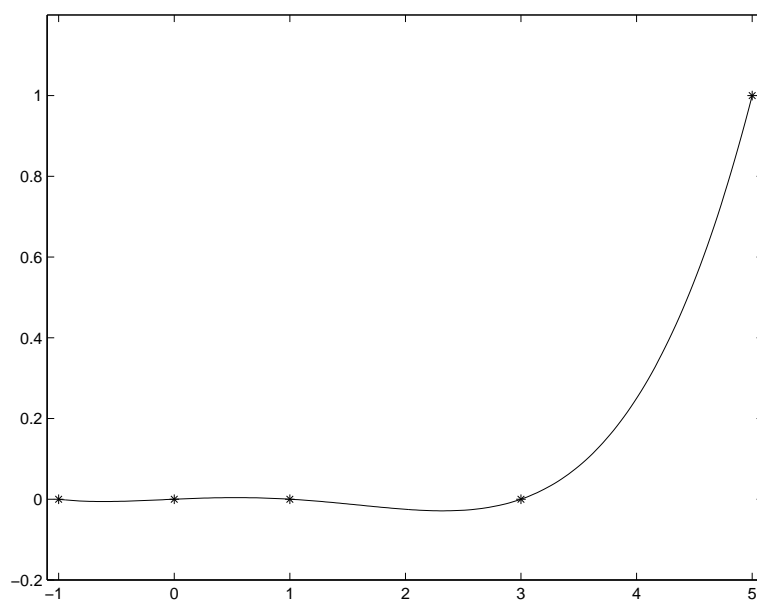
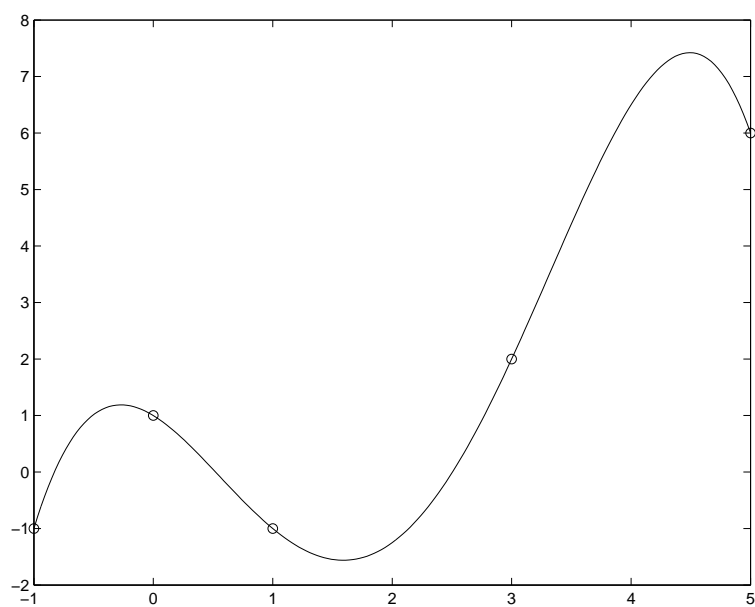


Figura 4.4: Grafico del polinomio $l_{43}(x)$.

Figura 4.5: Grafico del polinomio $l_{44}(x)$.Figura 4.6: Grafico del polinomio interpolante di Lagrange $L_4(x)$.

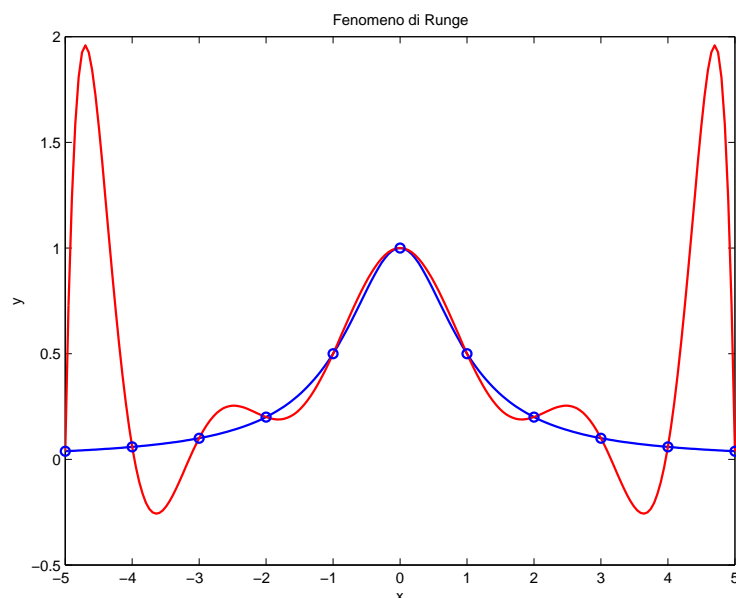


Figura 4.7: Il fenomeno di Runge.

evidenti all'aumentare di n . Tale fenomeno, detto appunto **fenomeno di Runge**, è dovuto ad una serie di situazioni concomitanti:

1. il polinomio nodale, al crescere di n , assume un andamento fortemente oscillante, soprattutto quando i nodi sono equidistanti;
2. alcune funzioni hanno le derivate il cui valore tende a crescere con un ordine di grandezza talmente elevato da neutralizzare di fatto la presenza del fattoriale al denominatore dell'espressione dell'errore.

Per ovviare al fenomeno di Runge si possono utilizzare insiemi di nodi non equidistanti oppure utilizzare funzioni interpolanti polinomiali a tratti (interpolando di fatto su intervalli più piccoli e imponendo le condizioni di continuità fino ad un ordine opportuno).

```
function yy=lagrange(x,y,xx);
%
% La funzione calcola il polinomio interpolante di Lagrange
% in un vettore assegnato di ascisse
%
```

```

% Parametri di input
% x = vettore dei nodi
% y = vettore delle ordinate nei nodi
% xx = vettore delle ascisse in cui calcolare il polinomio
% Parametri di output
% yy = vettore delle ordinate del polinomio
%
n = length(x);
m = length(xx);
yy = zeros(size(xx));
for i=1:m
    yy(i)=0;
    for k=1:n
        yy(i)=yy(i)+prod((xx(i)-x([1:k-1,k+1:n])) ./ ...
            (x(k)-x([1:k-1,k+1:n]))) * y(k);
    end
end
return

```

4.3 Minimizzazione del Resto nel Problema di Interpolazione

Supponiamo che la funzione $f(x)$ sia approssimata su $[a, b]$ dal polinomio interpolante $L_n(x)$ e siano x_0, x_1, \dots, x_n i nodi di interpolazione. Come già sappiamo se $x \in [a, b]$ risulta

$$e(x) = f(x) - L_n(x) = \frac{f^{(n+1)}(\xi_x)}{(n+1)!} \omega_{n+1}(x) \quad \xi_x \in [a, b]$$

e dove

$$\omega_{n+1}(x) = \prod_{i=0}^n (x - x_i).$$

Si noti che variando i nodi x_i , $i = 0, \dots, n$, cambia il polinomio $\omega_{n+1}(x)$ e di conseguenza cambia l'errore. Ha senso allora porsi il seguente problema: indicato con \mathcal{P}_{n+1} l'insieme di tutti i polinomi di grado al più $n+1$ cerchiamo il polinomio $\tilde{p} \in \mathcal{P}_{n+1}$ tale che:

$$\max_{x \in [a, b]} |\tilde{p}(x)| = \min_{p \in \mathcal{P}_{n+1}} \max_{x \in [a, b]} |p(x)|. \quad (4.9)$$

Per dare una risposta a questo problema è essenziale introdurre i **Polinomi di Chebyshev di 1^a Specie**.

4.3.1 Polinomi di Chebyshev

I polinomi di Chebyshev $T_n(x)$, $n \geq 0$, sono così definiti:

$$T_n(x) = \cos(n \arccos x) \quad (4.10)$$

per $x \in [-1, 1]$. Per esempio:

$$\begin{aligned} T_0(x) &= \cos(0 \arccos x) = \cos 0 = 1 \\ T_1(x) &= \cos(1 \arccos x) = x \end{aligned}$$

e così via. È possibile ricavare una relazione di ricorrenza sui polinomi di Chebyshev che permette un più agevole calcolo. Infatti, posto

$$\arccos x = \theta \quad (\text{ovvero } x = \cos \theta)$$

risulta

$$T_n(x) = \cos n\theta(x).$$

Considerando le relazioni

$$\begin{aligned} T_{n+1}(x) &= \cos(n+1)\theta = \cos n\theta \cos \theta - \sin n\theta \sin \theta \\ T_{n-1}(x) &= \cos(n-1)\theta = \cos n\theta \cos \theta + \sin n\theta \sin \theta \end{aligned}$$

e sommandole membro a membro,

$$T_{n+1}(x) + T_{n-1}(x) = 2 \cos \theta \cos n\theta = 2xT_n(x)$$

si ricava la seguente relazione di ricorrenza

$$T_{n+1}(x) = 2x T_n(x) - T_{n-1}(x), \quad n \geq 1 \quad (4.11)$$

che, insieme all'espressione dei primi due polinomi,

$$T_0(x) = 1, \quad T_1(x) = x$$

consente di calcolare tutti i polinomi di Chebyshev.
L'espressione dei primi polinomi è la seguente

$$T_2(x) = 2xT_1(x) - T_0(x) = 2x^2 - 1$$

$$T_3(x) = 2xT_2(x) - T_1(x) = 4x^3 - 3x$$

$$T_4(x) = 2xT_3(x) - T_2(x) = 8x^4 - 8x^2 + 1$$

$$T_5(x) = 2xT_4(x) - T_3(x) = 16x^5 - 20x^3 + 5x$$

Le seguenti proprietà dei polinomi di Chebyshev sono di facile dimostrazione:

1. $\max_{x \in [-1, 1]} |T_n(x)| = 1$
2. $T_{2k}(-x) = T_{2k}(x)$ ovvero i polinomi di grado pari sono funzioni pari, quindi tutti i coefficienti delle potenze dispari di x sono nulli;
3. $T_{2k+1}(-x) = -T_{2k+1}(x)$ ovvero i polinomi di grado dispari sono funzioni dispari, quindi tutti i coefficienti delle potenze pari di x sono nulli;
4. $T_n(x) = 2^{n-1}x^n + \dots$
5. $T_n(x)$ assume complessivamente $n + 1$ volte il valore $+1$ e -1 nei punti:

$$x_k = \cos \frac{k\pi}{n} \quad k = 0, \dots, n;$$

$$T_n(x_k) = (-1)^k \quad k = 0, \dots, n;$$

6. $T_n(x)$ ha n zeri distinti nell'intervallo $] -1, 1[$ dati da

$$x_k = \cos \frac{(2k+1)\pi}{2n} \quad k = 0, \dots, n-1.$$

Infatti è sufficiente porre

$$\cos n\theta = 0$$

da cui risulta

$$n\theta = \frac{\pi}{2} + k\pi = \frac{(2k+1)\pi}{2}, \quad k = 0, \dots, n-1.$$

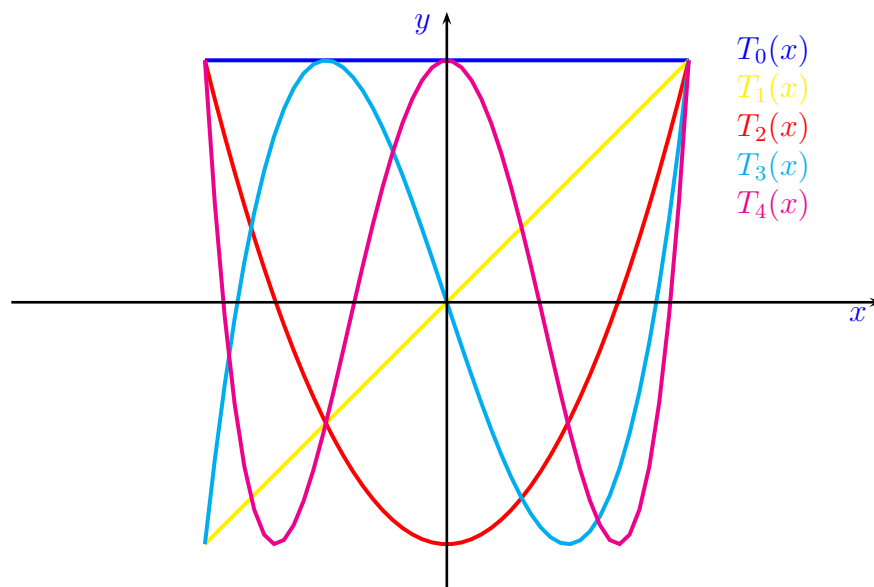


Figura 4.8: Grafico dei primi cinque polinomi di Chebyshev

Nella Figura 4.8 sono tracciati i grafici dei primi cinque polinomi di Chebyshev nell'intervallo $[-1, 1]$. Ovviamente per calcolare il valore del polinomio $T_n(x)$ in un punto x fissato si usa la formula di ricorrenza (4.11), in quanto tale espressione è valida per ogni $x \in \mathbb{R}$.

Sia

$$\tilde{T}_n(x) = \frac{1}{2^{n-1}} T_n(x)$$

il polinomio di Chebyshev normalizzato in modo da risultare monico (ricordiamo che un polinomio di grado n è monico se il coefficiente del termine di grado massimo è 1). Vale allora la seguente **proprietà di minimax**.

Teorema 4.3.1 (*Proprietà di minimax*) *Se $p_n(x)$ è un qualunque polinomio monico di grado n si ha:*

$$\frac{1}{2^{n-1}} = \max_{x \in [-1, 1]} |\tilde{T}_n(x)| \leq \max_{x \in [-1, 1]} |p_n(x)|.$$

Dimostrazione. Assumiamo per assurdo che sia

$$\max_{x \in [-1, 1]} |p_n(x)| < \frac{1}{2^{n-1}}$$

e consideriamo il polinomio $d(x) = \tilde{T}_n(x) - p_n(x)$. Osserviamo subito che essendo sia $\tilde{T}_n(x)$ che $p_n(x)$ monici, $d(x)$ è un polinomio di grado al più $n - 1$. Siano t_0, t_1, \dots, t_n i punti in cui T_n assume valore -1 e $+1$. Allora:

$$\text{segn}(d(t_k)) = \text{segn}(\tilde{T}_n(t_k) - p_n(t_k)) = \text{segn}(\tilde{T}_n(t_k)).$$

Poichè $\tilde{T}_n(x)$ cambia segno n volte anche $d(x)$ cambia segno n volte e pertanto ammetterà n zeri, in contraddizione con il fatto che $d(x)$ è un polinomio di grado al più $n - 1$. \square

Osservazione. In verità vale un'affermazione più forte di quella del teorema, cioè se $p(x)$ è un polinomio monico di grado n diverso da $\tilde{T}_n(x)$ allora:

$$\max_{x \in [-1, 1]} |p(x)| > \frac{1}{2^{n-1}}.$$

Il teorema di minimax stabilisce che, tra tutti i polinomi di grado n definiti nell'intervallo $[-1, 1]$, il polinomio di Chebyshev monico è quello che ha il massimo più piccolo. Supponendo che l'intervallo di interpolazione della funzione $f(x)$ sia appunto $[-1, 1]$ e scegliendo come nodi gli zeri del polinomio di Chebyshev risulta

$$\omega_{n+1}(x) = \tilde{T}_{n+1}(x)$$

pertanto

$$e(x) = \frac{f^{(n+1)}(\xi_x)}{(n+1)!} \tilde{T}_{n+1}(x)$$

e, massimizzando tale errore, risulta

$$\begin{aligned} \max_{x \in [-1, 1]} |e(x)| &\leq \max_{x \in [-1, 1]} \left| \frac{f^{(n+1)}(\xi_x)}{(n+1)!} \right| \max_{x \in [-1, 1]} |\omega_{n+1}(x)| \\ &= \frac{1}{2^n (n+1)!} \max_{x \in [-1, 1]} |f^{(n+1)}(x)|. \end{aligned}$$

La crescita dell'errore può dipendere solo dalla derivata di ordine $n + 1$ della funzione $f(x)$.

Se l'intervallo di interpolazione è $[a, b] \neq [-1, 1]$ allora il discorso può essere ripetuto egualmente effettuando una trasformazione lineare tra i due intervalli, nel modo riportato in Figura 4.9. Calcolando la retta nel piano (x, t)

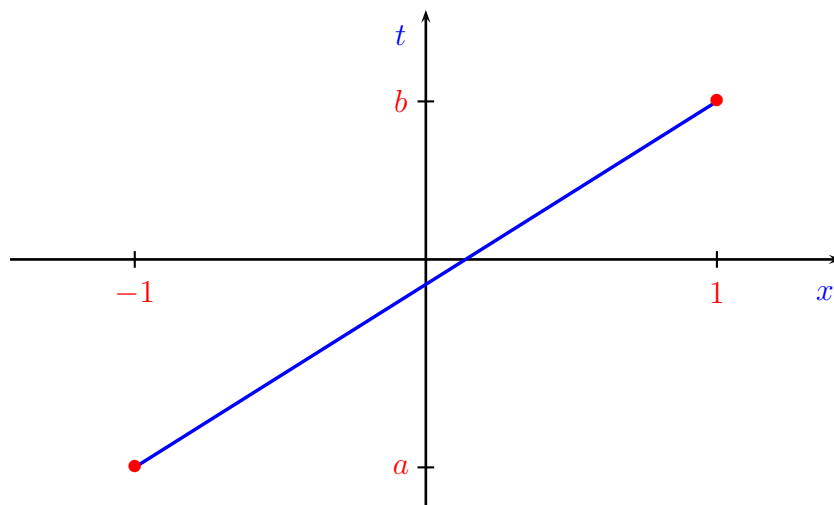


Figura 4.9: Trasformazione lineare tra gli intervalli $[-1, 1]$ e $[a, b]$.

passante per i punti $(-1, a)$ e $(1, b)$:

$$t = \frac{b-a}{2}x + \frac{a+b}{2} \quad (4.12)$$

detti x_k gli zeri del polinomio di Chebyshev $T_{n+1}(x)$ allora si possono usare come nodi i valori

$$\tau_k = \frac{b-a}{2}x_k + \frac{a+b}{2}, \quad k = 0, 1, \dots, n,$$

ovvero

$$\tau_k = \frac{b-a}{2} \cos \frac{(2k+1)\pi}{2(n+1)} + \frac{a+b}{2} \quad k = 0, 1, \dots, n. \quad (4.13)$$

Nella Figura 4.10 sono raffigurati la funzione di Runge ed il polinomio interpolante di Lagrange di grado 10 calcolato prendendo come nodi gli zeri del polinomio di Chebyshev di grado 11. Si può osservare la differenza con la Figura 4.7. Di seguito viene riportato il codice per tracciare il grafico del polinomio interpolante la funzione di Runge nei nodi di Chebyshev in un intervallo scelto dall'utente.

```
clear
format long e
```

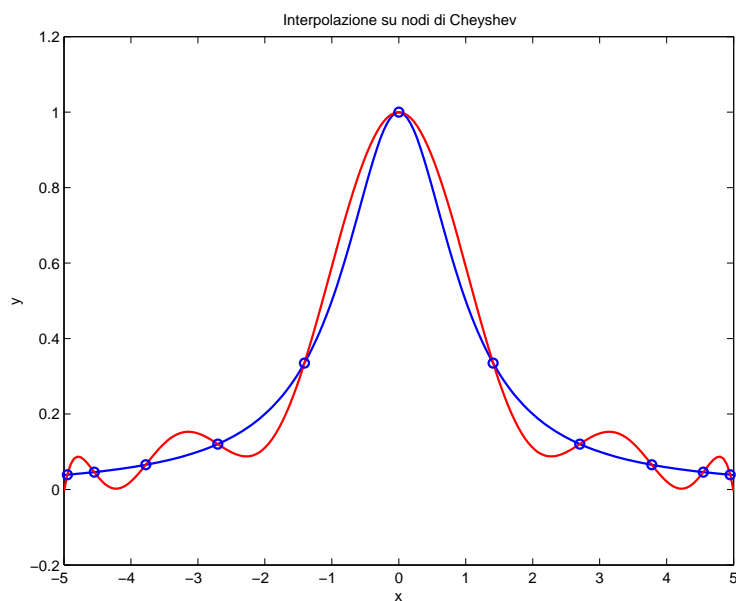


Figura 4.10: Interpolazione su nodi di Cheyshev.

```

a = input('Inserire estremo sinistro ');
b = input('Inserire estremo destro ');
n = input('Inserire il numero di nodi ');
%
% Calcolo del vettore dei nodi di Cheyshev
%
x = (a+b)/2+(b-a)/2*cos((2*[0:n-1]+1)*pi./(2*n));
xx = linspace(a,b,200);
y = 1./(x.^2+1);
yy = 1./(xx.^2+1);
%
% Calcolo del polinomio interpolante
%
zz = lagrange(x,y,xx);
figure(1)
plot(xx,yy)
hold on
pause
plot(x,y,'ok')

```

```

pause
plot(xx,zz,'r')
title('Grafico della funzione e del polinomio interpolante ')
hold off
figure(2)
plot(xx,abs(yy-zz))
title('Grafico dell'errore nell''interpolazione')

```

4.4 Interpolazione con Funzioni Polinomiali a Tratti

L'interpolazione polinomiale con un numero di nodi sufficientemente alto può dar luogo a polinomi interpolanti che mostrano un comportamento fortemente oscillatorio che può essere inaccettabile. In questo caso si preferisce usare una diversa strategia consistente nell'approssimare la funzione con polinomi di basso grado su sottointervalli dell'intervallo di definizione. Per esempio, supposto che l'intero n sia un multiplo di 3, denotiamo con $P_{3,j}(x)$ il polinomio di interpolazione di terzo grado associato ai nodi $x_{3j-3}, x_{3j-2}, x_{3j-1}, x_{3j}$, $j = 1, 2, \dots, n/3$. Come funzione interpolante prendiamo poi la funzione:

$$I_n(x) = P_{3,j}(x) \quad \text{in } [x_{3j-3}, x_{3j}]$$

che prende il nome di **Funzione di tipo polinomiale a tratti**. La tecnica esposta non è l'unica, anzi la più popolare è forse quella basata sull'uso delle cosiddette **Funzioni Spline**.

4.4.1 Interpolazione con Funzioni Spline

Con il termine **spline** si indica in lingua inglese un sottile righello usato nella progettazione degli scafi dagli ingegneri navali, per raccordare su un piano un insieme di punti (x_i, y_i) , $i = 0, \dots, n + 1$.

Imponendo mediante opportune guide che il righello passi per i punti assegnati, si ottiene una curva che li interpola. Detta $y = f(x)$ l'equazione della curva definita dalla spline, sotto opportune condizioni $f(x)$ può essere approssimativamente descritta da pezzi di polinomi di terzo grado in modo che la funzione e le sue prime due derivate risultino continue nell'intervallo di interesse. La derivata terza può presentare discontinuità nei punti x_i . La

spline può essere concettualmente rappresentata e generalizzata nel seguente modo.

Sia

$$\Delta =: a \equiv x_0 < x_1 < x_2 < \cdots < x_n < x_{n+1} \equiv b$$

una decomposizione dell'intervallo $[a, b]$.

Definizione 4.4.1 *Si dice funzione Spline di grado $m \geq 1$ relativa alla decomposizione Δ una funzione $s(x)$ soddisfacente le seguenti proprietà:*

1. $s(x)$ ristretta a ciascun intervallo $[x_i, x_{i+1}]$, $i = 0, \dots, n$, è un polinomio di grado al più m ;
2. la derivata $s^{(k)}(x)$ è una funzione continua su $[a, b]$ per $k = 0, 1, \dots, m-1$.

Si verifica facilmente che l'insieme delle spline di grado assegnato è uno spazio vettoriale. In generale le spline vengono utilizzate in tutte quelle situazioni dove l'approssimazione polinomiale sull'intero intervallo non è soddisfacente. Per $m = 1$ si hanno le cosiddette **spline lineari**, mentre per $m = 3$ si hanno le **spline cubiche**.

4.5 Approssimazione ai minimi quadrati

Come si è già accennato nell'introduzione di questo Capitolo quando i dati (x_i, y_i) , $i = 0, \dots, n$, sono rilevati con scarsa precisione, non ha molto senso cercare un polinomio di grado n (o, più in generale una funzione $\Psi(x)$) che interpoli i valori y_i nei nodi x_i . In questo caso è più utile cercare una funzione che si avvicini il più possibile ai dati rilevati. Chiaramente i criteri che si possono scegliere per tradurre l'espressione "si avvicini il più possibile" in termini matematici sono molteplici. Nel seguito descriviamo uno dei più usati non senza aver richiamato alcune definizioni di algebra lineare. In particolare ricordiamo che si definisce **norma 2** di un vettore (o **norma euclidea**) $\mathbf{x} \in \mathbb{R}^n$ la quantità

$$\|\mathbf{x}\|_2 = \sqrt{\sum_{i=1}^n x_i^2}$$

che, introducendo il prodotto scalare tra vettori $\mathbf{x}, \mathbf{y} \in \mathbb{R}^n$,

$$(\mathbf{x}, \mathbf{y}) = \mathbf{y}^T \mathbf{x} = \sum_{i=1}^n x_i y_i$$

può essere scritta nel seguente modo:

$$\|\mathbf{x}\|_2 = \sqrt{\mathbf{x}^T \mathbf{x}} = \sqrt{(\mathbf{x}, \mathbf{x})}.$$

Indichiamo con $\Phi(a_0, a_1, \dots, a_m; x)$ la funzione (nella variabile x) che stiamo cercando e che dipende dagli $m + 1$ coefficienti a_0, a_1, \dots, a_m , e sia ε_i la differenza tra il valore assunto da tale funzione nei nodi x_i ed valore rilevato y_i :

$$\varepsilon_i = \Phi(a_0, a_1, \dots, a_m; x_i) - y_i, \quad i = 0, \dots, n.$$

Si possono determinare i coefficienti a_0, \dots, a_m in modo tale che il vettore

$$\boldsymbol{\varepsilon} = [\varepsilon_0 \quad \varepsilon_2 \quad \dots \quad \varepsilon_n]$$

abbia la minima norma euclidea al quadrato. Definita la funzione

$$Q(a_0, a_1, \dots, a_m) = \|\boldsymbol{\varepsilon}\|_2^2 = \sum_{i=0}^n \varepsilon_i^2 = \sum_{i=0}^n (\Phi(a_0, a_1, \dots, a_m; x_i) - y_i)^2$$

si deve risolvere il seguente problema di minimo

$$Q(a_0^*, a_1^*, \dots, a_m^*) = \min_{a_0, \dots, a_m \in \mathbb{R}} Q(a_0, a_1, \dots, a_m). \quad (4.14)$$

Tale metodo prende il nome, appunto, di **approssimazione ai minimi quadrati**, poichè consiste nel minimizzare una somma di quadrati. Un caso particolare di tale metodo consiste nel cercare una funzione $\Phi(a_0, \dots, a_m)$ di tipo lineare che risolve il problema di minimo appena definito. Tale metodo viene descritto nel successivo paragrafo.

4.5.1 La Retta di Regressione

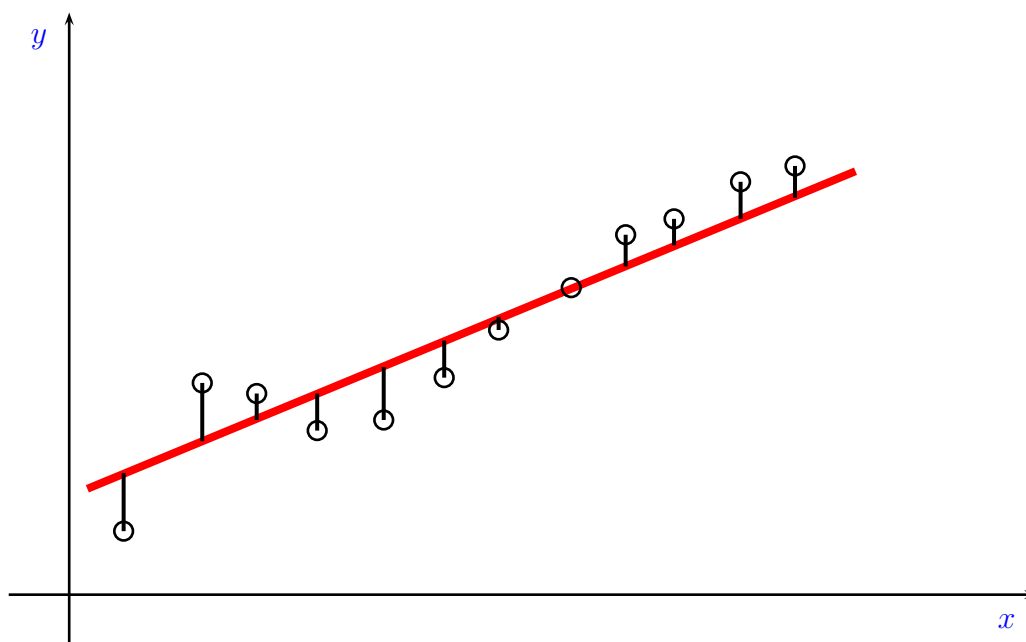
In questo caso si pone

$$\Phi(\alpha, \beta; x) = \alpha x + \beta, \quad \alpha, \beta \in \mathbb{R} \quad (4.15)$$

e si cercano, tra tutte le possibili rette, i coefficienti α e β che globalmente minimizzano la differenza

$$\Phi(\alpha, \beta; x_i) - y_i = \alpha x_i + \beta - y_i$$

La retta (4.15) che risolve tale problema viene detta **Retta di regressione**. Nella seguente figura sono evidenziate le quantità che devono essere globalmente minimizzate (i punti (x_i, y_i) sono evidenziati con il simbolo \circ).



Un modo per minimizzare globalmente le distanze della retta dalle approssimazioni è quello di trovare i valori α, β che minimizzano la funzione:

$$\Psi(\alpha, \beta) = \sum_{i=0}^n (\alpha x_i + \beta - y_i)^2.$$

Per questo si parla di problema ai minimi quadrati (si minimizza una somma di quantità elevate al quadrato).

Per determinare tali valori calcoliamo le derivate parziali rispetto alle incognite:

$$\frac{\partial \Psi}{\partial \alpha} = 2 \sum_{i=0}^n x_i (\alpha x_i + \beta - y_i)$$

$$\frac{\partial \Psi}{\partial \beta} = 2 \sum_{i=0}^n (\alpha x_i + \beta - y_i)$$

$$\begin{cases} \frac{\partial \Psi}{\partial \alpha} = 2 \sum_{i=0}^n x_i (\alpha x_i + \beta - y_i) = 0 \\ \frac{\partial \Psi}{\partial \beta} = 2 \sum_{i=0}^n (\alpha x_i + \beta - y_i) = 0 \end{cases}$$

$$\begin{cases} \sum_{i=0}^n x_i (\alpha x_i + \beta - y_i) = 0 \\ \sum_{i=0}^n (\alpha x_i + \beta - y_i) = 0 \end{cases}$$

$$\begin{cases} \alpha \sum_{i=0}^n x_i^2 + \beta \sum_{i=0}^n x_i - \sum_{i=0}^n x_i y_i = 0 \\ \alpha \sum_{i=0}^n x_i + (n+1)\beta - \sum_{i=0}^n y_i = 0. \end{cases}$$

Poniamo per semplicità

$$S_{xx} = \sum_{i=0}^n x_i^2 \quad S_x = \sum_{i=0}^n x_i$$

$$S_{xy} = \sum_{i=0}^n x_i y_i \quad S_y = \sum_{i=0}^n y_i.$$

Il sistema diventa

$$\begin{cases} S_{xx}\alpha + S_x\beta = S_{xy} \\ S_x\alpha + (n+1)\beta = S_y \end{cases}$$

la cui soluzione è

$$\alpha = \frac{(n+1)S_{xy} - S_x S_y}{(n+1)S_{xx} - S_x^2}$$

$$\beta = \frac{S_y S_{xx} - S_x S_{xy}}{(n+1)S_{xx} - S_x^2}.$$

La tecnica della retta di regressione può essere applicata anche nel caso in cui la relazione tra le ascisse x_i e le ordinate y_i sia di tipo esponenziale, ovvero si può ipotizzare che la funzione che meglio approssima i dati sperimentali sia

$$\Phi(x) = Be^{Ax}, \quad A, B \in \mathbb{R}, B > 0.$$

Ponendo

$$Y = \log \Phi(x)$$

risulta

$$Y = \log(Be^{Ax}) = Ax + \log B$$

ovvero

$$Y = \alpha x + \beta, \quad \alpha = A, \beta = \log B$$

quindi si può applicare la tecnica della retta di regressione ai dati $(x_i, \log y_i)$ (osserviamo che affinché il modello abbia senso i valori y_i devono essere tutti strettamente positivi).

4.5.2 Approssimazione polinomiale ai minimi quadrati

Torniamo ora al problema di minimo (4.14). Poichè la funzione $Q : \mathbb{R}^n \rightarrow \mathbb{R}$ condizione necessaria affinché un punto sia di minimo è

$$\frac{\partial Q}{\partial a_k}(a_0, \dots, a_m) = 0, \quad k = 0, \dots, m$$

e, poichè

$$Q(a_0, a_1, \dots, a_m) = \sum_{i=0}^n (\Phi(a_0, a_1, \dots, a_m; x_i) - y_i)^2$$

segue

$$\sum_{i=0}^n (\Phi(a_0, a_1, \dots, a_m; x) - y_i) \frac{\partial \Phi}{\partial a_k}(a_0, \dots, a_m; x) = 0$$

Si ottiene un sistema di $m + 1$ equazioni (in generale non lineari) nelle $m + 1$ incognite a_0, \dots, a_m , detto **sistema delle equazioni normali**.

Vediamo ora come affrontare in generale tale problema. Consideriamo $m + 1$ funzioni base $\varphi_0(x), \varphi_1(x), \dots, \varphi_m(x)$ e supponiamo che la funzione $\Phi(x)$ abbia la seguente forma:

$$\Phi(a_0, \dots, a_m; x) = a_0\varphi_0(x) + a_1\varphi_1(x) + \dots + a_m\varphi_m(x).$$

In questo caso la funzione $Q(a_0, \dots, a_m)$ da minimizzare assume una forma particolare, infatti, osservato che

$$\begin{aligned}\Phi(a_0, \dots, a_m; x) &= a_0\varphi_0(x) + a_1\varphi_1(x) + \dots + a_m\varphi_m(x) \\ &= \begin{bmatrix} \varphi_0(x) & \dots & \varphi_m(x) \end{bmatrix} \begin{bmatrix} a_0 \\ \vdots \\ a_m \end{bmatrix}\end{aligned}$$

calcolando la funzione nei nodi x_i :

$$\begin{bmatrix} \Phi(a_0, \dots, a_m; x_0) \\ \Phi(a_0, \dots, a_m; x_1) \\ \vdots \\ \Phi(a_0, \dots, a_m; x_n) \end{bmatrix} = \underbrace{\begin{bmatrix} \varphi_0(x_0) & \varphi_1(x_0) & \dots & \varphi_m(x_0) \\ \varphi_0(x_1) & \varphi_1(x_1) & \dots & \varphi_m(x_1) \\ \vdots & \vdots & & \vdots \\ \varphi_0(x_n) & \varphi_1(x_n) & \dots & \varphi_m(x_n) \end{bmatrix}}_A \underbrace{\begin{bmatrix} a_0 \\ a_1 \\ \vdots \\ a_m \end{bmatrix}}_{\boldsymbol{\alpha}} = A\boldsymbol{\alpha}.$$

Ricaviamo ora l'espressione della funzione $Q(a_0, \dots, a_m)$

$$\begin{aligned}Q(a_0, \dots, a_m) &= \sum_{i=0}^n (\Phi(a_0, \dots, a_m; x_i) - y_i)^2 \\ &= \left\| \begin{bmatrix} \Phi(a_0, \dots, a_m; x_0) \\ \Phi(a_0, \dots, a_m; x_1) \\ \vdots \\ \Phi(a_0, \dots, a_m; x_n) \end{bmatrix} - \begin{bmatrix} y_0 \\ y_1 \\ \vdots \\ y_n \end{bmatrix} \right\|_2^2 \\ &= \|A\boldsymbol{\alpha} - \mathbf{y}\|_2^2 \\ &= (A\boldsymbol{\alpha} - \mathbf{y})^T (A\boldsymbol{\alpha} - \mathbf{y}) \\ &= (\boldsymbol{\alpha}^T A^T - \mathbf{y}^T) (A\boldsymbol{\alpha} - \mathbf{y}) \\ &= \boldsymbol{\alpha}^T A^T A\boldsymbol{\alpha} - 2\boldsymbol{\alpha}^T A^T \mathbf{y} + \mathbf{y}^T \mathbf{y}.\end{aligned}$$

Calcolando le derivate parziali rispetto ad a_i ed imponendo che siano uguali a zero risulta

$$\frac{\partial Q}{\partial a_i} = 0 \quad \Rightarrow \quad A^T A\boldsymbol{\alpha} - A^T \mathbf{y} = 0.$$

Il vettore dei coefficienti cercato è la soluzione del sistema di equazioni normali

$$A^T A \boldsymbol{\alpha} = A^T \mathbf{y} \quad (4.16)$$

che ammette un'unica soluzione se e solo se le colonne di A sono linearmente indipendenti e che vale

$$\boldsymbol{\alpha} = (A^T A)^{-1} A^T \mathbf{y}.$$

Un caso particolare è il caso dell'**approssimazione polinomiale ai minimi quadrati**, in cui le funzioni base sono

$$\varphi_j(x) = x^j, \quad j = 0, \dots, m.$$

In tal caso

$$A = \begin{bmatrix} 1 & x_0 & x_0^2 & \dots & x_0^{m-1} & x_0^m \\ 1 & x_1 & x_1^2 & \dots & x_1^{m-1} & x_1^m \\ \vdots & \vdots & \vdots & & \vdots & \vdots \\ 1 & x_n & x_n^2 & \dots & x_n^{m-1} & x_n^m \end{bmatrix},$$

e il sistema ammette un'unica soluzione. Osserviamo infine che le dimensioni del sistema da risolvere dipendono solo dal numero di funzioni base scelte e non dal numero di dati a disposizione.

Per risolvere il sistema delle equazioni normali si può utilizzare un metodo alternativo alla fattorizzazione LU , ovvero la cosiddetta fattorizzazione di Cholesky

$$A = LL^T$$

dove A indica la matrice dei coefficienti del sistema delle equazioni normali, L è una matrice triangolare inferiore con elementi diagonali positivi. Le formule per il calcolo di l_{ij} sono le seguenti:

$$l_{ij} = \frac{1}{l_{jj}} \left(a_{ij} - \sum_{k=1}^{i-1} l_{ik} l_{jk} \right) \quad i = 1, \dots, n, j < i$$

$$l_{ii} = \sqrt{a_{ii} - \sum_{k=1}^{i-1} l_{ik}^2}$$

Capitolo 5

Quadratura Numerica

5.1 Formule di Quadratura di Tipo Interpolatorio

Siano assegnati due valori a, b , con $a < b$, ed una funzione f integrabile sull'intervallo (a, b) . Il problema che ci poniamo è quello di costruire degli algoritmi numerici che ci permettano di valutare, con errore misurabile, il numero

$$I(f) = \int_a^b f(x)dx.$$

Diversi sono i motivi che possono portare alla richiesta di un algoritmo numerico per questi problemi.

Per esempio pur essendo in grado di calcolare una primitiva della funzione f , questa risulta così complicata da preferire un approccio di tipo numerico. Non è da trascurare poi il fatto che il coinvolgimento di funzioni, elementari e non, nella primitiva e la loro valutazione negli estremi a e b comporta comunque un'approssimazione dei risultati. Un'altra eventualità è che f sia nota solo in un numero finito di punti o comunque può essere valutata in ogni valore dell'argomento solo attraverso una routine. In questi casi l'approccio analitico non è neanche da prendere in considerazione.

Supponiamo dunque di conoscere la funzione $f(x)$ nei punti distinti x_0, x_1, \dots, x_n prefissati o scelti da noi, ed esaminiamo la costruzione di formule del tipo

$$\sum_{k=0}^n w_k f(x_k) \tag{5.1}$$

che approssimino $I(f)$.

Formule di tipo (5.1) si dicono **di quadratura**, i numeri reali x_0, x_1, \dots, x_n e w_0, \dots, w_n si chiamano rispettivamente **nod**i e **pesi** della formula di quadratura.

Il modo piú semplice ed immediato per costruire formule di tipo (5.1) è quello di sostituire la funzione integranda $f(x)$ con il polinomio di Lagrange $L_n(x)$ interpolante $f(x)$ nei nodi $x_i, i = 0, \dots, n$. Posto infatti

$$f(x) = L_n(x) + e(x)$$

dove $e(x)$ è la funzione errore, abbiamo:

$$\begin{aligned} \int_a^b f(x)dx &= \int_a^b [L_n(x) + e(x)]dx = \int_a^b L_n(x)dx + \int_a^b e(x)dx \\ &= \int_a^b \sum_{k=0}^n l_{nk}(x)f(x_k)dx + \int_a^b e(x)dx \\ &= \sum_{k=0}^n \left(\int_a^b l_{nk}(x)dx \right) f(x_k) + \int_a^b e(x)dx. \end{aligned}$$

Ponendo

$$w_k = \int_a^b l_{nk}(x)dx \quad k = 0, 1, \dots, n \quad (5.2)$$

e

$$R_{n+1}(f) = \int_a^b e(x)dx \quad (5.3)$$

otteniamo

$$I(f) \simeq \sum_{k=0}^n w_k f(x_k)$$

con un errore stabilito dalla relazione (5.3). Le formule di quadratura con pesi definiti dalle formule (5.2) si dicono **interpolatorie**. La quantità $R_{n+1}(f)$ prende il nome di **Resto della formula di quadratura**. Un utile concetto per misurare il grado di accuratezza con cui una formula di quadratura, interpolatoria o meno, approssima un integrale è il seguente.

Definizione 5.1.1 Una formula di quadratura ha **grado di precisione q** se fornisce il valore esatto dell'integrale quando la funzione integranda è un

qualunque polinomio di grado al più q ed inoltre esiste un polinomio di grado $q + 1$ tale che l'errore è diverso da zero.

È evidente da questa definizione che ogni formula di tipo interpolatorio con nodi x_0, x_1, \dots, x_n ha grado di precisione almeno n . Infatti applicando una formula di quadratura costruita su $n + 1$ nodi al polinomio $p_n(x)$, di grado n si ottiene:

$$\int_a^b p_n(x) dx = \sum_{i=0}^n w_i p_n(x_i) + R_{n+1}(f)$$

e

$$R_{n+1}(f) = \int_a^b \omega_{n+1}(x) \frac{p_n^{(n+1)}(x)}{(n+1)!} dx \equiv 0$$

ovvero la formula fornisce il risultato esatto dell'integrale, quindi $q \geq n$.

5.2 Formule di Newton-Cotes

Suddividiamo l'intervallo $[a, b]$ in n sottointervalli di ampiezza h , con

$$h = \frac{b-a}{n}$$

e definiamo i nodi

$$x_i = a + ih \quad i = 0, 1, \dots, n.$$

La formula di quadratura interpolatoria costruita su tali nodi, cioè

$$\int_a^b f(x) dx = \sum_{i=0}^n w_i f(x_i) + R_{n+1}(f)$$

è detta **Formula di Newton-Cotes**.

Una proprietà di cui godono i pesi delle formule di Newton-Cotes è la cosiddetta **proprietà di simmetria**. Infatti poiché i nodi sono a due a due simmetrici rispetto al punto medio c dell'intervallo $[a, b]$, cioè $c = (x_i + x_{n-i})/2$, per ogni i , tale proprietà si ripercuote sui pesi che infatti sono a due a due uguali,

cioè $w_i = w_{n-i}$, per ogni i . Infatti

$$\begin{aligned} w_k &= \int_a^b \prod_{i=0, i \neq k}^n \frac{x - x_i}{x_k - x_i} dx \\ &= \int_a^b \prod_{i=0, i \neq k}^n \frac{x - 2c + x_{n-i}}{2c - x_{n-k} - 2c + x_{n-i}} dx \\ &= \int_a^b \prod_{i=0, i \neq k}^n \frac{x - 2c + x_{n-i}}{x_{n-i} - x_{n-k}} dx \\ &= \int_a^b \prod_{i=0, i \neq k}^n \frac{2c - x - x_{n-i}}{x_{n-k} - x_{n-i}} dx. \end{aligned}$$

Posto $t = 2c - x$ risulta

$$\begin{aligned} x = a &\quad \Rightarrow \quad t = 2c - a = b \\ x = b &\quad \Rightarrow \quad t = 2c - b = a \end{aligned}$$

quindi gli estremi di integrazione risultano invertiti, ma poichè $dt = -dx$ possiamo invertirli nuovamente, ottenendo

$$w_k = \int_a^b \prod_{i=0, i \neq k}^n \frac{t - x_{n-i}}{x_{n-k} - x_{n-i}} dt,$$

ponendo quindi nella produttoria $j = n - i$ risulta

$$w_k = \int_a^b \prod_{j=0, j \neq n-k}^n \frac{t - x_j}{x_{n-k} - x_j} dt = w_{n-k},$$

e la proprietà di simmetria dei pesi è dimostrata. Descriviamo ora due esempi di formule di Newton-Cotes.

5.2.1 Formula dei Trapezi

Siano $x_0 = a$, $x_1 = b$ e $h = b - a$.

$$T_2 = w_0 f(x_0) + w_1 f(x_1)$$

$$\begin{aligned} w_0 &= \int_a^b l_{1,0}(x) dx = \int_a^b \frac{x - x_1}{x_0 - x_1} dx = \int_a^b \frac{x - b}{a - b} dx \\ &= \frac{1}{a - b} \left[\frac{(x - b)^2}{2} \right]_{x=a}^{x=b} = \frac{h}{2}. \end{aligned}$$

Poichè i nodi scelti sono simmetrici rispetto al punto medio $c = (a + b)/2$ è

$$w_1 = w_0 = \frac{h}{2}.$$

Otteniamo dunque la formula

$$T_2 = \frac{h}{2} [f(a) + f(b)]$$

che viene detta **Formula dei Trapezi**. Per quanto riguarda il resto abbiamo

$$R_2(f) = \frac{1}{2} \int_a^b (x - a)(x - b) f''(\xi_x) dx.$$

Prima di vedere come tale espressione può essere manipolata enunciamo il seguente teorema che è noto come **teorema della media generalizzato**.

Teorema 5.2.1 *Siano $f, g : [a, b] \rightarrow \mathbb{R}$, funzioni continue con $g(x)$ a segno costante e $g(x) \neq 0$ per ogni $x \in]a, b[$. Allora*

$$\int_a^b f(x)g(x)dx = f(\xi) \int_a^b g(x)dx, \quad \xi \in [a, b]. \quad \square$$

Poichè la funzione $(x - a)(x - b)$ è a segno costante segue:

$$R_2(f) = \frac{1}{2} f''(\eta) \int_a^b (x - a)(x - b) dx$$

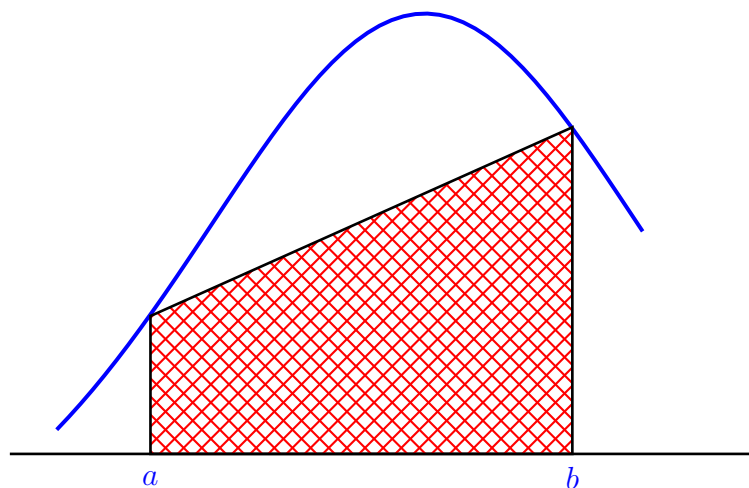
posto $x = a + ht$ otteniamo

$$R_2(f) = \frac{1}{2} f''(\eta) h^3 \int_0^1 t(t - 1) dt = -\frac{1}{12} h^3 f''(\eta).$$

L'errore della formula dipende dalla derivata seconda della funzione quindi il grado di precisione è pari a 1 in quanto solo se f è un polinomio di grado

al più 1 essa fornisce il risultato esatto dell'integrale.

L'interpretazione geometrica della formula del trapezio è riassunta nella seguente figura, l'area tratteggiata (ovvero l'integrale della funzione viene approssimato attraverso l'area del trapezio che ha come basi i valori della funzione in a e b e come altezza l'intervallo $[a, b]$).



5.2.2 Formula di Simpson

Siano $x_0 = a$, $x_2 = b$ mentre poniamo $x_1 = c$, punto medio dell'intervallo $[a, b]$. Allora

$$S_3 = w_0 f(a) + w_1 f(c) + w_2 f(b).$$

Posto

$$h = \frac{b-a}{2}$$

abbiamo

$$w_0 = \int_a^b l_{2,0}(x) dx = \int_a^b \frac{(x-c)(x-b)}{(a-c)(a-b)} dx.$$

Effettuando il cambio di variabile $x = c + ht$ è facile calcolare quest'ultimo integrale, infatti

$$x = a \Rightarrow a = c + ht \Rightarrow a - c = ht \Rightarrow -h = ht \Rightarrow t = -1$$

e

$$x = b \Rightarrow b = c + ht \Rightarrow b - c = ht \Rightarrow h = ht \Rightarrow t = 1.$$

Inoltre $a - c = -h$ e $a - b = -2h$ mentre

$$x - c = c + ht - c = ht, \quad x - b = c + ht - b = c - b + ht = -h + ht = h(t - 1),$$

ed il differenziale $dx = hdt$ cosicchè

$$\begin{aligned} w_0 &= \int_a^b \frac{(x - c)(x - b)}{(a - c)(a - b)} dx = \int_{-1}^1 \frac{hth(t - 1)}{(-h)(-2h)} h dt \\ &= \frac{h}{2} \int_{-1}^1 (t^2 - t) dt = \frac{h}{2} \int_{-1}^1 t^2 dt = \frac{h}{2} \left[\frac{t^3}{3} \right]_{-1}^1 = \frac{h}{3}. \end{aligned}$$

Per la proprietà di simmetria è anche

$$w_2 = w_0 = \frac{h}{3}$$

mentre possiamo calcolare w_1 senza ricorrere alla definizione. Infatti possiamo notare che la formula fornisce il valore esatto dell'integrale quando la funzione è costante nell'intervallo $[a, b]$, quindi possiamo imporre che, prendendo $f(x) = 1$ in $[a, b]$, sia

$$\int_a^b dx = b - a = \frac{h}{3}(f(a) + f(b)) + w_1 f(c) = \frac{2}{3}h + w_1$$

da cui segue

$$w_1 = b - a - \frac{2}{3}h = 2h - \frac{2}{3}h = \frac{4}{3}h.$$

Dunque

$$S_3 = \frac{h}{3} [f(a) + 4f(c) + f(b)].$$

Questa formula prende il nome di **Formula di Simpson**. Per quanto riguarda l'errore si può dimostrare, e qui ne omettiamo la prova, che vale la seguente relazione

$$R_3(f) = -h^5 \frac{f^{(4)}(\sigma)}{90} \quad \sigma \in (a, b),$$

che assicura che la formula ha grado di precisione 3.

5.3 Formule di Quadratura Composte

Come abbiamo già avuto modo di vedere le formule di quadratura interpolatorie vengono costruite approssimando su tutto l'intervallo di integrazione la funzione integranda con un unico polinomio, quello interpolante la funzione sui nodi scelti. Per formule convergenti la precisione desiderata si ottiene prendendo n sufficientemente grande. In tal modo comunque, per ogni fissato n , bisogna costruire la corrispondente formula di quadratura. Una strategia alternativa che ha il pregio di evitare la costruzione di una nuova formula di quadratura, e che spesso produce risultati più apprezzabili, è quella delle **formule composte**. Infatti scelta una formula di quadratura l'intervallo di integrazione (a, b) viene suddiviso in N sottointervalli di ampiezza h ,

$$h = \frac{b - a}{N} \quad (5.4)$$

sicchè

$$\int_a^b f(x)dx = \sum_{i=0}^{N-1} \int_{x_i}^{x_{i+1}} f(x)dx$$

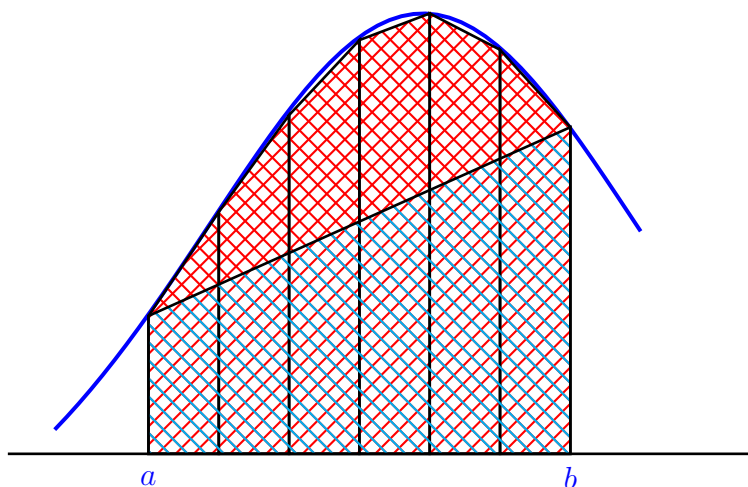
dove i punti x_i sono:

$$x_i = a + ih \quad i = 0, \dots, N \quad (5.5)$$

quindi la formula di quadratura viene applicata ad ognuno degli intervalli $[x_i, x_{i+1}]$. Il grado di precisione della formula di quadratura composta coincide con il grado di precisione della formula da cui deriva. Descriviamo ora la **Formula dei Trapezi Composta**.

5.3.1 Formula dei Trapezi Composta

Per quanto visto in precedenza suddividiamo l'intervallo $[a, b]$ in N sottointervalli, ognuno di ampiezza data da h , come in (5.4), e con i nodi x_i definiti in (5.5). Appliciamo quindi in ciascuno degli N intervalli $[x_i, x_{i+1}]$ la formula dei trapezi. Nella seguente figura sono evidenziate le aree che approssimano l'integrale utilizzando la formula dei trapezi semplice e quella composta.



Applicando la formula dei trapezi a ciascun sottointervallo si ottiene

$$\int_a^b f(x)dx = \sum_{i=0}^{N-1} \int_{x_i}^{x_{i+1}} f(x)dx = \sum_{i=0}^{N-1} \left[\frac{h}{2} (f(x_i) + f(x_{i+1})) - \frac{1}{12} h^3 f''(\eta_i) \right]$$

con $\eta_i \in (x_i, x_{i+1})$. Scrivendo diversamente la stessa espressione

$$\begin{aligned} \int_a^b f(x)dx &= \frac{h}{2} (f(x_0) + f(x_N)) + h \sum_{i=1}^{N-1} f(x_i) - \frac{1}{12} h^3 \sum_{i=0}^{N-1} f''(\eta_i) \\ &= \frac{h}{2} (f(x_0) + f(x_N)) + h \sum_{i=1}^{N-1} f(x_i) - \frac{1}{12} h^3 N f''(\eta) \end{aligned}$$

dove $\eta \in (a, b)$. L'esistenza di tale punto η è garantito dal cosiddetto **Teorema della media nel discreto** applicato a $f''(x)$, che stabilisce che se $g(x)$ è una funzione continua in un intervallo $[a, b]$ e $\eta_i \in [a, b]$ $i = 1, N$, sono N punti distinti, allora esiste un punto $\eta \in (a, b)$ tale che

$$\sum_{i=1}^N g(\eta_i) = N g(\eta).$$

Dunque la formula dei trapezi composta è data da:

$$T_C(h) = \frac{h}{2} (f(x_0) + f(x_N)) + h \sum_{i=1}^{N-1} f(x_i)$$

con resto

$$R_T = -\frac{1}{12}h^3 N f''(\eta) = -\frac{1}{12} \frac{(b-a)^3}{N^3} N f''(\eta) = -\frac{1}{12} \frac{(b-a)^3}{N^2} f''(\eta).$$

Quest'ultima formula può essere utile per ottenere a priori una suddivisione dell'intervallo $[a, b]$ in un numero di intervalli che permetta un errore non superiore ad una prefissata tolleranza. Infatti

$$|R_T| \leq \frac{1}{12} \frac{(b-a)^3}{N^2} M, \quad M = \max_{x \in [a, b]} |f''(x)|.$$

Imponendo che $|R_T| \leq \varepsilon$, precisione prefissata, segue

$$N_\varepsilon \geq \sqrt{\frac{(b-a)^3 M}{12\varepsilon}}. \quad (5.6)$$

Tuttavia questo numero spesso risulta una stima eccessiva a causa della maggiorazione della derivata seconda tramite M .

Esempio 5.3.1 *Determinare il numero di intervalli in cui suddividere l'intervallo di integrazione per approssimare*

$$\int_1^2 \log x \, dx$$

con la formula dei trapezi composta con un errore inferiore a $\varepsilon = 10^{-4}$.

La derivata seconda della funzione integranda è

$$f''(x) = -\frac{1}{x^2}$$

quindi il valore di M è 1. Dalla relazione (5.6) segue che

$$N_\varepsilon \geq \sqrt{\frac{1}{12\varepsilon}} = 29.$$

5.3.2 Formula di Simpson Composta

Per ottenere la formula di Simpson composta, si procede esattamente come per la formula dei trapezi composta. Suddividiamo $[a, b]$ in N intervalli di ampiezza h , con N numero pari. Allora

$$\begin{aligned} \int_a^b f(x)dx &= \sum_{i=0}^{\frac{N}{2}-1} \int_{x_{2i}}^{x_{2i+2}} f(x)dx \\ &= \sum_{i=0}^{\frac{N}{2}-1} \left[\frac{h}{3} (f(x_{2i}) + 4f(x_{2i+1}) + f(x_{2i+2})) - \frac{h^5}{90} f^{(4)}(\eta_i) \right] \\ &= \frac{h}{3} \sum_{i=0}^{\frac{N}{2}-1} [f(x_{2i}) + 4f(x_{2i+1}) + f(x_{2i+2})] - \frac{h^5 N}{180} f^{(4)}(\eta) \end{aligned}$$

dove $\eta_i \in (x_i, x_{i+1})$ e $\eta \in (a, b)$.

La formula di Simpson composta è dunque

$$\begin{aligned} S_C(h) &= \frac{h}{3} \sum_{i=0}^{\frac{N}{2}-1} [f(x_{2i}) + 4f(x_{2i+1}) + f(x_{2i+2})] \\ &= \frac{h}{3} \left[f(x_0) + f(x_N) + 2 \sum_{i=1}^{\frac{N}{2}-1} f(x_{2i}) + 4 \sum_{i=0}^{\frac{N}{2}-1} f(x_{2i+1}) \right] \end{aligned}$$

mentre la formula dell'errore è

$$R_S = -\frac{(b-a)^5}{180N^4} f^{(4)}(\eta).$$

Anche quest'ultima formula talvolta può essere utile per ottenere a priori una suddivisione dell'intervallo $[a, b]$ in un numero di intervalli che permetta un errore non superiore ad una prefissata tolleranza. Infatti

$$|R_S| \leq \frac{1}{180} \frac{(b-a)^5}{N^4} M, \quad M = \max_{x \in [a,b]} |f^{(4)}(x)|.$$

Imponendo che $|R_S| \leq \varepsilon$ segue

$$N_\varepsilon \geq \sqrt[4]{\frac{(b-a)^5 M}{180\varepsilon}}. \quad (5.7)$$

Esempio 5.3.2 Risolvere il problema descritto nell'esempio 5.3.1 applicando la formula di Simpson composta.

La derivata quarta della funzione integranda è

$$f^{iv}(x) = -\frac{6}{x^4}$$

quindi è maggiorata da $M = 6$. Dalla relazione (5.7) segue che

$$N_\varepsilon \geq \sqrt[4]{\frac{6}{180\varepsilon}} > 4,$$

quindi $N_\varepsilon \geq 6$.

5.3.3 La formula del punto di mezzo

Sia c il punto medio dell'intervallo $[a, b]$. Sviluppiamo $f(x)$ in serie di Taylor prendendo c come punto iniziale:

$$f(x) = f(c) + f'(c)(x - c) + \frac{f''(\xi_x)}{2}(x - c)^2, \quad \xi_x \in [a, b].$$

Integrando membro a membro

$$\begin{aligned} \int_a^b f(x)dx &= \int_a^b f(c)dx + f'(c) \int_a^b (x - c)dx + \int_a^b \frac{f''(\xi_x)}{2}(x - c)^2dx \\ &= (b - a)f(c) + \int_a^b \frac{f''(\xi_x)}{2}(x - c)^2dx. \end{aligned}$$

Poichè la funzione $x - c$ è dispari rispetto a c il suo integrale nell'intervallo $[a, b]$ è nullo. La formula

$$\int_a^b f(x)dx \simeq (b - a)f(c)$$

prende appunto il nome di **formula del punto di mezzo** (o di midpoint).

Per quanto riguarda l'errore abbiamo

$$\begin{aligned} R(f) &= \int_a^b \frac{f''(\xi_x)}{2}(x - c)^2dx \\ &= \frac{f''(\xi)}{2} \int_a^b (x - c)^2dx. \end{aligned}$$

In questo caso la funzione $(x - c)^2$ è a segno costante quindi è stato possibile applicare il teorema 5.2.1. Calcoliamo ora l'integrale

$$\int_a^b (x - c)^2 dx = 2 \int_c^b (x - c)^2 = \frac{2}{3} [(x - c)^3]_c^b = \frac{h^3}{12}$$

avendo posto $h = b - a$. L'espressione del resto di tale formula è quindi

$$R(f) = \frac{h^3}{24} f''(\xi).$$

Osserviamo che la formula ha grado di precisione 1, come quella dei trapezi, però richiede il calcolo della funzione solo nel punto medio dell'intervallo mentre la formula dei trapezi necessita di due valutazioni funzionali.

5.3.4 Formula del punto di mezzo composta

Anche in questo caso suddividiamo l'intervallo $[a, b]$ in N intervallini di ampiezza h , con N pari. Allora

$$\begin{aligned} \int_a^b f(x) dx &= \sum_{i=0}^{\frac{N}{2}-1} \int_{x_{2i}}^{x_{2i+2}} f(x) dx \\ &= \sum_{i=0}^{\frac{N}{2}-1} \left[2h f(x_{2i+1}) + \frac{(2h)^3}{24} f''(\eta_i) \right] \\ &= 2h \sum_{i=0}^{\frac{N}{2}-1} f(x_{2i+1}) + \frac{Nh^3}{6} f''(\eta) \\ &= 2h \sum_{i=0}^{\frac{N}{2}-1} f(x_{2i+1}) + \frac{(b-a)^3}{6N^2} f''(\eta) \end{aligned}$$

dove $\eta_i \in (x_{2i}, x_{2i+2})$ e $\eta \in (a, b)$. La formula del punto di mezzo composta è dunque

$$M_C(h) = 2h \sum_{i=0}^{\frac{N}{2}-1} f(x_{2i+1})$$

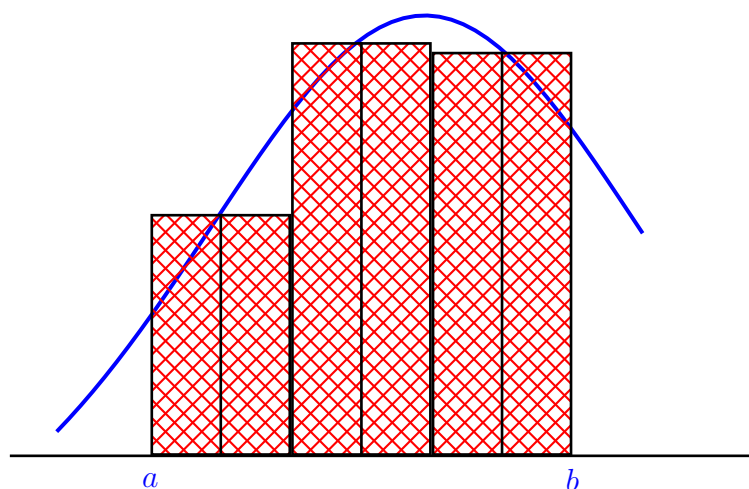


Figura 5.1: Formula del Punto di Mezzo Composta

mentre il resto è

$$R_M = \frac{(b-a)^3}{6N^2} f''(\eta). \quad (5.8)$$

Se ε è la tolleranza fissata risulta

$$|R_M| \leq \frac{1}{6} \frac{(b-a)^3}{N^2} M, \quad M = \max_{x \in [a,b]} |f''(x)|.$$

Imponendo che $|R_T| \leq \varepsilon$, precisione prefissata, segue

$$N_\varepsilon \geq \sqrt{\frac{(b-a)^3 M}{6\varepsilon}}. \quad (5.9)$$

Nella Figura 5.1 sono evidenziate le aree che approssimano l'integrale utilizzando la formula del punto di mezzo composta.

Esempio 5.3.3 *Risolvere il problema descritto nell'esempio 5.3.1 applicando la formula del punto di mezzo composta.*

La derivata seconda della funzione integranda è maggiorata da $M = 1$. Da (5.9) risulta

$$N_\varepsilon \geq \sqrt{\frac{1}{6\varepsilon}} > 40.$$

Capitolo 6

Introduzione al Calcolo delle Probabilità

6.1 Esperimenti casuali

Il calcolo delle probabilità studia fenomeni, detti esperimenti casuali o non deterministici, in cui il risultato di un evento non sia certo pur assumendo con certezza un valore appartenente ad un insieme noto. Il risultato del lancio di un dado, il numero di teste uscite dopo aver lanciato 4 volte una moneta non truccata, il numero di articoli difettosi prodotti da una fabbrica nell'arco di 24 ore, la durata di una lampadina o di un elettrodomestico sono classici esempi di fenomeni casuali.

Un esperimento, per essere casuale, deve soddisfare alcune caratteristiche particolari:

1. Deve essere possibile la sua ripetizione sotto le stesse condizioni un numero indefinito di volte;
2. Benchè non sia possibile stabilire quando un certo risultato avverrà si può comunque descrivere l'insieme di tutti i possibili risultati dell'esperimento;
3. Ripetuto un esperimento un piccolo numero di volte le uscite individuali occorrono in modo accidentale. Tuttavia un esperimento ripetuto un numero elevato di volte produce risultati che sembrano regolari.

È proprio quest'ultima regolarità che permette di costruire un modello matematico di un esperimento casuale.

Definizione 6.1.1 Dato un esperimento \mathcal{E} si definisce Spazio Campione S l'insieme di tutti i possibili risultati di \mathcal{E} .

Per esempio all'esperimento lancio di un dado è possibile associare l'insieme

$$S = \{1, 2, 3, 4, 5, 6\},$$

mentre all'esperimento Lancio di una moneta 4 volte si può associare il seguente spazio campione:

$$S = \{ \text{CCCC, CCCT, CCTC, CCTT, CTCC, CTCT, CTTC, CTTT} \\ \text{TTTT, TTTC, TTCT, TTCC, TCTT, TCTC, TCCT, TCCC} \}.$$

Definizione 6.1.2 Dato un esperimento \mathcal{E} cui è associato uno spazio campione S si definisce Evento un insieme di possibili risultati di \mathcal{E} , cioè un sottoinsieme di S .

Per esempio se l'esperimento considerato è il lancio di un dado possibili eventi sono

$$\begin{aligned} A &= \{\text{esce un numero pari}\} \\ B &= \{\text{esce un numero divisibile per 3}\} \\ C &= \{\text{esce un numero primo}\}. \end{aligned}$$

Gli eventi possono essere raffigurati come insiemi matematici quindi ha senso considerare operazioni su di essi come unioni o intersezioni. Per esempio

$$A \cap B = \{6\}$$

oppure

$$A \cap C = \{2\}$$

e ancora

$$B \cup C = \{1, 2, 3, 5, 6\}.$$

Definizione 6.1.3 Due eventi A e B si dicono *mutuamente esclusivi* (o *incompatibili*) se non possono accadere contemporaneamente, ovvero se

$$A \cap B = \emptyset.$$

6.2 Frequenza assoluta e frequenza relativa

Definizione 6.2.1 Sia A un evento associato ad un esperimento \mathcal{E} . Supponiamo di ripetere l'esperimento n volte e sia n_A il numero di volte che l'evento A accade. Si definisce *Frequenza Assoluta* il valore n_A mentre il rapporto

$$f_A = \frac{n_A}{n}$$

è la *Frequenza Relativa*.

La frequenza relativa f_A gode delle seguenti proprietà:

1. $0 \leq f_A \leq 1$;
2. $f_A = 1$ se $A = S$;
3. $f_A = 0$ se l'evento A è impossibile;
4. se $A \cap B = \emptyset$ allora $f_{A \cup B} = f_A + f_B$.

La probabilità di un evento A può essere definita come

$$P(A) = \lim_{n \rightarrow +\infty} \frac{n_A}{n}.$$

La probabilità può essere vista come una funzione che associa ad eventi di S un numero reale compreso tra 0 e 1 tale che se A è un evento relativo allo spazio campione S associato all'esperimento \mathcal{E} allora:

1. $0 \leq P(A) \leq 1$;
2. $P(S) = 1$;
3. se $A \cap B = \emptyset$ allora $P(A \cup B) = P(A) + P(B)$.
4. se A_1, A_2, \dots, A_k sono k eventi tali che $A_i \cap A_j = \emptyset$, con $i \neq j$ allora

$$P\left(\bigcup_{i=1}^k A_i\right) = \sum_{i=1}^k P(A_i).$$

Alcune proprietà della probabilità di un evento sono ovvie, per esempio

$$P(\emptyset) = 0$$

poichè $A = A \cup \emptyset$ ed ovviamente gli eventi A e \emptyset sono mutuamente esclusivi, poichè

$$A \cap \emptyset = \emptyset$$

quindi

$$P(A) = P(A \cup \emptyset) = P(A) + P(\emptyset).$$

Inoltre

$$P(\bar{A}) = 1 - P(A),$$

dove \bar{A} è l'evento complementare di A , cioè quell'evento che si verifica quando non accade A , cioè, tale che $A \cap \bar{A} = \emptyset$ e $A \cup \bar{A} = S$.

Teorema 6.2.1 *Se A e B sono due eventi non mutuamente esclusivi allora*

$$P(A \cup B) = P(A) + P(B) - P(A \cap B).$$

Dimostrazione. Scriviamo $A \cup B$ e B come unione di eventi mutuamente esclusivi:

$$\begin{aligned} A \cup B &= A \cup (\bar{A} \cap B), \\ B &= (A \cap B) \cup (\bar{A} \cap B). \end{aligned}$$

Quindi

$$\begin{aligned} P(A \cup B) &= P(A) + P(\bar{A} \cap B), \\ P(B) &= P(A \cap B) + P(\bar{A} \cap B). \end{aligned}$$

Sottraendo dalla prima relazione la seconda si ottiene

$$P(A \cup B) - P(B) = P(A) - P(A \cap B)$$

da cui segue la tesi. \square

6.2.1 Spazi campione finiti

Consideriamo ora il caso in cui uno spazio campione associato ad un esperimento \mathcal{E} sia composto da un numero finito di eventi $\{a_1, a_2, \dots, a_k\}$. Per caratterizzare la probabilità $P(A)$ si considera il caso di un singolo risultato

$$A = \{a_i\}$$

detto **evento elementare**. A ciascun evento elementare viene associato un numero p_i detto **probabilità di $\{a_i\}$** , tale che:

- i) $p_i \geq 0$, $i = 1, 2, \dots, k$,
- ii) $p_1 + p_2 + \dots + p_k = 1$.

Se un evento A può essere scritto come insieme di r eventi elementari

$$A = \{a_{j_1}, a_{j_2}, \dots, a_{j_r}\}$$

allora, applicando la proprietà ii) risulta

$$P(A) = p_{j_1} + p_{j_2} + \dots + p_{j_r}.$$

L'ipotesi più comune che viene fatta per spazi campione finiti è che tutti i risultati sono equiprobabili. Chiaramente tale ipotesi deve essere giustificata da valide motivazioni, in quanto esistono casi in cui è del tutto erronea. Se k risultati sono equiprobabili allora

$$p_i = \frac{1}{k}, \quad i = 1, \dots, k.$$

Quindi se l'evento A è l'unione di r eventi elementari, abbiamo

$$P(A) = \frac{r}{k}.$$

Il metodo pratico per valutare $P(A)$ viene quindi stabilito nel seguente modo:

$$P(A) = \frac{\text{numero di modi in cui il risultato di } \mathcal{E} \text{ è uguale all'evento } A}{\text{numero totale di risultati dell'esperimento } \mathcal{E}}.$$

Esempi di esperimenti con risultati elementari equiprobabili sono il lancio di una moneta (o di un dado) non truccato, in cui le probabilità sono, rispettivamente $1/2$ (i risultati possibili sono testa o croce) e $1/6$ (i risultati sono i numeri compresi tra 1 e 6). Se invece consideriamo il lancio di una moneta due volte e consideriamo lo spazio campione composto dal numero di volte che è uscito testa, allora

$$S = \{0, 1, 2\}$$

e, considerando l'evento

$$A = \{\text{esce una testa}\}$$

in base a quanto detto si potrebbe pensare che sia $P(A) = 1/3$. Tale analisi è ovviamente errata poichè gli eventi elementari dell'insieme S non sono equiprobabili. Infatti se in alternativa consideriamo come spazio campione l'insieme

$$S = \{CC, CT, TC, TT\}$$

in questo caso gli eventi elementari sono tutti equiprobabili, quindi otteniamo la risposta corretta

$$P(A) = \frac{2}{4} = \frac{1}{2}.$$

Esempio 6.2.1 *Supponiamo di avere tre carte, una rossa da tutti e due i lati, una con un lato bianco ed il dorso rosso mentre la terza ha tutti e due i lati bianchi. Supponiamo di prendere una carta e di scoprire che ha un lato rosso, si vuole calcolare la probabilità che anche il dorso sia rosso.*

Definiamo l'evento

$$A_R = \{\text{Il dorso della carta è rosso}\}.$$

Si potrebbe pensare erroneamente che, poichè i casi possibili sono solo due, allora

$$P(A_R) = \frac{1}{2}.$$

In questo caso invece bisogna identificare con certezza i possibili eventi. Indichiamo con A la prima carta, con B la seconda e con C la terza, con il numero 1 la faccia e con 2 il dorso. Risulta:

$$\begin{array}{ll} A1 & = \text{Rosso} & A2 & = \text{Rosso} \\ B1 & = \text{Bianco} & B2 & = \text{Rosso} \\ C1 & = \text{Bianco} & C2 & = \text{Bianco} \end{array}$$

Una volta scelta la carta a caso abbiamo le seguenti possibilità:

Faccia scoperta	Colore	Dorso carta scelta	Colore
$A1$	Rosso	$A2$	Rosso
$A2$	Rosso	$A1$	Rosso
$B2$	Rosso	$B1$	Bianco

da cui segue che

$$P(A_R) = \frac{2}{3}.$$

Esempio 6.2.2 *Siano A e B due eventi non mutuamente esclusivi, dimostrare che*

$$P((A \cap \bar{B}) \cup (\bar{A} \cap B)) = P(A) + P(B) - 2P(A \cap B).$$

Osserviamo che gli eventi $A \cap \bar{B}$ e $\bar{A} \cap B$ sono mutuamente esclusivi, quindi

$$P((A \cap \bar{B}) \cup (\bar{A} \cap B)) = P(A \cap \bar{B}) + P(\bar{A} \cap B)$$

e, poichè

$$\begin{aligned} P(A \cap \bar{B}) &= P(A) - P(A \cap B) \\ P(\bar{A} \cap B) &= P(B) - P(A \cap B) \end{aligned}$$

da cui la tesi. \square

Esempio 6.2.3 *La probabilità che uno studente che frequenta l'università abbia l'automobile è pari a 0.25, mentre la moto è 0.10 mentre quelli che hanno entrambi è 0.03. Determinare la probabilità che uno studente non abbia nè l'auto nè la moto.*

Definiamo i seguenti eventi

$$\begin{aligned} A &= \{\text{Lo studente ha l'auto}\} \\ B &= \{\text{Lo studente ha la moto}\} \\ A \cap B &= \{\text{Lo studente ha sia l'auto che la moto}\} \end{aligned}$$

Sappiamo che

$$P(A) = 0.25, \quad P(B) = 0.10, \quad P(A \cap B) = 0.03.$$

L'evento unione è

$$A \cup B = \{\text{Lo studente ha l'auto o la moto}\}$$

che ha probabilità

$$P(A \cup B) = 0.25 + 0.10 - 0.03 = 0.32$$

mentre quella che cerchiamo è la probabilità dell'evento complementare

$$P(\overline{A \cup B}) = 1 - P(A \cup B) = 0.68. \quad \square$$

Esempio 6.2.4 *Supponendo di estrarre una carta da un mazzo di carte francesi calcolare la probabilità dei seguenti eventi:*

- (a) $A = \{\text{la carta è un asso}\};$
- (b) $B = \{\text{la carta è una figura}\};$
- (c) $C = \{\text{la carta è un Jack nero oppure un King rosso}\};$
- (d) $D = \{\text{la carta è una figura oppure una carta nera}\}.$

(a) Considerando i casi favorevoli su quelli possibili:

$$P(A) = \frac{4}{52} = \frac{1}{13};$$

(b) Nuovamente

$$P(B) = \frac{12}{52} = \frac{3}{13};$$

(c) Definiamo i due eventi

$$\begin{aligned} C_1 &= \{\text{la carta è un Jack nero}\} \\ C_2 &= \{\text{la carta è un King rosso}\} \end{aligned}$$

che sono mutuamente esclusivi, pertanto

$$P(C) = P(C_1 \cup C_2) = P(C_1) + P(C_2) = \frac{2}{52} + \frac{2}{52} = \frac{1}{13}.$$

(d) Definiamo i due eventi

$$\begin{aligned} D_1 &= \{\text{la carta è una figura}\} \\ D_2 &= \{\text{la carta è una carta nera}\} \end{aligned}$$

che non sono mutuamente esclusivi, pertanto

$$P(D) = P(D_1 \cup D_2) = P(D_1) + P(D_2) - P(D_1 \cap D_2) = \frac{3}{13} + \frac{1}{2} - \frac{3}{26} = \frac{8}{13}. \quad \square$$

Esempio 6.2.5 *Una battaglia navale si gioca su una scacchiera di 8×8 quadrati. La flotta dell'avversario è composta da una nave da 6 quadrati, una da 4 e una da due quadrati.*

- (a) *Calcolare la probabilità di colpire una nave avversaria con il primo colpo della partita.*
- (b) *Supponendo di aver colpito una nave avversaria calcolare la probabilità che sia stata colpita la nave più lunga.*

(a) Definito l'evento

$$A = \{\text{Il primo colpo ha colpito un bersaglio}\}$$

gli eventi favorevoli sono 12, ovvero il numero di quadrati che sono occupati dalle navi avversarie, il numero di quadrati della scacchiera è 64 pertanto

$$P(A) = \frac{12}{64} = \frac{3}{16}.$$

(b) Definito l'evento

$$B = \left\{ \text{È stata colpita la nave più lunga} \right\}$$

gli eventi favorevoli sono 6, ovvero il numero di quadrati della nave più lunga, mentre il numero di quadrati della scacchiera occupati dalle navi è 12 pertanto

$$P(B) = \frac{6}{12} = \frac{1}{2}. \quad \square$$

6.3 Metodi di enumerazione

In questo paragrafo consideriamo alcuni risultati di calcolo combinatorio che consentono di determinare, per alcuni esperimenti casuali, il numero di casi favorevoli. Supponiamo che una procedura, designata con 1, possa essere effettuata in n_1 modi diversi. Assumiamo inoltre che una seconda procedura, denotata con 2, possa essere effettuata in n_2 modi diversi. Allora la procedura consistente in 1 seguita da 2 può essere effettuata in $n_1 n_2$ modi diversi. Tale proprietà prende il nome di **Principio di moltiplicazione**.

Esempio 6.3.1 *Determinare il numero di targhe italiane che possono essere assegnate dalla motorizzazione civile.*

Una targa italiana è composta da 2 lettere, 3 cifre e 2 lettere. Il numero di possibili lettere sarebbe 26, mentre le cifre possono essere 10. Applicando il principio di moltiplicazione risulta

$$N_{\text{targhe}} = 26^4 \cdot 10^3 = 456976000.$$

Se volessimo sapere il numero di targhe che hanno come prima lettera la vocale **A** sarebbe

$$N_A = 26^3 \cdot 10^3 = 17576000.$$

In realtà dalle possibili lettere sono escluse le vocali **I**, **O** e **U** e la consonante **Q**, che potrebbero essere confuse con altre lettere pertanto il numero effettivo è

$$N_{\text{targhe}} = 22^4 \cdot 10^3 = 234256000.$$

Supponiamo ora di avere n differenti oggetti. Vogliamo trovare il numero P_n di modi in cui possono essere disposti tali oggetti. Possiamo idealizzare tale situazione pensando in quanti modi possiamo riporre tali oggetti in una scatola che è divisa esattamente in n scomparti indipendenti. Nel primo scomparto abbiamo n possibilità di scelta, nel secondo ne abbiamo $n - 1$ e così via fino all'ultimo in cui abbiamo una sola scelta. Applicando il principio di moltiplicazione appena enunciato possiamo dire che abbiamo esattamente $n!$ modi di poter disporre tali oggetti

$$P_n = n!.$$

Tale numero prende il nome di **Permutazioni**.

Supponiamo di avere ancora n oggetti ma di doverne scegliere r , $r < n$, e di permutare tali oggetti. Indichiamo con $D_{n,r}$ il numero di modi in cui ciò può essere fatto. Ripetiamo la procedura della scatola ma in questo caso ci fermiamo all' r -esimo scomparto. Applicando ancora una volta il principio di moltiplicazione abbiamo

$$D_{n,r} = n(n-1)(n-2)\dots(n-r+1)$$

che può essere scritta anche come

$$D_{n,r} = \frac{n!}{(n-r)!}.$$

Nel calcolo combinatorio se n ed r sono due numeri interi positivi si definisce **Disposizione di n oggetti presi r alla volta** ogni sottoinsieme ordinato di r oggetti, in cui i sottoinsiemi differiscono se presentano gli stessi elementi ma in ordine diverso oppure contengono qualche elemento diverso. Per esempio con le 4 lettere A, B, C, D si possono comporre

$$D_{4,3} = \frac{4!}{(4-3)!} = 24$$

gruppi da tre lettere

ABC ACD ABD ACB ADC ADB
BAC BAD BCD BCA BDA BDC
CAB CAD CBD CBA CDA CDB
DAB DAC DBC DBA DCA DCB.

Consideriamo nuovamente n oggetti ma questa volta vogliamo sapere in quanti modi possiamo scegliere r oggetti senza riguardo all'ordine. In altre parole non contiamo scelte composte dagli stessi oggetti disposti in modo differente. Abbiamo visto che il numero di modi di scegliere r oggetti è $n!/(n-r)!$. Sia $C_{n,r}$ il numero che intendiamo calcolare. Notiamo che una volta scelti r oggetti, ci sono $r!$ modi di permutarli. Quindi applicando nuovamente il principio di moltiplicazione abbiamo

$$C_{n,r}r! = \frac{n!}{(n-r)!}.$$

Così il numero cercato, che prende il nome di **combinazioni** di n oggetti su r posti, è proprio

$$C_{n,r} = \frac{n!}{r!(n-r)!} = \binom{n}{r},$$

ovvero il cosiddetto **coefficiente binomiale**.

Facendo riferimento all'esempio precedente bisogna escludere tutti i gruppi composti dalle stesse lettere ottenendo, alla fine solo

$$C_{4,3} = 4$$

combinazioni possibili:

ABC ACD ABD BCD.

Esempio 6.3.2 *Sul tavolo ci sono 9 carte coperte, due di cuori, tre di fiori e quattro di picche. Calcolare la probabilità che, scelte simultaneamente 2 carte a caso, siano di seme diverso.*

In questo caso risulta più semplice determinare la probabilità che il seme delle due carte sia lo stesso e poi quella dell'evento complementare. Consideriamo i seguenti due eventi

$$\begin{aligned} A &= \{\text{sono estratte due carte di cuori}\}; \\ B &= \{\text{sono estratte due carte di fiori}\}; \\ C &= \{\text{sono estratte due carte di picche}\}. \end{aligned}$$

Lo spazio campione S è costituito da tutti i possibili modi per scegliere, in modo non ordinato, due carte da un insieme di nove, ovvero

$$|S| = \binom{9}{2} = 36.$$

Il numero di casi favorevoli connessi all'evento A è 1, quindi

$$P(A) = \frac{1}{36}.$$

Il numero di casi favorevoli connessi all'evento B è

$$\binom{3}{2} = 3$$

quindi

$$P(B) = \frac{3}{36},$$

mentre il numero di casi favorevoli connessi all'evento C è

$$\binom{4}{2} = 6$$

di conseguenza

$$P(C) = \frac{6}{36}.$$

Calcoliamo la probabilità che le due carte abbiano lo stesso seme,

$$P(A \cup B \cup C) = P(A) + P(B) + P(C) = \frac{1}{36} + \frac{3}{36} + \frac{6}{36} = \frac{5}{18}.$$

La probabilità richiesta è quella dell'evento complementare

$$P(\overline{A \cup B \cup C}) = 1 - \frac{5}{18} = \frac{13}{18}. \quad \square$$

Esempio 6.3.3 *Vogliamo calcolare la probabilità di vincere al Superenalotto giocando 6 numeri.*

Il numero di casi favorevoli è solo uno, la sestina giocata. Il numero di possibili giocate è pari al numero di combinazioni di 90 numeri su 6 posti, ovvero

$$C_{90,6} = \binom{90}{6} = \frac{90!}{6!84!} = 622614630.$$

La probabilità cercata è il reciproco di tale numero.

6.4 Probabilità condizionata

Consideriamo il seguente esempio. Supponiamo di avere 100 oggetti dello stesso tipo dei quali 80 sono funzionanti e 20 difettosi. Supponiamo di scegliere due di questi oggetti in due modi differenti:

- a) con restituzione;
- b) senza restituzione.

Consideriamo i seguenti due eventi

$$\begin{aligned} A &= \{\text{il primo articolo è difettoso}\}; \\ B &= \{\text{il secondo articolo è difettoso}\}. \end{aligned}$$

Nel caso con modalità a) la probabilità degli eventi A e B è la stessa ed è pari ad $1/5$ in quanto gli eventi avvengono nelle stesse modalità ed i casi favorevoli sono sempre 20 su 100.

Nel caso con modalità b) $P(A) = 1/5$ ma non possiamo dire nulla su $P(B)$ poichè per calcolare tale valore dovremmo sapere la composizione dello spazio campione quando viene scelto il secondo oggetto. Se infatti il primo articolo è risultato difettoso allora

$$P(B) = \frac{19}{99}$$

mentre se il primo articolo non lo era allora

$$P(B) = \frac{20}{99}.$$

Questo esempio rende chiaro che è importante introdurre un altro concetto fondamentale. Siano A e B due eventi associati allo spazio campione S non mutuamente esclusivi (ovvero $A \cap B \neq \emptyset$). Si denota con $P(B/A)$ la probabilità condizionata dell'evento B una volta che si è verificato l'evento A . Quindi se $P(B)$ indica la probabilità dell'evento B rispetto all'intero spazio campione S , allora $P(B/A)$ indica la probabilità dell'evento B rispetto allo spazio campione costituito dal solo evento A . Nell'esempio visto in precedenza è

$$P(B/A) = \frac{19}{99}. \quad \square$$

Per definizione è

$$P(B/A) = \frac{P(A \cap B)}{P(A)}, \quad (6.1)$$

purchè sia $P(A) > 0$. Per motivare tale definizione torniamo al concetto di frequenza relativa. Supponiamo che un esperimento \mathcal{E} venga ripetuto n volte. Siano n_A , n_B ed $n_{A \cap B}$ il numero di volte che si sono verificati gli eventi A , B e $A \cap B$. Il rapporto $n_{A \cap B}/n_A$ rappresenta la frequenza relativa dell'evento B rispetto alle volte in cui si è verificato A . In altre parole $n_{A \cap B}/n_A$ rappresenta la frequenza relativa condizionata di B una volta che l'evento A si è verificato. Pertanto definendo la frequenza relativa $f_{B/A}$ come modo:

$$f_{B/A} = \frac{n_{A \cap B}}{n_A}$$

$$f_{B/A} = \frac{n_{A \cap B}/n}{n_A/n} = \frac{f_{A \cap B}}{f_A}.$$

Passando al limite per $n \rightarrow \infty$ segue la (6.1). In realtà la relazione (6.1) non può essere considerato un teorema nè tantomeno un assioma, ma bensì una formale definizione della nozione (intuitiva) di probabilità condizionata. La probabilità condizionata gode delle seguenti proprietà:

1. $0 \leq P(B/A) \leq 1$;
2. $P(S/A) = 1$;
3. $P(B_1 \cup B_2/A) = P(B_1/A) + P(B_2/A)$, se $B_1 \cap B_2 = \emptyset$;
4. $P(B_1 \cup B_2 \cup \dots \cup B_k/A) = P(B_1/A) + P(B_2/A) + \dots + P(B_k/A)$, se $B_i \cap B_j = \emptyset$ quando $i \neq j$.
5. Se gli eventi A e B sono mutuamente esclusivi allora

$$P(A/B) = P(B/A) = 0.$$

Dalla definizione deriva anche un modo per calcolare la probabilità dell'evento intersezione:

$$P(A \cap B) = P(A/B)P(B) = P(B/A)P(A). \quad (6.2)$$

Il teorema della probabilità totale

Consideriamo la seguente definizione.

Definizione 6.4.1 Si dice che gli eventi B_1, B_2, \dots, B_k rappresentano una partizione dello spazio campione S se

1. $B_i \cap B_j = \emptyset$ per ogni $i \neq j$;

2. $\bigcup_{i=1}^k B_i = S$;

3. $P(B_i) > 0$, per ogni i .

Uno dei risultati più importanti nell'applicazione delle probabilità condizionate è il seguente teorema

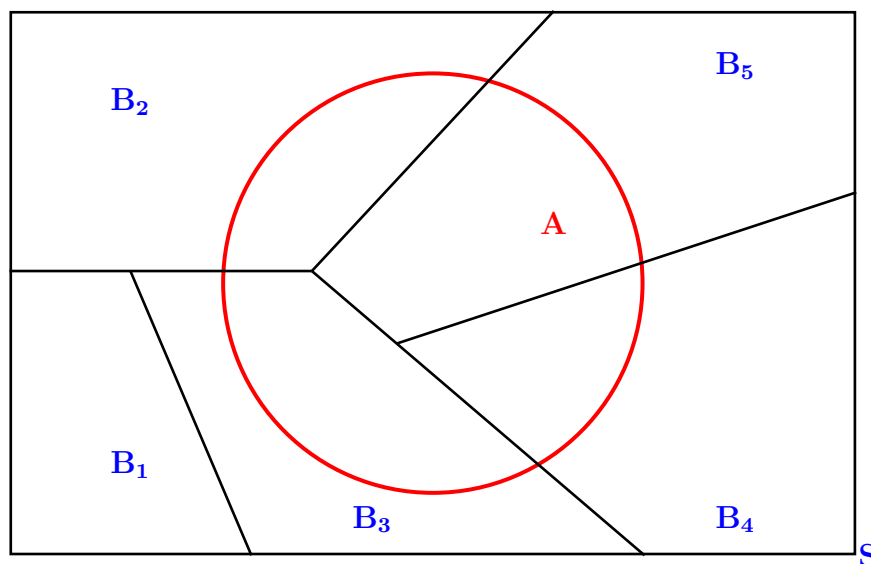
Teorema 6.4.1 (della probabilità totale) Sia A un evento dello spazio campione S e B_1, B_2, \dots, B_k una partizione del medesimo spazio. Allora

$$P(A) = \sum_{i=1}^k P(A \cap B_i) = \sum_{i=1}^k P(A/B_i)P(B_i).$$

L'evento A può essere scritto come:

$$A = (A \cap B_1) \cup (A \cap B_2) \cup \dots \cup (A \cap B_k),$$

come si evince dalla seguente figura:



Gli eventi $A \cap B_i$ sono tra loro mutuamente esclusivi quindi

$$P(A) = P(A \cap B_1) + P(A \cap B_2) + \dots + P(A \cap B_k),$$

Applicando la proprietà (6.2)

$$P(A \cap B_i) = P(A/B_i)P(B_i), \quad i = 1, \dots, k$$

segue la tesi. \square

Un altro importante risultato legato alla probabilità condizionata è il seguente.

Teorema 6.4.2 (di Bayes) *Se B_1, B_2, \dots, B_k rappresenta una partizione dello spazio campione S ed A è un evento di S allora:*

$$P(B_i/A) = \frac{P(A/B_i)P(B_i)}{P(A)} = \frac{P(A/B_i)P(B_i)}{\sum_{j=1}^k P(A/B_j)P(B_j)}$$

Dimostrazione. Segue dalla relazione (6.2) con $B = B_i$ e applicando il Teorema della probabilità totale. \square

Osservazione. La probabilità calcolata nel Teorema di Bayes è detta anche **Probabilità a posteriori** di un evento in quanto è la probabilità condizionata assegnata dopo che un'informazione rilevante posta in evidenza è stata considerata.

Esempio 6.4.1 *Nel lancio di due dadi non truccati la somma dei risultati è un numero pari. Quanto vale la probabilità di aver totalizzato 8?*

Definiamo i seguenti eventi:

$$\begin{aligned} A &= \{\text{La somma dei risultati è } 8\} \\ B &= \{\text{La somma dei risultati è pari}\}. \end{aligned}$$

Considerando il numero complessivo dei risultati possibili (ovvero 36) ed il numero di casi favorevoli abbiamo

$$A = \{(2, 6), (3, 5), (4, 4), (5, 3), (6, 2)\}$$

pertanto

$$P(A) = \frac{5}{36}, \quad P(B) = \frac{1}{2}.$$

Quella che vogliamo determinare è la probabilità condizionata

$$P(A/B) = \frac{P(A \cap B)}{P(B)} = \frac{P(A)}{P(B)} = \frac{5}{36} \cdot 2 = \frac{5}{18}. \square$$

Esempio 6.4.2 Consideriamo tre fabbriche delle quali la prima produce in una giornata il doppio di manufatti della seconda mentre le altre due producono lo stesso numero di articoli. La probabilità che un articolo prodotto dalle prime due fabbriche sia difettoso è pari al 2% mentre per la terza è uguale al 4%. Immagazzinati insieme tutti gli articoli prodotti in un giorno si vuol calcolare la probabilità che, preso un articolo a caso, questo sia difettoso.

Definiamo i seguenti eventi:

$$\begin{aligned} A &= \{\text{L'articolo è difettoso}\} \\ B_i &= \{\text{L'articolo proviene dalla } i\text{-esima fabbrica}\}, \quad i = 1, 2, 3. \end{aligned}$$

Applicando il teorema della probabilità totale la probabilità cercata è data dalla seguente formula:

$$P(A) = P(A/B_1)P(B_1) + P(A/B_2)P(B_2) + P(A/B_3)P(B_3).$$

In base ai dati del problema possiamo facilmente calcolare le probabilità richieste:

$$\begin{aligned} P(B_1) &= \frac{1}{2}, \quad P(B_2) = \frac{1}{4}, \quad P(B_3) = \frac{1}{4}, \\ P(A/B_1) &= 0.02 = \frac{1}{50}, \quad P(A/B_2) = 0.02 = \frac{1}{50}, \quad P(A/B_3) = 0.04 = \frac{2}{50}. \end{aligned}$$

Possiamo ora calcolare $P(A)$:

$$P(A) = \frac{1}{50} \cdot \frac{1}{2} + \frac{1}{50} \cdot \frac{1}{4} + \frac{2}{50} \cdot \frac{1}{4} = \frac{1}{50} \cdot \frac{5}{4} = \frac{1}{40}.$$

Supponiamo ora di voler calcolare la probabilità che, avendo scelto un articolo ed avendolo trovato difettoso, questo sia stato prodotto nella prima fabbrica. In breve si vuole calcolare la probabilità $P(B_1/A)$. In questo caso è possibile applicare il Teorema di Bayes

$$P(B_1/A) = \frac{P(A/B_1)P(B_1)}{P(A)} = \frac{\frac{1}{50} \cdot \frac{1}{2}}{\frac{1}{40}} = \frac{40}{100} = \frac{2}{5} \square$$

Esempio 6.4.3 *Una squadra di calcio quando gioca in casa ha probabilità di vincere pari a 0.5, di pareggiare 0.3, di perdere 0.2. Ogni volta che vince o pareggia viene issata una bandiera davanti al club degli ultras. Sapendo che la bandiera è stata issata calcolare la probabilità che la squadra abbia vinto.*

Definiamo i seguenti eventi

$$\begin{aligned} V &= \{\text{La squadra ha vinto}\} \\ P &= \{\text{La squadra ha pareggiato}\} \\ S &= \{\text{La squadra ha perso}\} \\ B &= \{\text{La bandiera è stata issata}\}. \end{aligned}$$

Sappiamo che

$$P(V) = 0.5 \qquad P(P) = 0.3 \qquad P(S) = 0.2$$

e

$$P(B) = 0.8$$

poichè

$$B = V \cup P.$$

La probabilità che vogliamo determinare è $P(V/B)$. Applicando il Teorema di Bayes

$$P(V/B) = \frac{P(V)}{P(B)} = 0.625.$$

in quanto $V = V \cap B$. \square

Esempio 6.4.4 *Giuseppe partecipa ad un torneo di scacchi dove giocherà 4 partite. Ad ogni partita si estrae a sorte (con una moneta non truccata) chi gioca con i pezzi bianchi.*

(a) *Qual è la probabilità che Giuseppe giochi almeno una partita con il nero? E che giochi tutte le partite con il nero?*

(b) *Giuseppe sa che se gioca col bianco ha il 20% di probabilità di perdere ed il 50% di pareggiare mentre con il nero ha il 50% di perdere e il 40% di pareggiare. Giuseppe vince la prima partita: qual è la probabilità che abbia giocato con il nero?*

(a) Nel primo quesito si deve calcolare il rapporto tra casi favorevoli e casi possibili (16 nel caso specifico, applicando il principio di moltiplicazione). Definiti gli eventi

$$\begin{aligned} N_1 &= \{\text{Giuseppe gioca almeno una partita con il nero}\} \\ N_4 &= \{\text{Giuseppe gioca tutte le partite con il nero}\} \end{aligned}$$

risulta

$$P(N_1) = \frac{15}{16}, \quad P(N_4) = \frac{1}{16}.$$

(b) Definiamo i seguenti eventi

$$\begin{aligned} N &= \{\text{Giuseppe ha giocato la partita con il nero}\} \\ B &= \{\text{Giuseppe ha giocato la partita con il bianco}\} \\ V &= \{\text{Giuseppe ha vinto la partita}\}. \end{aligned}$$

Sappiamo che

$$P(V/B) = \frac{3}{10}, \quad P(V/N) = \frac{1}{10} \quad P(N) = P(B) = \frac{1}{2}.$$

Applicando il Teorema della probabilità totale possiamo calcolare $P(V)$:

$$P(V) = P(V/B)P(B) + P(V/N)P(N) = \frac{3}{10} \frac{1}{2} + \frac{1}{10} \frac{1}{2} = \frac{1}{5},$$

e, applicando il Teorema di Bayes, la probabilità condizionata

$$P(N/V) = \frac{P(V/N)P(N)}{P(V)} = \frac{1}{10} \frac{1}{2} \left(\frac{1}{5}\right)^{-1} = \frac{1}{4}. \quad \square$$

Esempio 6.4.5 *Si utilizza un prodotto fornito in uguale percentuale da due ditte, A e B. È stato calcolato che, scelto a caso un prodotto difettoso, la probabilità che sia stato prodotto dalla ditta A vale 0.25. Se la ditta A ha una probabilità di produrre un pezzo difettoso pari a 0.05 si vuole conoscere l'analoga probabilità per B.*

Definiamo i seguenti eventi

$$\begin{aligned} A &= \{\text{L'articolo è prodotto dalla ditta A}\} \\ B &= \{\text{L'articolo è prodotto dalla ditta B}\} \end{aligned}$$

che sono

$$P(A) = P(B) = \frac{1}{2}.$$

Definiamo ora un terzo evento

$$D = \{\text{L'articolo è difettoso}\}$$

per il quale conosciamo la probabilità condizionate

$$P(D/A) = 0.05, \quad P(A/D) = 0.25$$

mentre vogliamo conoscere la probabilità $P(D/B)$. Applicando il Teorema di Bayes e successivamente, il Teorema della probabilità totale risulta

$$\begin{aligned} P(A/D) &= \frac{P(D/A)P(A)}{P(D)} \\ &= \frac{P(D/A)P(A)}{P(D/A)P(A) + P(D/B)P(B)}. \end{aligned}$$

Sostituendo i valori noti risulta

$$0.25 = \frac{0.05 \cdot 0.5}{0.05 \cdot 0.5 + P(D/B)0.5}$$

da cui, semplificando il secondo addendo per 0.5 risulta

$$0.25 = \frac{0.05}{0.05 + P(D/B)}$$

e quindi

$$P(D/B) = \frac{0.05}{0.25} - 0.05 = 0.15. \quad \square$$

Esempio 6.4.6 *L'urna A contiene 2 palline bianche e 3 nere, l'urna B ne contiene 4 bianche e 1 nera, l'urna C 3 bianche e 2 nere. Si sceglie a caso un'urna e si estrae una pallina bianca. Calcolare la probabilità che essa provenga dall'urna C.*

Definiamo i seguenti eventi

$$\begin{aligned} A &= \{\text{L'urna scelta è } A\} \\ B &= \{\text{L'urna scelta è } B\} \\ C &= \{\text{L'urna scelta è } C\} \end{aligned}$$

e supponiamo che la probabilità di scegliere un'urna sia la stessa per tutte le urne. Definiamo inoltre l'evento

$$D = \{\text{La pallina estratta è bianca}\}$$

del quale possiamo calcolare la probabilità applicando il Teorema della probabilità totale

$$P(D) = P(D/A)P(A) + P(D/B)P(B) + P(D/C)P(C)$$

infatti

$$P(D/A) = \frac{2}{5}, \quad P(D/B) = \frac{4}{5}, \quad P(D/C) = \frac{3}{5}$$

$$P(D) = \frac{1}{3} \left(\frac{2}{5} + \frac{4}{5} + \frac{3}{5} \right) = \frac{3}{5}.$$

Per determinare la probabilità voluta applichiamo il Teorema di Bayes

$$P(C/D) = \frac{P(D/C)P(C)}{P(D)} = \frac{1}{3}. \quad \square$$

Esempio 6.4.7 *Il responsabile marketing di una società che produce giocattoli sta analizzando la probabilità di successo sul mercato di un nuovo gioco. Dall'esperienza passata è noto che il 65% dei giocattoli ha avuto successo mentre il 35% non ha avuto successo. Si sa inoltre che l'80% dei giocattoli di successo avevano ricevuto un giudizio positivo dagli esperti prima dell'immissione del prodotto sul mercato mentre lo stesso giudizio era stato attribuito solo al 30% dei giocattoli che si sarebbero rivelati un insuccesso. Il responsabile è interessato a calcolare la probabilità che il nuovo giocattolo sia un successo sapendo che gli esperti lo hanno valutato positivamente.*

Definiamo i seguenti eventi

$$\begin{aligned} S &= \{\text{Il giocattolo ha successo}\} \\ \bar{S} &= \{\text{Il giocattolo non ha successo}\} \\ P &= \{\text{Il giudizio degli esperti è stato positivo}\} \\ N &= \{\text{Il giudizio degli esperti è stato negativo}\}. \end{aligned}$$

Sono note le seguenti probabilità

$$P(S) = 0.65, \quad P(\bar{S}) = 0.35, \quad P(P/S) = 0.8, \quad P(P/\bar{S}) = 0.3.$$

Vogliamo calcolare $P(S/P)$. Applicando il Teorema della probabilità totale possiamo calcolare $P(P)$:

$$P(P) = P(P/S)P(S) + P(P/\bar{S})P(\bar{S}) = 0.8 \cdot 0.65 + 0.3 \cdot 0.35 = 0.625$$

e, applicando il Teorema di Bayes, la probabilità condizionata

$$P(S/P) = \frac{P(P/S)P(S)}{P(P)} = \frac{0.8 \cdot 0.65}{0.625} = 0.832. \quad \square$$

Esempio 6.4.8 *Sul tavolo ci sono due mazzi di carte. Il mazzo A è completo e ha 52 carte, invece dal mazzo B sono state tolte le figure. Si estrae una carta a caso da uno dei due mazzi ed è un asso. Qual è la probabilità che sia stato estratto dal mazzo B.*

La probabilità di scegliere il mazzo è la stessa

$$P(A) = P(B) = \frac{1}{2}$$

dove

$$\begin{aligned} A &= \{\text{Il mazzo scelto è } A\} \\ B &= \{\text{Il mazzo scelto è } B\}, \end{aligned}$$

se

$$C = \{\text{La carta estratta è un asso}\}$$

allora

$$P(C/A) = \frac{1}{13}, \quad P(C/B) = \frac{1}{10}.$$

Applicando il Teorema di Bayes

$$P(B/C) = \frac{P(C/B)P(B)}{P(C/A)P(A) + P(C/B)P(B)} = \frac{13}{23}. \quad \square$$

Esempio 6.4.9 *In una cassetta della frutta, indicata con A, ci sono 30 frutti di cui 25 maturi e 5 acerbi, invece nella cassetta della frutta indicata con B, ci sono 14 frutti di cui 11 maturi e 3 acerbi. Si preleva un frutto da A e viene messo in B. Si prende poi un frutto anche da B. Calcolare la probabilità che il frutto preso da B sia lo stesso che era in A sapendo che è acerbo.*

Definiamo i seguenti eventi

$$\begin{aligned} A_1 &= \{\text{Il frutto preso da A è maturo}\} \\ A_2 &= \{\text{Il frutto preso da A è acerbo}\}. \end{aligned}$$

Sappiamo che

$$P(A_1) = \frac{5}{6}, \quad P(A_2) = \frac{1}{6}.$$

Definiamo ora un altro evento

$$C = \{\text{Il frutto preso da } B \text{ è acerbo}\}.$$

Le probabilità condizionate sono

$$P(C/A_1) = \frac{3}{15}, \quad P(C/A_2) = \frac{4}{15}.$$

e, applicando il Teorema della probabilità totale

$$P(C) = P(C/A_1)P(A_1) + P(C/A_2)P(A_2) = \frac{19}{90}.$$

Se

$$D = \{\text{Il frutto preso da } B \text{ è lo stesso preso da } A\}.$$

possiamo calcolare la probabilità a posteriori applicando il Teorema di Bayes

$$P(D/C) = \frac{P(C/D)P(D)}{P(C)} = \frac{1}{6} \frac{1}{15} \left(\frac{19}{90}\right)^{-1} = \frac{1}{19}$$

avendo applicato la proprietà che $P(C/D) = P(A_2)$. \square

Esempio 6.4.10 *Un'urna contiene una pallina nera e due palline bianche. Si estrae casualmente una pallina dall'urna e, dopo averne osservato il colore, viene rimessa nell'urna aggiungendo due palline del colore di quella estratta e tre palline del colore non estratto. Calcolare la probabilità che in 4 estrazioni successive, effettuate secondo la regola sopra descritta, si ottenga la stringa BNNB.*

Definiamo i seguenti eventi

$$B_i = \{\text{Si estrae una pallina bianca all}'i\text{-esima estrazione}\} \quad i = 1, \dots, 4$$

$$N_i = \{\text{Si estrae una pallina nera all}'i\text{-esima estrazione}\} \quad i = 1, \dots, 4.$$

Dopo ogni estrazione cambia lo spazio campione e, se gli esiti delle estrazioni seguono la sequenza stabilita $B_1N_2N_3B_4$ il numero di palline bianche e nere può essere riassunto nella seguente tabella:

Estrazione	Palline nere	Palline bianche
1	1	2
2	4	4
3	6	7
4	8	10

Calcoliamo le probabilità condizionate della sequenza voluta:

$$P(B_1) = \frac{2}{3}$$

$$P(N_2/B_1) = \frac{1}{2}$$

$$P(N_3/B_1 \cap N_2) = \frac{6}{13}$$

$$P(B_4/B_1 \cap N_2 \cap N_3) = \frac{10}{18} = \frac{5}{9}.$$

La probabilità cercata è

$$\begin{aligned} P(B_4 \cap N_3 \cap N_2 \cap B_1) &= P(B_4/N_3 \cap N_2 \cap B_1)P(N_3 \cap N_2 \cap B_1) \\ &= P(B_4/N_3 \cap N_2 \cap B_1)P(N_3/N_2 \cap B_1)P(N_2 \cap B_1) \\ &= P(B_4/N_3 \cap N_2 \cap B_1)P(N_3/N_2 \cap B_1)P(N_2/B_1)P(B_1) \\ &= \frac{5}{9} \frac{6}{13} \frac{1}{2} \frac{2}{3} = \frac{10}{117}. \quad \square \end{aligned}$$

Esempio 6.4.11 *Al primo turno delle elezioni in un piccolo paese il partito A ha ottenuto il 45% dei voti mentre il partito B ha ottenuto il 55% dei voti. Dopo due settimane si ripetono le votazioni con gli stessi votanti, e, in base ai sondaggi si scopre che:*

1. *il 10% di coloro che avevano votato A hanno spostato il voto su B;*
2. *il 20% dei vecchi elettori di B ha votato A.*

Determinare chi ha vinto il secondo turno in base ai sondaggi.

Definiamo i seguenti eventi

$$\begin{aligned} A_1 &= \{\text{Voto per A al primo turno}\} \\ B_1 &= \{\text{Voto per B al primo turno}\} \\ A_2 &= \{\text{Voto per A al secondo turno}\} \\ E &= \{\text{Voto al primo turno diverso da quello al secondo turno.}\} \end{aligned}$$

Sappiamo che

$$\begin{aligned} P(A_1) &= 0.45, & P(B_1) &= 0.55 \\ P(E/A_1) &= 0.10, & P(E/B_1) &= 0.20 \end{aligned}$$

quindi la probabilità che un elettore abbia votato al secondo turno per A sapendo che al primo ha votato A è

$$P(\bar{E}/A_1) = 0.90.$$

L'evento A_2 può essere scritto come

$$A_2 = (\bar{E} \cap A_1) \cup (E \cap B_1)$$

e quindi

$$\begin{aligned} P(A_2) &= P(\bar{E} \cap A_1) + P(E \cap B_1) \\ &= P(\bar{E}/A_1)P(A_1) + P(E/B_1)P(B_1) \\ &= 0.90 \cdot 0.45 + 0.20 \cdot 0.55 = 0.515. \end{aligned}$$

Quindi secondo i sondaggi il partito A ha vinto il secondo turno. \square

6.4.1 Eventi indipendenti

Consideriamo il seguente esempio.

Consideriamo come esperimento il lancio di un dado due volte e definiamo i seguenti eventi

$$\begin{aligned} A &= \{\text{Il risultato del primo lancio è un numero pari}\} \\ B &= \{\text{Il risultato del secondo lancio è 5 o 6}\}, \end{aligned}$$

allora

$$\begin{aligned} P(A) &= \frac{1}{2}, & P(B) &= \frac{1}{3} \\ P(A \cap B) &= \frac{6}{36} = \frac{1}{6}, \end{aligned}$$

infatti

$$A \cap B = \{(2, 5), (4, 5), (6, 5), (2, 6), (4, 6), (6, 6)\}.$$

Calcoliamo le probabilità condizionate

$$\begin{aligned} P(A/B) &= \frac{P(A \cap B)}{P(B)} = \frac{1}{2} = P(A) \\ P(B/A) &= \frac{P(A \cap B)}{P(A)} = \frac{1}{3} = P(B). \end{aligned}$$

I due eventi non sono correlati, quindi possiamo fornire la seguente condizione di indipendenza tra due eventi:

$$\begin{aligned}P(A \cap B) &= P(A/B)P(B) = P(A)P(B); \\P(A \cap B) &= P(B/A)P(A) = P(A)P(B).\end{aligned}$$

Definizione 6.4.2 Due eventi A e B si dicono *indipendenti* se $P(A \cap B) = P(A)P(B)$.

Esempio 6.4.12 Da un mazzo di 52 carte se ne estrae una a caso. Gli eventi

$$\begin{aligned}A &= \{\text{La carta estratta è una figura}\} \\B &= \{\text{La carta estratta è di fiori}\}\end{aligned}$$

sono indipendenti?

Calcoliamo le probabilità dei due eventi:

$$P(A) = \frac{12}{52}, \quad P(B) = \frac{13}{52}$$

e dell'evento intersezione

$$P(A \cap B) = \frac{3}{52}.$$

Il prodotto tra le probabilità vale

$$P(A)P(B) = \frac{12}{52} \frac{13}{52} = \frac{3}{52}$$

quindi gli eventi sono effettivamente indipendenti. \square

Esempio 6.4.13 Un arciere deve colpire un bersaglio delimitato da tre circonferenze concentriche. Se colpisce il cerchio centrale ottiene 50 punti mentre le due corone circolari portano 20 e 10 punti rispettivamente. Se manca il bersaglio non ottiene punti. La probabilità di colpire una delle tre parti del bersaglio è uguale all'inverso del punteggio relativo.

(a) Calcolare la probabilità di mancare il bersaglio;

(b) Calcolare se, avendo scoccato tre frecce, sia più probabile ottenere 50 punti colpendo una volta la parte centrale del bersaglio e mancandolo le altre due volte oppure colpendo 2 volte la parte da 20 punti e una volta quella da 10.

(a) Calcoliamo la probabilità di centrare il bersaglio che è pari alla somma delle probabilità di colpire ognuna delle tre parti:

$$P(\{\text{Il bersaglio viene colpito}\}) = \frac{1}{10} + \frac{1}{20} + \frac{1}{50} = \frac{17}{100},$$

quindi

$$P(\{\text{Il bersaglio viene mancato}\}) = 1 - \frac{17}{100} = \frac{83}{100}.$$

(b) Definiamo i seguenti eventi

$$\begin{aligned} A_i &= \{\text{Si ottengono 50 punti all}'i\text{-esimo colpo}\} \\ B_i &= \{\text{Il bersaglio viene mancato all}'i\text{-esimo colpo}\} \end{aligned}$$

Indicato con A l'evento *si sono ottenuti 50 punti colpendo una volta il bersaglio centrale* risulta

$$A = (A_1 \cap B_2 \cap B_3) \cup (B_1 \cap A_2 \cap B_3) \cup (B_1 \cap B_2 \cap A_3).$$

I tre eventi sono mutuamente esclusivi e hanno la stessa probabilità

$$P(A_1 \cap B_2 \cap B_3) = \frac{1}{50} \left(\frac{83}{100} \right)^2$$

e quindi

$$P(A) \simeq 0.041.$$

Definiamo ora i seguenti eventi

$$\begin{aligned} C_i &= \{\text{Si ottengono 10 punti all}'i\text{-esimo colpo}\} \\ D_i &= \{\text{Si ottengono 20 punti all}'i\text{-esimo colpo}\} \end{aligned}$$

Indicato con B l'evento *si sono ottenuti 50 punti colpendo una volta il bersaglio da 10 e due volte quello da 20*

$$B = (C_1 \cap D_2 \cap D_3) \cup (D_1 \cap C_2 \cap D_3) \cup (D_1 \cap D_2 \cap C_3).$$

I tre eventi hanno la stessa probabilità

$$P(C_1 \cap D_2 \cap D_3) = \frac{1}{10} \left(\frac{1}{20} \right)^2$$

e quindi

$$P(A) = 0.00075. \quad \square$$

Esempio 6.4.14 *Matteo lancia una moneta due volte. Luca lancia una moneta 4 volte. Determinare la probabilità che Matteo e Luca ottengano lo stesso numero di teste.*

Definiamo i seguenti eventi

$$\begin{aligned} M_i &= \{\text{Matteo ha ottenuto } i \text{ teste}\} \\ L_i &= \{\text{Luca ha ottenuto } i \text{ teste}\} \\ A_i &= M_i \cap L_i, \end{aligned}$$

per $i = 0, 1, 2$. Gli eventi A_i sono mutuamente esclusivi quindi, detto A l'evento del quale dobbiamo calcolare la probabilità, risulta

$$A = \bigcup_{i=0}^2 A_i$$

per cui

$$\begin{aligned} P(A) &= \sum_{i=0}^2 P(A_i) = \sum_{i=0}^2 P(M_i)P(L_i). \\ P(M_0) &= \frac{1}{4}, & P(L_0) &= \frac{1}{16}, & P(A_0) &= \frac{1}{64} \\ P(M_1) &= \frac{1}{2}, & P(L_1) &= \frac{1}{4}, & P(A_1) &= \frac{1}{8} \\ P(M_2) &= \frac{1}{4}, & P(L_2) &= \frac{6}{16}, & P(A_2) &= \frac{6}{64} \end{aligned}$$

pertanto

$$P(A) = \frac{1}{64} + \frac{1}{8} + \frac{6}{64} = \frac{15}{64}. \quad \square$$

6.5 Esercizi di riepilogo

Esercizio 6.5.1 *In una scarpiera ci sono 4 paia di scarpe. In quanti modi si possono scegliere quattro scarpe a caso? In quanti modi si possono scegliere due scarpe destre e due sinistre?*

Esercizio 6.5.2 *Quante parole si possono formare con le lettere che compongono la parola LIBRO?*

Esercizio 6.5.3 Abbiamo chiesto al vicino di casa di innaffiare una pianta mentre siamo fuori città. Sappiamo che senza acqua la piantina morirà con probabilità 0.95 mentre con l'acqua la probabilità scende a 0.15. Sappiamo inoltre che la probabilità che il vicino si ricordi di innaffiare è pari a 0.8.

- (a) Qual è la probabilità che la pianta sia ancora viva al nostro rientro?
 (b) Se fosse morta qual è la probabilità che il vicino si sia dimenticato di innaffiarla?

Esercizio 6.5.4 Ci sono due autobus urbani, uno della linea A e uno della linea B, che per un tratto fanno la medesima strada. Sull'autobus A ci sono 25 passeggeri di cui 21 con il biglietto e 4 senza, mentre sull'autobus B ci sono 15 passeggeri di cui 11 con il biglietto e 4 senza. Alla fermata solo un passeggero scende dall'autobus A e sale sull'autobus B mentre gli altri rimangono sugli autobus. Alla fermata successiva sull'autobus B sale un controllore che controlla un passeggero trovandolo senza biglietto. Calcolare la probabilità che sia proprio il passeggero che era sull'autobus A.

Esercizio 6.5.5 Siano A e B due eventi di uno stesso spazio campione S e tali che $A \subset B$. Determinare in quale caso A e B possono essere indipendenti.

Esercizio 6.5.6 Stabilire se sia più probabile ottenere un sei lanciando un solo dado oppure lanciando due dadi e sommando i risultati ottenuti.

Esercizio 6.5.7 Si lanciano due dadi non truccati e si considerano i seguenti eventi

$$\begin{aligned} A &= \{\text{La somma dei risultati è } 7\} \\ B &= \{\text{Il primo dado realizza } 4\} \\ C &= \{\text{Il secondo dado realizza } 3\}. \end{aligned}$$

Stabilire se gli eventi A e $B \cap C$ sono indipendenti.

Esercizio 6.5.8 Si effettua il lancio di due dadi. Definiamo i seguenti eventi:

$$\begin{aligned} A &= \{\text{La somma dei risultati è } 7\} \\ B &= \{\text{La somma è un numero dispari}\} \\ C &= \{\text{Il risultato del primo dado è } 1\}. \end{aligned}$$

Verificare se sono indipendenti le seguenti coppie di eventi:

- a) A e B ;

- b) A e C ;
- c) B e C .

Esercizio 6.5.9 *Si lanciano due dadi non truccati e si considerano i seguenti eventi*

$$A = \{\text{Non si ottengono due numeri pari o due numeri dispari}\}$$
$$B = \{\text{La somma dei risultati è minore o uguale a 5}\}.$$

Stabilire se i due eventi sono indipendenti.

Esercizio 6.5.10 *Una moneta è truccata in modo tale che la probabilità che venga testa è il doppio di quella che venga croce. Supponendo che la moneta venga lanciata tre volte calcolare la probabilità dei seguenti eventi*

$$A = \{\text{Escono almeno due teste}\}$$
$$B = \{\text{Escono almeno due croci}\}.$$

Esercizio 6.5.11 *Si supponga di avere due contenitori: nel primo ci sono 10 palline azzurre e 5 nere, mentre nel secondo ci sono 5 palline azzurre e 10 nere. Una pallina viene estratta dal primo e riposta nel secondo. Quindi viene estratta una pallina dal secondo.*

- a) *Calcolare la probabilità che questa seconda pallina sia nera.*
- b) *Supposto che questa sia nera, calcolare la probabilità che la prima estratta sia stata azzurra.*

Esercizio 6.5.12 *In un contenitore ci sono 5 palline nere, 3 azzurre e 2 rosse. Vengono estratte in sequenza due palline senza restituzione. Calcolare la probabilità che la seconda pallina estratta sia rossa.*

Esercizio 6.5.13 *In tre contenitori vi sono rispettivamente il 50%, il 60% e il 70% di palline nere. Il primo contenitore ha il doppio delle palline del secondo e il secondo ha lo stesso numero di palline del terzo. Tutti e tre contenitori sono svuotati in un quarto contenitore.*

- a) *Calcolare la probabilità che, estraendo a caso una pallina da questo nuovo contenitore, essa risulti nera.*
- b) *Supposto che ciò sia avvenuto, calcolare la probabilità che provenga dal primo contenitore.*

Esercizio 6.5.14 *In un contenitore vi sono rispettivamente 5 palline rosse e 2 nere. Due palline vengono estratte a caso senza restituzione.*

- a) *Calcolare la probabilità che la seconda estratta sia rossa.*
- b) *Supposto ciò avvenuto, calcolare la probabilità che anche la prima sia rossa.*

6.5 Soluzione degli esercizi di riepilogo

Esercizio 6.5.1 a) Coincide con il numero di combinazioni possibili di scelta di 4 oggetti su 8

$$\binom{8}{4} = 70.$$

b) Ovviamente su 4 scarpe destre il numero di modi per poter scegliere sue scarpe coincide con il numero di combinazioni di 2 oggetti su 4. Stesso ragionamento vale per le scarpe sinistre. Applicando il principio di moltiplicazione il numero prodotto

$$\binom{4}{2} \binom{4}{2} = 36$$

Esercizio 6.5.2 Il numero coincide con il numero di permutazioni di 5 oggetti in quanto le lettere sono distinte. Quindi tale numero coincide con $5! = 120$.

Esercizio 6.5.3 Si definiscono gli eventi:

$$\begin{aligned} M &= \{ \text{La pianta muore} \} \\ A &= \{ \text{La pianta viene innaffiata} \}. \end{aligned}$$

Conosciamo le probabilità

$$P(M/\bar{A}) = 0.95, \quad P(M/A) = 0.15, \quad P(A) = 0.8.$$

Applicando il teorema della probabilità totale si trova

$$P(M) = P(M/A)P(A) + P(M/\bar{A})P(\bar{A}) = 0.31$$

e quindi

$$P(\bar{M}) = 1 - P(M) = 0.69.$$

mentre applicando il teorema di Bayes si trova la probabilità condizionata

$$P(\bar{A}/M) = \frac{P(M/\bar{A})P(\bar{A})}{P(M)} = 0.61.$$

Esercizio 6.5.4 *Si definiscono gli eventi:*

$$\begin{aligned} A_1 &= \{\text{Il passeggero salito su } B \text{ è senza biglietto}\} \\ A_2 &= \overline{A_1} \\ C &= \{\text{Il passeggero controllato è senza biglietto}\}. \end{aligned}$$

Sappiamo che

$$P(A_1) = \frac{4}{25}, \quad P(A_2) = \frac{21}{25}, \quad P(C/A_1) = \frac{5}{16}, \quad P(C/A_2) = \frac{4}{16}$$

Applicando il teorema della probabilità totale si trova

$$P(C) = P(C/A_1)P(A_1) + P(C/A_2)P(A_2) = \frac{104}{400}$$

mentre, definito l'evento

$$D = \{\text{Il passeggero controllato è lo stesso salito su } B\}$$

e applicando il teorema di Bayes si trova la probabilità condizionata

$$P(D/C) = \frac{P(C/D)P(D)}{P(C)} = \frac{1}{26}$$

avendo osservato che $P(C/D) = P(A_1)$ e $P(D) = 1/16$.

Esercizio 6.5.5 *Gli eventi A e B sono indipendenti solo se B coincide con lo spazio campione S .*

Esercizio 6.5.6 *È noto che la probabilità di avere un sei lanciando un dado è $1/6 = 0.167$. La probabilità di avere un sei lanciando due dadi e sommando i risultati è quella ottenuta considerando i seguenti eventi*

$$A = \{(1, 5), (2, 4), (3, 3), (4, 2), (5, 1)\}$$

risulta invece $5/36 = 0.139$.

Esercizio 6.5.7 *L'evento A è associato ai seguenti risultati*

$$A = \{(1, 6), (2, 5), (3, 4), (4, 3), (5, 2), (6, 1)\}$$

pertanto

$$P(A) = \frac{6}{36} = \frac{1}{6}$$

inoltre

$$P(B) = \frac{1}{6}, \quad P(C) = \frac{1}{6}.$$

Osserviamo che

$$P(B \cap C) = P(B) = \frac{1}{36} = P(B)P(C),$$

quindi gli eventi B e C sono indipendenti mentre

$$P(A \cap (B \cap C)) = \frac{1}{36} \neq P(A)P(B \cap C)$$

quindi gli eventi non sono indipendenti.

Esercizio 6.5.8 *Gli eventi A, B e C sono*

$$\begin{aligned} A &= \{(1, 6), (2, 5), (3, 4), (4, 3), (5, 2), (6, 1)\} \\ B &= \{(1, 2), (1, 4), (1, 6), (2, 1), (2, 3), (2, 5), (3, 2), (3, 4), (3, 6) \\ &\quad (4, 1), (4, 3), (4, 5), (5, 2), (5, 4), (5, 6), (6, 1), (6, 3), (6, 5)\} \\ C &= \{(1, 1), (1, 2), (1, 3), (1, 4), (1, 5), (1, 6)\} \end{aligned}$$

quindi

$$P(A) = \frac{1}{6}, \quad P(B) = \frac{1}{2}, \quad P(C) = \frac{1}{6}.$$

a) *A e B;*

$$P(A \cap B) = \frac{1}{6}, \quad P(A)P(B) = \frac{1}{12},$$

pertanto A e B non sono indipendenti;

a) *A e C;*

$$P(A \cap C) = \frac{1}{36}, \quad P(A)P(C) = \frac{1}{36},$$

pertanto A e C sono indipendenti;

a) *B e C;*

$$P(B \cap C) = \frac{1}{12}, \quad P(B)P(C) = \frac{1}{12},$$

pertanto B e C sono indipendenti.

Esercizio 6.5.9 *Gli eventi A e B sono*

$$\begin{aligned} A &= \{(1, 2), (1, 4), (1, 6), (2, 1), (2, 3), (2, 5), (3, 2), (3, 4), (3, 6) \\ &\quad (4, 1), (4, 3), (4, 5), (5, 2), (5, 4), (5, 6), (6, 1), (6, 3), (6, 5)\} \\ B &= \{(1, 1), (1, 2), (1, 3), (1, 4), (2, 1), (2, 2), (2, 3), (3, 1), (3, 2), (4, 1)\} \end{aligned}$$

quindi

$$\begin{aligned} P(A) &= \frac{1}{2}, & P(B) &= \frac{10}{36} = \frac{5}{18}. \\ P(A \cap B) &= \frac{1}{6}, & P(A)P(B) &= \frac{5}{36}. \end{aligned}$$

Gli eventi non sono indipendenti.

Esercizio 6.5.10 *Risulta*

$$P(T) = \frac{2}{3}, \quad P(C) = \frac{1}{3}$$

Gli eventi A e B sono

$$\begin{aligned} A &= \{TTT, CTT, TCT, TTC\} \\ B &= \{CCC, TCC, CTC, CCT\} = \bar{A} \end{aligned}$$

$$P(TTT) = \left(\frac{2}{3}\right)^3 = \frac{8}{27}$$

$$P(CTT) = P(TCT) = P(TTC) = \left(\frac{2}{3}\right)^2 \frac{1}{3} = \frac{4}{27}.$$

La probabilità dell'evento A risulta essere la somma delle probabilità degli eventi mutuamente esclusivi quindi

$$P(A) = \frac{8}{27} + 3 \frac{4}{27} = \frac{20}{27}.$$

Applicando la proprietà della probabilità di eventi complementari risulta

$$P(B) = \frac{7}{27}.$$

Esercizio 6.5.11 *Si definiscono gli eventi:*

$$\begin{aligned} N &= \{\text{La seconda pallina estratta è nera}\} \\ A &= \{\text{La pallina inserita nel secondo contenitore è azzurra}\}. \end{aligned}$$

Sappiamo che

$$P(A) = \frac{2}{3}, \quad P(N/A) = \frac{10}{16}, \quad P(N/\bar{A}) = \frac{11}{16}.$$

a) *Applicando il teorema della probabilità totale si trova*

$$P(N) = P(N/A)P(A) + P(N/\bar{A})P(\bar{A}) = \frac{31}{48}$$

b) *Applicando il teorema di Bayes si trova la probabilità condizionata*

$$P(A/N) = \frac{P(N/A)P(A)}{P(N)} = \frac{20}{31}.$$

Esercizio 6.5.12 *Si definiscono gli eventi:*

$$\begin{aligned} A &= \{\text{La seconda pallina estratta è rossa}\} \\ N &= \{\text{La prima pallina estratta è nera}\} \\ B &= \{\text{La prima pallina estratta è azzurra}\} \\ R &= \{\text{La prima pallina estratta è rossa}\}. \end{aligned}$$

Sappiamo che

$$\begin{aligned} P(N) &= \frac{5}{10}, \quad P(B) = \frac{3}{10}, \quad P(R) = \frac{2}{10}, \\ P(A/N) &= \frac{2}{9}, \quad P(A/B) = \frac{2}{9}, \quad P(A/R) = \frac{1}{9}, \end{aligned}$$

Applicando il teorema della probabilità totale si trova

$$P(A) = P(A/N)P(N) + P(A/B)P(B) + P(A/R)P(R) = \frac{1}{5}.$$

Esercizio 6.5.13 *Si definiscono gli eventi:*

$$\begin{aligned} N &= \{\text{La pallina estratta è nera}\} \\ A_1 &= \{\text{La pallina era nel primo contenitore}\} \\ A_2 &= \{\text{La pallina era nel secondo contenitore}\} \\ A_3 &= \{\text{La pallina era nel terzo contenitore}\} \end{aligned}$$

Sappiamo che

$$P(A_1) = \frac{1}{2}, \quad P(A_2) = P(A_3) = \frac{1}{4},$$

inoltre

$$P(N/A_1) = \frac{5}{10}, \quad P(N/A_2) = \frac{6}{10}, \quad P(N/A_3) = \frac{7}{10}$$

a) Applicando il teorema della probabilità totale si calcola

$$P(N) = P(N/A_1)P(A_1) + P(N/A_2)P(A_2) + P(N/A_3)P(A_3) = \frac{23}{40}.$$

b) Applicando il teorema di Bayes si calcola

$$P(A_1/N) = \frac{P(N/A_1)P(A_1)}{P(N)} = \frac{10}{23}.$$

Esercizio 6.5.14 Si definiscono gli eventi:

$$\begin{aligned} R_2 &= \{ \text{La seconda pallina estratta è rossa} \} \\ R_1 &= \{ \text{La prima pallina estratta è rossa} \} \end{aligned}$$

Sappiamo che

$$P(R_1) = \frac{5}{7}, \quad P(R_2/R_1) = \frac{4}{6} = \frac{2}{3}, \quad P(R_2/\overline{R_1}) = \frac{5}{6}$$

a) Applicando il teorema della probabilità totale si calcola

$$P(R_2) = P(R_2/R_1)P(R_1) + P(R_2/\overline{R_1})P(\overline{R_1}) = \frac{5}{7}.$$

b) Applicando il teorema di Bayes si calcola

$$P(R_1/R_2) = \frac{P(R_2/R_1)P(R_1)}{P(R_2)} = \frac{2}{3}.$$

Capitolo 7

Variabili Aleatorie

7.1 Introduzione

Considerando lo spazio campione di un esperimento non è detto che il risultato sia necessariamente un numero. Per esempio nel caso in cui si consideri un articolo prodotto da una fabbrica allora

$$S = \{\text{difettoso, non difettoso}\}.$$

Spesso è più comodo avere a che fare con insiemi numerici perciò può essere conveniente associare ad ogni evento dello spazio campione un numero reale.

Definizione 7.1.1 *Sia \mathcal{E} un esperimento ed S lo spazio campione ad esso associato. Una funzione X che associa ad un evento $s \in S$ un numero reale $X(s)$ è detta **variabile aleatoria**.*

Osserviamo che la variabile aleatoria (al contrario di quanto faccia supporre il nome) è una funzione. Se lo spazio campione S è già un insieme numerico allora X potrebbe essere semplicemente la funzione identità:

$$X(s) = s.$$

Definizione 7.1.2 *Una variabile aleatoria che può assumere un numero finito o infinitamente numerabile di valori è detta **discreta**, mentre se può assumere valori in un sottointervallo $[a, b] \subseteq \mathbb{R}$ è detta **continua**.*

Supponiamo di considerare l'esperimento

$$\mathcal{E} = \text{lancio di due monete}$$

cui associamo lo spazio campione

$$S = \{CC, CT, TC, TT\}$$

allora possiamo definire la variabile aleatoria

$$X = \text{numero di teste uscite}$$

che assume i seguenti valori

$$X(TT) = 2, \quad X(CT) = X(TC) = 1, \quad X(CC) = 0.$$

Potremmo definire una seconda variabile aleatoria

$$Y = \text{differenza tra il numero di teste uscite ed il numero di croci}$$

per la quale

$$X(TT) = 2, \quad X(CT) = X(TC) = 0, \quad X(CC) = -2.$$

L'insieme dei valori assunti dalla variabile aleatoria X è detto **Range**, e si indica con R_X . Il Range di X risulta essere a sua volta uno spazio campione ai cui elementi possiamo associare una probabilità.

Definizione 7.1.3 *Sia \mathcal{E} un esperimento ed S il relativo spazio campione. Sia X una variabile aleatoria definita su S e sia R_X il suo range. Sia B un evento rispetto ad R_X , cioè $B \subset R_X$. Se consideriamo l'evento*

$$A = \{s \in S \mid X(s) \in B\}$$

*allora A e B si dicono **eventi equivalenti**.*

Definizione 7.1.4 *Sia B un evento dello spazio R_X e sia $A \subset S$ equivalente a B allora si definisce*

$$P(A) = P(B).$$

Se X è la variabile aleatoria definita nell'esempio precedente risulta

$$P(X = 2) = P(X = 0) = \frac{1}{4}, \quad P(X = 1) = \frac{1}{2}.$$

7.2 Variabili aleatorie discrete

Sia X una variabile aleatoria discreta e sia

$$R_X = \{x_1, x_2, \dots, x_n, \dots\}$$

allora vale la seguente definizione.

Definizione 7.2.1 *Sia X una variabile aleatoria discreta. Ad ogni valore x_k è possibile associare un numero $f(x_k)$, chiamato probabilità di x_k , tale che*

$$P(X = x_k) = f(x_k).$$

La funzione $f(x)$ è detta **densità di probabilità**, e gode delle seguenti proprietà:

- (a) $f(x_k) \geq 0, \forall k$;
- (b) $\sum_k f(x_k) = 1$.

L'insieme delle coppie $(x_k, f(x_k))$, $k = 1, 2, 3, \dots$, è detto **distribuzione di probabilità di X** .

È ovvio che il valore assunto dalla funzione $f(x_k)$ dipende dalla probabilità degli eventi dello spazio campione S equivalenti all'evento $X = x_k$.

Definizione 7.2.2 *Se X è una variabile aleatoria discreta si definisce la **funzione di distribuzione cumulativa** la funzione tale che*

$$F(x) = P(X \leq x).$$

Il valore $F(x)$ associa ad ogni valore reale x (indipendentemente dal fatto che x sia uno dei valori assunti da X) la probabilità che X assuma valori più piccoli. La funzione $F(x)$ è una funzione definita su \mathbb{R} , monotona crescente da 0 a 1 ed il suo grafico è una funzione a gradino, infatti

$$F(x) = \sum_{x_j \leq x} f(x_j).$$

Se è nota invece la funzione cumulativa allora per calcolare la densità di probabilità è sufficiente calcolare la differenza tra due valori successivi di $F(x)$:

$$f(x_k) = P(X = x_k) = F(x_k) - F(x_{k-1}).$$

Esempio 7.2.1 *Determinare la funzione cumulativa della variabile aleatoria pari al numero di teste uscite in due lanci di una moneta non truccata.*

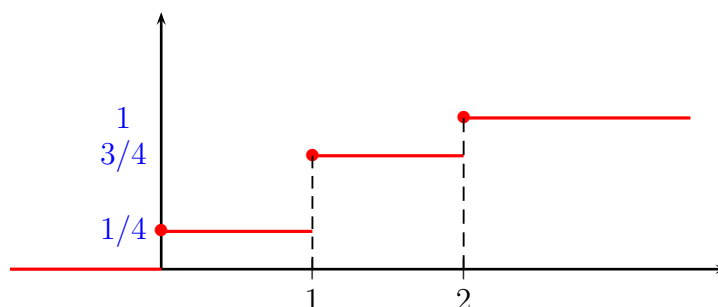
Abbiamo già determinato la densità di probabilità

$$P(X = 0) = f(0) = \frac{1}{4}, \quad P(X = 1) = f(1) = \frac{1}{2}, \quad P(X = 2) = f(2) = \frac{1}{4}.$$

Riportiamo nella seguente tabella i valori della funzione $F(x)$:

x	$F(x)$
$x < 0$	$F(x) = 0$
$0 \leq x < 1$	$F(x) = \frac{1}{4}$
$1 \leq x < 2$	$F(x) = \frac{1}{4} + \frac{1}{2} = \frac{3}{4}$
$x \geq 2$	$F(x) = 1$

Tracciamo ora il grafico della funzione.



Esempio 7.2.2 *Determinare il valore $k \in \mathbb{R}$ tale che la funzione*

$$f(x) = \begin{cases} \left(\frac{1}{2}\right)^x & x = 1, 2, 3, 4 \\ k & x = 5 \end{cases}$$

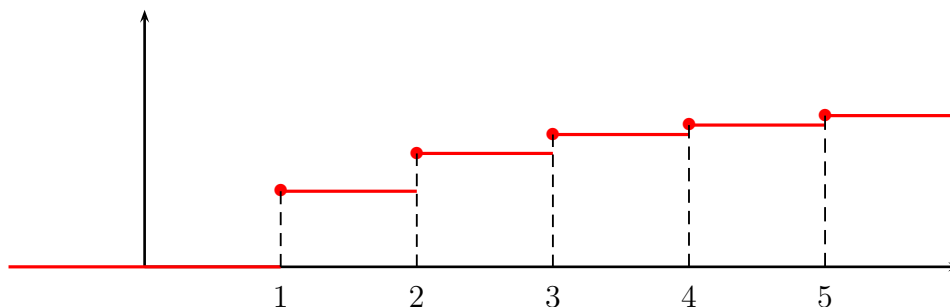
sia una densità di probabilità e determinare la relativa funzione cumulativa.

Affinchè $f(x)$ sia una densità di probabilità, deve essere $k \geq 0$ e inoltre la somma dei suoi valori deve essere 1. Quindi

$$k = 1 - \frac{1}{2} - \frac{1}{4} - \frac{1}{8} - \frac{1}{16} = \frac{1}{16}.$$

Quindi

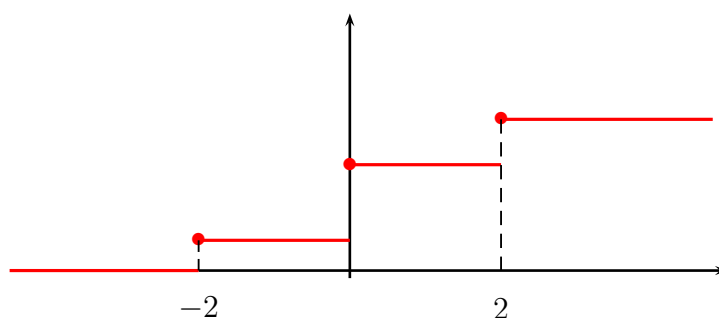
x	$F(x)$
$x < 1$	$F(x) = 0$
$1 \leq x < 2$	$F(x) = \frac{1}{2}$
$2 \leq x < 3$	$F(x) = \frac{1}{4} + \frac{1}{2} = \frac{3}{4}$
$3 \leq x < 4$	$F(x) = \frac{3}{4} + \frac{1}{8} = \frac{7}{8}$
$4 \leq x < 5$	$F(x) = \frac{7}{8} + \frac{1}{16} = \frac{15}{16}$
$x \geq 5$	$F(x) = 1$



Esempio 7.2.3 Sia assegnata la seguente funzione cumulativa della variabile aleatoria X :

$$F(x) = \begin{cases} 0 & x < -2 \\ 0.2 & -2 \leq x < 0 \\ 0.7 & 0 \leq x < 2 \\ 1 & x \geq 2 \end{cases}$$

Il grafico della funzione $F(x)$ è il seguente:



Esempio 7.2.4 Si effettua il lancio di due dadi. La variabile X è la somma dei risultati di due dadi. Determinare la densità di probabilità e la relativa funzione cumulativa.

Il range di X è composto da tutti i numeri interi compresi tra 2 e 12. Considerando il rapporto tra i casi favorevoli ed i risultati possibili (ovvero 36) la densità di probabilità è la seguente

x_k	$f(x_k)$	x_k	$f(x_k)$
2	$\frac{1}{36}$	8	$\frac{5}{36}$
3	$\frac{2}{36}$	9	$\frac{4}{36}$
4	$\frac{3}{36}$	10	$\frac{3}{36}$
5	$\frac{4}{36}$	11	$\frac{2}{36}$
6	$\frac{5}{36}$	12	$\frac{1}{36}$
7	$\frac{6}{36}$		

x	$F(x)$
$x < 2$	$F(x) = 0$
$2 \leq x < 3$	$F(x) = \frac{1}{36}$
$3 \leq x < 4$	$F(x) = \frac{1}{36} + \frac{2}{36} = \frac{3}{36}$
$4 \leq x < 5$	$F(x) = \frac{3}{36} + \frac{3}{36} = \frac{6}{36}$
$5 \leq x < 6$	$F(x) = \frac{6}{36} + \frac{4}{36} = \frac{10}{36}$
$6 \leq x < 7$	$F(x) = \frac{10}{36} + \frac{5}{36} = \frac{15}{36}$
$7 \leq x < 8$	$F(x) = \frac{15}{36} + \frac{6}{36} = \frac{21}{36}$
$8 \leq x < 9$	$F(x) = \frac{21}{36} + \frac{5}{36} = \frac{26}{36}$
$9 \leq x < 10$	$F(x) = \frac{26}{36} + \frac{4}{36} = \frac{30}{36}$
$10 \leq x < 11$	$F(x) = \frac{30}{36} + \frac{3}{36} = \frac{33}{36}$
$11 \leq x < 12$	$F(x) = \frac{33}{36} + \frac{2}{36} = \frac{35}{36}$
$x \geq 12$	$F(x) = 1$

7.3 Variabili aleatorie continue

Supponiamo che il range di X sia composto da un numero di valori molto elevato, per esempio tutti appartenenti all'intervallo $[a, b]$ e che a ciascuno di tali valori venga associata una probabilità $p(x_i)$. Può essere molto più comodo idealizzare tale situazione ipotizzando che X possa assumere tutti i valori compresi tra a e b . In questo caso non ha più senso parlare di probabi-

lità $p(x_i)$ perchè l'insieme dei valori x_i non è numerabile, quindi formalmente possiamo dare la seguente definizione.

Definizione 7.3.1 *Ad una variabile aleatoria continua X è possibile associare una funzione $f(x)$, detta **funzione densità di probabilità** tale che*

$$(a) f(x) \geq 0, \forall x;$$

$$(b) \int_{-\infty}^{+\infty} f(x)dx = 1.$$

Si definisce la probabilità che X sia compresa tra i valori reali a e b , $-\infty < a < b < +\infty$, nel seguente modo

$$P(a \leq X \leq b) = \int_a^b f(x)dx.$$

Esempio 7.3.1 *Sia assegnata la funzione*

$$f(x) = \begin{cases} \frac{x}{8} & 0 \leq x \leq 4 \\ 0 & \text{altrimenti.} \end{cases}$$

Verificare che $f(x)$ è una densità di probabilità di una variabile aleatoria continua X e calcolare:

- 1) $P(X \leq 2)$
- 2) $P(1 \leq X \leq 3)$.

Deve essere $f(x) \geq 0$ e

$$\int_{-\infty}^{+\infty} f(x)dx = 1.$$

Dunque

$$\int_{-\infty}^{+\infty} f(x)dx = \int_0^4 \frac{x}{8}dx = \frac{1}{16} [x^2]_0^4 = 1.$$

1)

$$P(X \leq 2) = \int_{-\infty}^2 f(x)dx = \int_0^2 \frac{x}{8}dx = \frac{1}{16} [x^2]_0^2 = \frac{1}{4}.$$

2)

$$P(1 \leq X \leq 3) = \int_1^3 \frac{x}{8}dx = \frac{1}{16} [x^2]_1^3 = \frac{1}{2}.$$

Definizione 7.3.2 Si definisce *funzione di distribuzione cumulativa* della variabile aleatoria continua X la funzione

$$F(x) = P(X \leq x) = \int_{-\infty}^x f(t)dt.$$

Affinchè la definizione di funzione di distribuzione cumulativa abbia senso è sufficiente che la funzione $f(x)$ sia integrabile, quindi potrebbe anche non essere continua. La funzione $F(x)$ invece è una funzione continua e monotona crescente da 0 a 1 e, negli intervalli in cui la funzione $f(x)$ è continua risulta coincidere con la sua derivata:

$$f(x) = \frac{d}{dx}F(x).$$

Se a, b sono due numeri reali tali che $a < b$ allora

$$P(a \leq X \leq b) = F(b) - F(a).$$

Infatti

$$\begin{aligned} P(a \leq X \leq b) &= \int_a^b f(t)dt \\ &= \int_{-\infty}^a f(t)dt + \int_a^b f(t)dt - \int_{-\infty}^a f(t)dt \\ &= \int_{-\infty}^b f(t)dt - \int_{-\infty}^a f(t)dt = F(b) - F(a). \end{aligned}$$

Quest'ultima proprietà può essere vista come una conseguenza del fatto che, in ipotesi di continuità, $F(x)$ è la primitiva di $f(x)$. Ovviamente risulta

$$P(X \geq x) = 1 - P(X < x) = \int_x^{+\infty} f(t)dt.$$

Osservazione. Nel continuo l'espressione *evento di probabilità nulla* non è sinonimo di *evento impossibile* come invece accade nel discreto. Dunque

$$P(X = x) = 0, \quad \forall x \in \mathbb{R}$$

se X è una variabile aleatoria continua. Nel continuo ha senso solo calcolare la probabilità che una variabile aleatoria sia compresa tra due valori reali.

Una conseguenza di questo fenomeno è che se X è una variabile aleatoria continua, allora

$$\begin{aligned} P(X \leq a) &= P(X < a) \\ P(X \geq a) &= P(X > a) \\ P(a \leq X \leq b) &= P(a < X < b) \end{aligned}$$

Quindi se $x \in \mathbb{R}$ il valore $f(x)$ non rappresenta una probabilità ma solo un integrale è una probabilità.

Esempio 7.3.2 Sia assegnata la funzione

$$f(x) = \begin{cases} \frac{x}{2} & 0 \leq x \leq 2 \\ 0 & \text{altrimenti.} \end{cases}$$

Verificare che $f(x)$ è una densità di probabilità di una variabile aleatoria continua X e calcolare la funzione cumulativa.

Deve essere $f(x) \geq 0$ e

$$\int_{-\infty}^{+\infty} f(x) dx = 1.$$

Dunque

$$\int_{-\infty}^{+\infty} f(x) dx = \int_0^2 \frac{x}{2} dx = \frac{1}{4} [x^2]_0^2 = 1.$$

Se $x \leq 0$ risulta ovviamente $F(x) = 0$.

Se $0 \leq x \leq 2$:

$$F(x) = \int_{-\infty}^x f(t) dt = \int_0^x \frac{t}{2} dt = \frac{x^2}{4},$$

Se $x > 2$ allora $F(x) = 1$.

Esempio 7.3.3 Considerata la variabile aleatoria X avente la seguente densità di probabilità

$$f(x) = \begin{cases} x & 0 < x \leq 1 \\ 2 - x & 1 < x \leq 2 \\ 0 & \text{altrimenti} \end{cases}$$

determinare:

- $P(0.2 \leq X \leq 0.8)$
- $P(0.6 \leq X \leq 1.2)$
- $P(X \geq 1.8)$.

a)

$$P(0.2 \leq X \leq 0.8) = \int_{0.2}^{0.8} x dx = \left[\frac{x^2}{2} \right]_{0.2}^{0.8} = \frac{0.64 - 0.04}{2} = 0.3;$$

b)

$$\begin{aligned} P(0.6 \leq X \leq 1.2) &= \int_{0.6}^{1.2} f(x) dx = \int_{0.6}^1 x dx + \int_1^{1.2} (2-x) dx \\ &= \left[\frac{x^2}{2} \right]_{0.6}^1 + \left[-\frac{(2-x)^2}{2} \right]_1^{1.2} = \frac{1 - 0.36}{2} + \frac{1 - 0.64}{2} = 0.5; \end{aligned}$$

c)

$$P(X \geq 1.8) = \int_{1.8}^2 (2-x) dx = \left[-\frac{(2-x)^2}{2} \right]_{1.8}^2 = \frac{0.04}{2} = 0.02.$$

Esempio 7.3.4 Calcolare la funzione cumulativa della variabile aleatoria la cui densità di probabilità è la stessa dell'esempio precedente.

Se $x \leq 0$ risulta ovviamente $F(x) = 0$.

Se $0 \leq x \leq 1$:

$$F(x) = \int_{-\infty}^x f(t) dt = \int_0^x t dt = \frac{x^2}{2};$$

Se $1 < x \leq 2$

$$\begin{aligned} F(x) &= \int_{-\infty}^x f(t) dt = \int_0^x t dt = \int_0^1 t dt + \int_1^x (2-t) dt \\ &= \frac{1}{2} + \int_1^x (2-t) dt = \frac{1}{2} + \left[-\frac{(2-t)^2}{2} \right]_1^x = -\frac{x^2}{2} + 2x - 1. \end{aligned}$$

Se $x > 2$ allora $F(x) = 1$.

Esempio 7.3.5 Determinare il valore della costante $c \in \mathbb{R}$ in modo tale che la funzione

$$f(x) = \begin{cases} cx^2 & 0 < x \leq 3 \\ 0 & \text{altrimenti} \end{cases}$$

sia una densità di probabilità e calcolarne la relativa funzione cumulativa e la probabilità $P(1 < X < 2)$.

Imponiamo innanzitutto che l'integrale della funzione $f(x)$ sia uguale a 1:

$$\int_0^3 f(x)dx = \int_0^3 cx^2dx = \frac{c}{3} [x^3]_0^3 = 9c$$

quindi deve necessariamente $c = 1/9$:

$$f(x) = \begin{cases} \frac{x^2}{9} & 0 < x \leq 3 \\ 0 & \text{altrimenti.} \end{cases}$$

Se $x \leq 0$ risulta ovviamente $F(x) = 0$.

Se $0 \leq x \leq 3$:

$$F(x) = \int_{-\infty}^x f(t)dt = \int_0^x \frac{t^2}{9}dt = \frac{x^2}{27};$$

Se $x > 3$ allora $F(x) = 1$.

Conoscendo la funzione cumulativa possiamo determinare la probabilità richiesta come differenza tra i valori della $F(x)$:

$$P(1 < X < 2) = F(2) - F(1) = \frac{8}{27} - \frac{1}{27} = \frac{7}{27}.$$

7.4 Valore atteso di una variabile aleatoria

Definizione 7.4.1 Sia X una variabile aleatoria discreta che può assumere valori x_1, x_2, \dots , e sia

$$p(x_i) = P(X = x_i), \quad i = 1, 2, \dots, n,$$

la sua densità di probabilità allora si definisce **valore atteso di X** , oppure **attesa matematica di X** , denotato con $E(X)$, la quantità:

$$E(X) = \sum_{i=1}^n x_i p(x_i),$$

purchè, nel caso $n = \infty$, la serie converga assolutamente.

Il valore atteso di una variabile aleatoria si indica spesso con μ . Il valore atteso si avvicina al valor medio in senso probabilistico. Se i valori sono equiprobabili infatti esso coincide esattamente con il valor medio. Se consideriamo la variabile aleatoria

$$X = \{\text{Risultato del lancio di un dado}\}$$

allora

$$E(X) = \sum_{i=1}^6 \frac{1}{6} i = 3.5.$$

Quindi il valore atteso potrebbe essere un valore non assunto dalla variabile aleatoria.

Consideriamo ora come esempio la variabile aleatoria X uguale alla somma dei risultati nel lancio di due dadi. Abbiamo già calcolato la densità di probabilità, calcoliamone ora il valore atteso

$$E(X) = 2 \frac{1}{36} + 3 \frac{2}{36} + 4 \frac{3}{36} + 5 \frac{4}{36} + 6 \frac{5}{36} + 7 \frac{6}{36} + 8 \frac{5}{36} + 9 \frac{4}{36} + 10 \frac{3}{36} + 11 \frac{2}{36} + 12 \frac{1}{36} = 7.$$

Esempio 7.4.1 *Supponiamo ora di voler calcolare il valore atteso del guadagno di uno scommettitore che gioca 10 € al Gioco del Lotto puntando sull'uscita di un numero su una certa ruota. In questo caso la vincita paga 11 volte la puntata.*

Il giocatore punta su 5 numeri quindi la probabilità di vincita è

$$P(\text{Vincita}) = \frac{5}{90}$$

nel qual caso vincerà 11 volte 10 euro, cioè 110, ma avendone giocati 10 il ricavo è pari a 100 €. La probabilità di perdita è

$$P(\text{Perdita}) = \frac{85}{90}$$

nel qual caso il ricavo sarà pari a -10 €. Il valore atteso del ricavo R è pertanto:

$$E(R) = \frac{5}{90} 100 - \frac{85}{90} 10 = -\frac{35}{9} \simeq -3.89.$$

Definizione 7.4.2 Se X è una variabile aleatoria continua con funzione densità di probabilità $f(x)$ allora si definisce valore atteso di X il numero

$$E(X) = \int_{-\infty}^{+\infty} xf(x)dx.$$

Anche in questo caso il valore atteso esiste se l'integrale improprio è un valore finito. I seguenti due teoremi saranno utili per descrivere le proprietà del valore atteso.

7.4.1 Proprietà del valore atteso

In questo paragrafo saranno descritte le proprietà del valore atteso, quando sarà necessario verificarle supporremo, per semplicità, che X sia una variabile aleatoria continua:

1. se $X = C$, costante, allora $E(X) = C$, infatti

$$E(X) = \int_{-\infty}^{+\infty} xf(x)dx = \int_{-\infty}^{+\infty} Cf(x)dx = C.$$

2. se C è una costante allora $E(CX) = CE(X)$, infatti

$$E(CX) = \int_{-\infty}^{+\infty} Cxf(x)dx = C \int_{-\infty}^{+\infty} xf(x)dx = CE(X).$$

3. se X ed Y sono due variabili aleatorie definite sullo stesso spazio campione allora

$$E(X + Y) = E(X) + E(Y),$$

4. se X ed Y sono due variabili aleatorie indipendenti allora

$$E(XY) = E(X)E(Y),$$

5. Se $Y = H(X)$ è una funzione della variabile aleatoria X allora

$$E(Y) = E(H(X)) = \sum_{i=1} H(x_i)p(x_i),$$

se X è discreta, e

$$E(Y) = E(H(X)) = \int_{-\infty}^{+\infty} H(x)f(x) dx,$$

se X è continua.

Esempio 7.4.2 *Determinare il valore atteso della variabile aleatoria X definita come il numero di teste ottenute con tre lanci successivi di una moneta non truccata.*

Determiniamo prima la densità di probabilità di X :

$$CCC \quad X = 0 \quad P(X = 0) = \frac{1}{8}$$

$$\begin{array}{l} CCT \\ CTC \\ TCC \end{array} \quad X = 1 \quad P(X = 1) = \frac{3}{8}$$

$$\begin{array}{l} TTC \\ TCT \\ CTT \end{array} \quad X = 2 \quad P(X = 2) = \frac{3}{8}$$

$$TTT \quad X = 3 \quad P(X = 3) = \frac{1}{8}$$

$$E(X) = 0 \frac{1}{8} + 1 \frac{3}{8} + 2 \frac{3}{8} + 3 \frac{1}{8} = \frac{3}{2}.$$

Esempio 7.4.3 *Si lancia un dado ed un giocatore vince 1000 € se esce 2, 2000 € se esce 4, 6000 € se esce 6, mentre perde 1000 € se esce un numero dispari. Calcolare il valore atteso del guadagno del giocatore.*

$$E(X) = 1000 \frac{1}{6} + 2000 \frac{1}{6} + 6000 \frac{1}{6} - 1000 \frac{1}{2} = 1000.$$

7.5 Varianza di una variabile aleatoria

Data una variabile aleatoria X della quale è nota la densità di probabilità è chiaro che il valore atteso non riesce a riassumere da solo le caratteristiche fondamentali della sua distribuzione, in quanto non tiene conto, per esempio, della dispersione dei valori. Per esempio una variabile aleatoria che può assumere il solo valore 0 con probabilità 1 ha lo stesso valore atteso di una variabile aleatoria che può assumere come valori 1000 e -1000 entrambi con

probabilità $1/2$, cioè 0 , ma è chiaro che la seconda ha una variabilità superiore alla prima, che è costante. Poichè i valori sono distribuiti intorno al valore atteso si potrebbe misurare la loro variabilità calcolando $|E[X - E(X)]|$. Tuttavia, per un buon numero di ragioni, risulta più conveniente la seguente definizione.

Definizione 7.5.1 *Sia X una variabile aleatoria, si definisce **Varianza di X** , e si denota con $V(X)$ o con σ_X^2 , la quantità:*

$$V(X) = E[(X - E(X))^2]. \quad (7.1)$$

Sviluppando il termine quadratico dell'equazione (7.1)

$$\begin{aligned} V(X) &= E[(X - E(X))^2] = E\{X^2 - 2XE(X) + E(X)^2\} \\ &= E(X^2) - 2E(X)E(X) + E(X)^2 = E(X^2) - [E(X)]^2. \end{aligned}$$

Calcoliamo ora la varianza della variabile aleatoria X che indica il risultato del lancio di un dado allora:

$$\begin{aligned} E(X) &= \frac{7}{2} \\ E(X^2) &= \frac{1}{6} \sum_{i=1}^6 i^2 = \frac{91}{6} \end{aligned}$$

Quindi

$$V(X) = \frac{91}{6} - \frac{49}{4} = \frac{35}{12}.$$

La varianza di X gode delle seguenti proprietà:

1. se C è una costante allora $V(C) = 0$;
infatti

$$V(C) = E(C^2) - (E(C))^2 = C^2 - C^2 = 0.$$

2. se C è una costante allora $V(X + C) = V(X)$;
infatti

$$\begin{aligned} E[(X + C)^2] &= E(X^2 + 2CX + C^2) = E(X^2) + 2CE(X) + C^2 \\ [E(X + C)]^2 &= [E(X) + C]^2 = (E(X))^2 + 2CE(X) + C^2 \\ V(X + C) &= E(X^2) + 2CE(X) + C^2 - (E(X))^2 - 2CE(X) - C^2 \\ &= E(X^2) - (E(X))^2 = V(X). \end{aligned}$$

3. se C è una costante allora $V(CX) = C^2V(X)$;
infatti

$$\begin{aligned} V(CX) &= E(C^2X^2) - (E(CX))^2 = C^2E(X^2) - C^2(E(X))^2 \\ &= C^2[E(X^2) - (E(X))^2] = C^2V(X). \end{aligned}$$

4. se X e Y sono due variabili aleatorie indipendenti allora
 $V(X + Y) = V(X) + V(Y)$.

Infatti applicando l'ipotesi che le due variabili sono indipendenti

$$\begin{aligned} E((X + Y)^2) &= E(X^2 + 2YX + Y^2) = E(X^2) + E(Y^2) + 2E(X)E(Y) \\ [E(X + Y)]^2 &= (E(X))^2 + (E(Y))^2 + 2E(X)E(Y), \end{aligned}$$

Facendo la differenza tra le ultime due equazioni segue la tesi.

Esempio 7.5.1 *Determinare la varianza della variabile aleatoria X definita come il numero di teste ottenute con tre lanci successivi di una moneta non truccata.*

Abbiamo già determinato $E(X)$:

$$E(X) = \frac{3}{2}$$

calcoliamo $E(X^2)$:

$$E(X^2) = 0 \frac{1}{8} + 1 \frac{3}{8} + 2^2 \frac{3}{8} + 3^2 \frac{1}{8} = 3.$$

Quindi

$$V(X) = E(X^2) - (E(X))^2 = 3 - \frac{9}{4} = \frac{3}{4}.$$

Esempio 7.5.2 *Calcolare la varianza della variabile aleatoria continua avente la seguente funzione densità di probabilità:*

$$f(x) = \begin{cases} \frac{x}{2} & 0 \leq x \leq 2 \\ 0 & \text{altrimenti.} \end{cases}$$

$$E(X) = \int_0^2 x \frac{x}{2} dx = \frac{1}{2} \int_0^2 x^2 dx = \frac{1}{2} \left[\frac{x^3}{3} \right]_0^2 = \frac{4}{3}.$$

$$E(X^2) = \int_0^2 x^2 \frac{x}{2} dx = \frac{1}{2} \int_0^2 x^3 dx = \frac{1}{2} \left[\frac{x^4}{4} \right]_0^2 = 2.$$

$$V(x) = E(X^2) - (E(X))^2 = 2 - \frac{16}{9} = \frac{2}{9}.$$

Definizione 7.5.2 Si definisce *deviazione standard* della variabile aleatoria X , e si indica con σ_X , la radice quadrata della varianza:

$$\sigma_X = \sqrt{V(X)}.$$

Un'osservazione finale, ma molto importante, riguarda la proprietà di cui gode ogni generica variabile aleatoria X (sia discreta che continua) tale che

$$E(X) = \mu, \quad V(X) = \sigma_X^2$$

è che la variabile

$$Y = \frac{X - \mu}{\sigma_X}$$

ha valore atteso 0 e varianza (e deviazione standard) 1:

$$E(Y) = 0, \quad V(Y) = 1.$$

7.6 Esercizi di riepilogo

Esercizio 7.6.1 Si consideri l'esperimento consistente nel lancio di due dadi non truccati. Definita la seguente variabile aleatoria

$$X = \{\text{Massimo risultato di uno dei due dadi}\}.$$

Determinare lo spazio campione, la densità di probabilità ed il relativo valore atteso.

Esercizio 7.6.2 Una variabile aleatoria discreta X ha densità $f(x) = c/x$, $x = 1, 2, 3$. Calcolare c , il valore atteso μ e la deviazione standard σ . Calcolare $P(\mu - \sigma < X < \mu + \sigma)$.

Esercizio 7.6.3 Sia

$$f(x) = \begin{cases} 0 & x \notin [0, 1] \\ 6(x - x^2) & x \in [0, 1]. \end{cases}$$

- a) *Provare che questa funzione è una densità di probabilità.*
 b) *Se X è una variabile aleatoria con questa densità mostrare che la sua media è $\mu = 1/2$ e la sua varianza è $\sigma^2 = 1/20$.*

Esercizio 7.6.4 Sia X una variabile aleatoria di tipo continuo con densità

$$f(x) = \begin{cases} 0 & x \notin [-1, 1] \\ |x| & x \in [-1, 1]. \end{cases}$$

- a) *Provare che questa funzione è effettivamente una densità di probabilità.*
 b) *Provare, utilizzando proprietà di simmetria, che $E(X) = 0$.*
 c) *Provare che la deviazione standard è $\sigma = \sqrt{2}/2$.*
 d) *Calcolare $P(|X| < \sigma)$.*

Esercizio 7.6.5

Una variabile aleatoria X di tipo continuo ha densità di probabilità

$$f(x) = \begin{cases} 1 - |x| & |x| < 1 \\ 0 & \text{altrove.} \end{cases}$$

- a) *Mostrare che $f(x)$ è definita correttamente.*
 b) *Provare che la media $E(X)$ è nulla e calcolare la deviazione standard.*
 c) *Calcolare $P(|X| < 1/2)$.*

Esercizio 7.6.6 Si consideri la funzione

$$f(x) = \begin{cases} \frac{3}{4}(1 - x^2) & |x| \leq 1 \\ 0 & \text{altrove.} \end{cases}$$

- a) *Mostrare che f è una densità di probabilità per una variabile aleatoria continua.*
 b) *Se X è una variabile aleatoria con questa densità, calcolare $E(X)$ e $V(X)$.*
 c) *Calcolare $P(-2 < X < 0)$.*

Esercizio 7.6.7 Una variabile aleatoria X di tipo continuo ha densità

$$f(x) = \begin{cases} |2x| & -\sqrt{3}/2 \leq x \leq 1/2 \\ 0 & \text{altrove.} \end{cases}$$

- a) Calcolare $E(X)$ e $V(X)$.
 b) Calcolare $P(-1/3 < X < 1/3 | X > 0)$.

Esercizio 7.6.8 Una variabile aleatoria X di tipo continuo ha densità

$$f(x) = \begin{cases} C(1+x) & -1 \leq x \leq 1 \\ 0 & \text{altrove.} \end{cases}$$

- a) Determinare C in modo che f sia definita correttamente.
 b) Calcolare $E(X)$ e $V(X)$.
 c) Calcolare $P(X \geq 0 | X \leq 3/4)$.

7.9 Soluzione degli esercizi di riepilogo

Esercizio 7.9.1 Lo spazio campione di X è ovviamente il seguente

$$X = \{1, 2, 3, 4, 5, 6\}$$

Basta considerare le 36 coppie (i, j) , $i, j \in \mathbb{N}$, $1 \leq i, j \leq 6$ e valutare il massimo tra i e j . Per esempio il valore $X = 1$ si ottiene solo in corrispondenza della coppia $(1, 1)$ mentre il valore $X = 6$ si ottiene per tutte le coppie $(6, j)$ e $(i, 6)$ che sono 11 (la coppia $(6, 6)$ va contata solo una volta) e così via:

$$\begin{aligned} P(X = 1) &= \frac{1}{36}, & P(X = 2) &= \frac{3}{36} \\ P(X = 3) &= \frac{5}{36}, & P(X = 4) &= \frac{7}{36} \\ P(X = 5) &= \frac{9}{36}, & P(X = 6) &= \frac{11}{36} \\ E(X) &= \frac{1}{36} + \frac{6}{36} + \frac{15}{36} + \frac{28}{36} + \frac{45}{36} + \frac{66}{36} \\ &= \frac{161}{36} \simeq 4.47 \end{aligned}$$

Esercizio 7.9.2 *Deve essere*

$$c + \frac{c}{2} + \frac{c}{3} = 1$$

da cui risulta

$$c = \frac{6}{11}$$

pertanto

$$P(X = 1) = \frac{6}{11}, \quad P(X = 2) = \frac{3}{11}, \quad P(X = 3) = \frac{2}{11}$$

Per calcolare valore atteso e deviazione standard applichiamo le definizioni

$$\mu = E(X) = \sum_{i=1}^3 i f(x_i) = \frac{18}{11} \simeq 1.636$$

$$E(X^2) = \sum_{i=1}^3 i^2 f(x_i) = \frac{36}{11},$$

$$V(X) = \frac{72}{121} \Rightarrow \sigma \simeq 0.77,$$

$$P(\mu - \sigma < X < \mu + \sigma) = P(0.866 < X < 2.406) = P(X = 1) + P(X = 2) = \frac{9}{11}.$$

Esercizio 7.9.3

a) Per dimostrare che la funzione è ben definita deve essere $f(x) \geq 0$ (la verifica è semplice) ed inoltre il suo integrale deve essere uguale a 1.

$$\begin{aligned} \int_0^1 f(x) dx &= \int_0^1 6(x - x^2) dx \\ &= 6 \int_0^1 (x^2 - x^3) dx = 6 \left[\frac{x^2}{2} - \frac{x^3}{3} \right]_0^1 = 1 \end{aligned}$$

b)

$$\begin{aligned} E(X) &= \int_0^1 6x(x - x^2) dx = 6 \int_0^1 (x^2 - x^3) dx \\ &= 6 \left[\frac{x^3}{3} - \frac{x^4}{4} \right]_0^1 = \frac{1}{2} \end{aligned}$$

$$\begin{aligned}
 E(X^2) &= \int_0^1 6x^2(x - x^2)dx = 6 \int_0^1 (x^3 - x^4)dx \\
 &= 6 \left[\frac{x^4}{4} - \frac{x^5}{5} \right]_0^1 = \frac{3}{10}.
 \end{aligned}$$

Quindi

$$V(X) = \frac{3}{10} - \frac{1}{4} = \frac{1}{20}.$$

Esercizio 7.9.4

a) Sicuramente $f(x) \geq 0$ per $x \in [-1, 1]$. L'integrale della funzione coincide con l'area di due triangoli rettangoli isosceli aventi cateto di lunghezza unitaria, quindi la somma delle aree è uguale a 1.

b) La funzione $f(x)$ è pari ma moltiplicata per x diventa dispari e quindi l'integrale tra -1 e 1, ovvero $E(X)$, è nullo.

c) Calcoliamo $E(X^2)$:

$$E(X^2) = \int_{-1}^1 x^2|x| dx = 2 \int_0^1 x^3 dx = \frac{1}{2}$$

quindi $V(X) = 1/2$ e la deviazione standard vale effettivamente $\sqrt{2}/2$.

d) Convieni calcolare geometricamente la probabilità richiesta senza ricorrere all'applicazione degli integrali

$$P(|X| < \sqrt{2}/2) = P(-\sqrt{2}/2 < X < \sqrt{2}/2) = 0.5.$$

Esercizio 7.9.5

a) Si procede in modo simile all'esercizio precedente.

b) $E(X) = 0$ perchè la funzione $f(x)$ è pari.

$$\begin{aligned}
 E(X^2) &= \int_{-1}^1 x^2(1 - |x|)dx = 2 \int_0^1 x^2(1 - x)dx \\
 &= 2 \int_0^1 (x^2 - x^3)dx = 2 \left[\frac{x^3}{3} - \frac{x^4}{4} \right]_0^1 = \frac{1}{6}
 \end{aligned}$$

Quindi

$$V(X) = \frac{1}{6}.$$

c) Anche in questo caso non conviene ricorrere all'uso di integrali, ma è meglio procedere per via geometrica. La probabilità richiesta vale $3/4$.

Esercizio 7.9.6

a) È palese che $f(x) \geq 0$, verifichiamo che l'integrale della funzione è 1.

$$\begin{aligned} \int_{-1}^1 f(x) dx &= \frac{3}{4} \int_{-1}^1 (1 - x^2) dx \\ &= 2 \frac{3}{4} \int_0^1 (1 - x^2) dx = \frac{3}{2} \left[x - \frac{x^3}{3} \right]_0^1 = 1. \end{aligned}$$

b) Calcoliamo valore atteso e varianza come da definizione:

$$\begin{aligned} E(X) &= \int_{-1}^1 \frac{3}{4} x(1 - x^2) dx = 0 \\ E(X^2) &= \frac{3}{4} \int_{-1}^1 x^2(1 - x^2) dx = \frac{3}{2} \int_0^1 (x^2 - x^4) dx \\ &= \frac{3}{2} \left[\frac{x^3}{3} - \frac{x^5}{5} \right]_0^1 = \frac{1}{5} \end{aligned}$$

c)

$$P(-2 < X < 0) = P(-1 < X < 0) = 0.5.$$

Esercizio 7.9.7

$$\begin{aligned} E(X) &= \int_{-\sqrt{3}/2}^{1/2} x|2x| dx = 2 \int_{-\sqrt{3}/2}^0 (-x^2) dx + 2 \int_0^{1/2} x^2 dx \\ &= 2 \left[-\frac{x^3}{3} \right]_{-\sqrt{3}/2}^0 + 2 \left[\frac{x^3}{3} \right]_0^{1/2} = -\frac{\sqrt{3}}{4} + \frac{1}{12}. \end{aligned}$$

$$E(X^2) = \int_{-\sqrt{3}/2}^{1/2} x|2x| dx = 2 \int_{-\sqrt{3}/2}^0 (-x^3) dx + 2 \int_0^{1/2} x^3 dx = \frac{5}{16}.$$

Dopo vari calcoli risulta

$$V(X) \simeq 0.045$$

b)

$$P(-1/3 < X < 1/3 | X > 0) = \frac{P(0 < X < 1/3)}{P(X > 0)} = \frac{4}{9}.$$

Esercizio 7.9.8

a) Imponendo che l'integrale tra -1 e 1 di $f(x)$ sia uguale a 1 troviamo

$$C = \frac{1}{2}.$$

b)

$$E(X) = \frac{1}{2} \int_{-1}^1 x(1+x)dx = \frac{1}{2} \int_{-1}^1 (x+x^2)dx$$

$$= \frac{1}{2} \int_{-1}^1 x^2 dx = \frac{1}{3}.$$

$$E(X^2) = \frac{1}{2} \int_{-1}^1 x^2(1+x)dx = \frac{1}{2} \int_{-1}^1 (x^2+x^3)dx$$

$$= \int_0^1 x^2 dx = \frac{1}{3}.$$

$$V(X) = \frac{2}{9}.$$

c)

$$P(X \geq 0 | X \leq 3/4) = \frac{P(0 \leq X \leq 3/4)}{P(-1 \leq X \leq 3/4)} = \frac{33}{49}.$$